


제 4 교시

사회탐구 영역(사회·문화)

성명	수험 번호
----	-------

1. 밑줄 친 ㉠~㉣과 같은 현상의 일반적 특징에 대한 옳은 설명을 <보기>에서 고른 것은?

폭염과 가뭄으로 ㉠더위에 강한 일본 뇌염 모기가 증가하고 있다고 하는군.  
 ㉡태풍으로 물웅덩이가 증가하면 일반 모기 개체 수도 늘어날 거야. 보건 당국의 ㉢방역 관리가 필요하겠네.



<보기>

- ㄱ. ㉠과 같은 현상은 ㉡과 같은 현상과 달리 특수성의 원리가 적용된다.
- ㄴ. ㉠과 같은 현상이 원인이 되어 ㉣과 같은 현상이 나타날 수 있다.
- ㄷ. ㉡과 같은 현상은 ㉢과 같은 현상과 달리 개연성과 확률의 원리가 적용된다.
- ㄹ. ㉡과 같은 현상은 존재 법칙, ㉢과 같은 현상은 당위 법칙이 적용된다.

- ① ㄱ, ㄴ    ② ㄱ, ㄷ    ③ ㄴ, ㄷ    ④ ㄴ, ㄹ    ⑤ ㄷ, ㄹ

2. 가족을 보는 서로 다른 관점 (가), (나)에 대한 진술로 가장 적절한 것은? [3점]

(가) 사람들이 다른 혈족에서 배우자를 구하는 이유는 무엇일까? 다른 혈족과의 결혼이 우호적인 집단을 넓히고 적대적인 집안과도 동맹을 맺어 가족이 생존하는 데 유리하다고 판단했기 때문이다. 그러므로 근친 간 결혼은 외부와의 결혼에 비해 비합리적인 선택이 된다.  
 (나) 산업 사회에서 핵가족이 늘어난 원인은 무엇일까? 산업화에 따라 산업 현장에서 대규모의 노동력이 요구되면서 사람들이 일자리를 찾아 각자의 직장 근처로 이주하게 되었기 때문이다. 그러므로 핵가족은 산업 사회의 중요한 하부 체계이다.

- ① (가) 관점은 가족 구성원 간의 상호 의존을 통한 가족 역할의 재구성을 강조한다.
- ② (나) 관점은 다른 사회 집단과 마찬가지로 가족 또한 구성원 간 권력 관계의 장임을 강조한다.
- ③ (가) 관점은 (나) 관점에 비해 가족 관계에서 얻을 수 있는 보상이 지불해야 하는 비용보다 클 때 가족이 유지됨을 강조한다.
- ④ (나) 관점은 (가) 관점에 비해 가족 구성원 간의 상호 작용을 통해 가족의 생활 경험에 의미를 부여함을 강조한다.
- ⑤ (가) 관점은 가족이 사회 유지에 기여하는 측면, (나) 관점은 가족이 사회 변동에 영향을 주는 측면을 강조한다.

[3~4] 다음 글을 읽고 물음에 답하시오.

(가) 구성원에게 물질적 성공이라는 가치를 고무시키는 사회에서 모두가 이러한 성공에 도달할 수 있는 합법적 수단을 갖는 것은 아니다. 그래서 제도적 수단이 제한적인 하층에서 범죄를 저지를 가능성이 높다. 이를 검증하기 위해서는 계층을 개념화하고 범죄를 유형화하여 이들 간의 상관 관계를 분석하는 ㉠ 연구 방법을 사용해야 한다.  
 (나) 범죄도 학습의 산물이다. 친구나 가족으로부터 범죄 태도와 행동을 배운다. 특히 약물 범죄의 경우 약물에 대한 우호적 태도와 사용 기술이 요구되므로 경험자와의 연줄이 중요하다. 이를 파악하기 위해서는 심층 면접을 통해 약물 사용에 동조하고 함께하는 친구와의 연결망을 형성하는 과정을 이해할 수 있는 ㉡ 연구 방법을 사용해야 한다.

3. (가), (나)에 나타난 일탈 이론에 대한 설명으로 가장 적절한 것은?

- ① (가) 이론은 경제 구조의 특성과 그로 인한 계급 간 갈등을 일탈의 원인으로 본다.
- ② (가) 이론은 문화적 목표에 도달할 기회의 제공을 해결 방안으로 중시한다.
- ③ (나) 이론은 무규범 상태를 일탈의 원인으로 본다.
- ④ (나) 이론은 일탈에 대한 규정을 신중하게 하는 것을 해결 방안으로 중시한다.
- ⑤ (가), (나) 이론 모두 일탈을 규정하는 객관적 기준이 존재하지 않는 것으로 본다.

4. 밑줄 친 ㉠, ㉡과 같은 연구 방법의 일반적 특징에 대한 설명으로 옳지 않은 것은? [3점]

- ① ㉠과 같은 방법은 경험적 자료를 통해 연구 대상자의 가치나 태도를 객관적으로 파악하고자 한다.
- ② ㉡과 같은 방법은 직관적 통찰을 통해 주로 인간 행위의 이면보다 행위 자체를 분석하고자 한다.
- ③ ㉠과 같은 방법은 ㉡과 같은 방법에 비해 연구 결과를 일반화할 수 있어 현상에 대한 예측력이 높다.
- ④ ㉡과 같은 방법은 ㉠과 같은 방법에 비해 연구자와 연구 대상자 간의 정서적 교감을 중시한다.
- ⑤ ㉠과 같은 방법은 방법론적 일원론, ㉡과 같은 방법은 방법론적 이원론에 기초하고 있다.

5. 밑줄 친 '이 문화'에 대한 설명으로 옳지 않은 것은?

이 문화의 대표적인 사례로 1960년대 미국을 중심으로 등장한 후 여러 나라로 퍼져 나간 청년 문화를 들 수 있다. 이 청년 문화는 기존 사회 제도에 동조하지 않고, 도덕이나 이성보다는 자연스럽게 자유로운 감성과 즐거움을 추구했다. 이 청년 문화를 추구하는 이들은 긴 머리에 맨발로 다니거나 샌들을 신고, 여러 색깔의 천으로 옷을 만들어 입었다. 또한 베트남 전쟁 참전을 위한 징집을 거부했다.

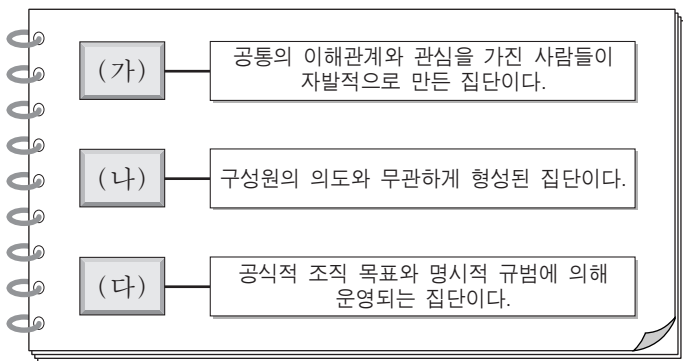
- ① 사회 변화를 견인하는 역할을 하기도 한다.
- ② 지배 집단에 의해 일탈 문화로 규정되기도 한다.
- ③ 전체 문화에 다양성과 역동성을 제공하기도 한다.
- ④ 해당 집단 구성원의 욕구 해결에 기여하기도 한다.
- ⑤ 전체 사회 구성원의 문화 공유성을 높이기도 한다.

6. (가), (나)에 나타난 문화 이해의 태도에 대한 설명으로 옳지 않은 것은?

(가) 예전에 많은 한국인들은 품질과 상관없이 국산 가전 제품을 하찮게 여기고 수입 가전제품을 동경하였다. 요즘도 의류나 화장품을 선택할 때 한국 제품보다 외국 제품을 동경하는 경향이 있다.  
 (나) 16세기에 아메리카 대륙으로 이주한 유럽인들은 원주민들을, 서구의 사상을 바탕으로 한 교양을 갖추지 않았다는 이유로 이성을 지닌 인간이 아닌 야수라고 보았다.

- ① (가) 태도는 문화적 주체성을 상실할 가능성이 높다.
- ② (가) 태도는 타문화의 장점을 객관적으로 인식하는 데 기여한다.
- ③ (나) 태도는 문화 제국주의로 변질될 가능성이 높다.
- ④ (나) 태도는 집단 구성원의 결속력을 강화하는 데 일조한다.
- ⑤ (가), (나) 태도 모두 문화 간 우열이 있음을 전제한다.

7. (가)~(다)에 해당하는 사회 집단 유형에 대한 옳은 설명을 <보기>에서 고른 것은? [3점]



가. 시민 단체는 (가), (다) 모두에 해당한다.  
 나. (다) 안에 존재하는 (가)는 모두 비공식 조직이다.  
 다. (나)는 (다)에 비해 비공식적이고 전인격적인 인간관계가 주로 나타난다.  
 르. (가), (나) 모두 구성원의 가입과 탈퇴가 자유롭다.

- ① 가, 나    ② 가, 다    ③ 나, 다    ④ 나, 르    ⑤ 다, 르

8. 사회 조직 유형 (가), (나)의 일반적 특징을 다음과 같이 비교할 때, A와 B에 들어갈 적절한 질문만을 <보기>에서 있는 대로 고른 것은? (단, (가)와 (나)는 각각 관료제와 탈관료제 중 하나이다.) [3점]

질문	사회 조직 유형	
	(가)	(나)
경력보다 업무 성과를 고려한 차등적 보상을 중시하는가?	아니요	예
A	예	아니요
B	아니요	예

— <보기> —  
 가. 효율적인 과업 수행을 지향하는가?  
 나. 의사 결정 권한의 집중보다 분산을 지향하는가?  
 다. 조직의 운영에서 유연성보다 안정성을 중시하는가?  
 르. 규약에 따른 과업 수행보다 창의적 과업 수행을 중시하는가?

- |   |          |          |   |          |          |
|---|----------|----------|---|----------|----------|
|   | <u>A</u> | <u>B</u> |   | <u>A</u> | <u>B</u> |
| ① | 가        | 나, 르     | ② | 가, 다     | 나, 르     |
| ③ | 나, 르     | 가, 다     | ④ | 다        | 나, 르     |
| ⑤ | 다        | 가, 나, 르  |   |          |          |

9. 밑줄 친 ㉠~㉣에 대한 설명으로 가장 적절한 것은?

㉠ 화가가 되기를 원했던 갑은 교사가 되기를 바라는 부모의 뜻을 거역하고 싶지 않아 ㉡ 마음이 복잡했다. 그러나 ㉢ 담임교사가 부모를 설득하여 ㉣ 미술 대학 진학을 허락받았다. 그는 서양화과에 지원하려고 했지만 부모는 동양화과를 권유했다. 갑은 부모가 미술 대학 진학을 허락했기 때문에 일단은 ㉤ 동양화과를 가지 않으면 안 된다고 생각했다. 지금 그는 ㉥ 동양화의 대가로 인정받고 있다.

- ① ㉠은 갑의 준거 집단이자 갑의 부모의 준거 집단이다.
- ② ㉡은 역할 갈등이 아니지만, ㉣은 역할 갈등이다.
- ③ ㉢은 ㉠과 달리 후천적 노력에 의해 획득된 지위이다.
- ④ ㉣은 공식적 사회화 기관이면서 1차적 사회화 기관이다.
- ⑤ ㉥은 ㉠으로서 갑의 역할 수행에 대한 보상이다.

10. (가), (나)에서 강조하고 있는 사회·문화 현상의 탐구 태도에 대한 설명으로 가장 적절한 것은?

(가) 연구자는 사회·문화 현상 연구에서 얻은 결과를 확정하려고 고집하기보다는 잠정적 결론으로 보고 다른 연구자의 의견을 고려함으로써 좀 더 타당한 주장이나 결론으로 대체할 수 있음을 인정해야 한다.  
 (나) 동일한 사회·문화 현상이라도 시대와 사회에 따라 그 현상이 가지는 의미가 달라질 수 있으므로 연구자는 사회·문화 현상 연구에서 역사적 전통과 사회적 맥락을 충분히 고려해야 한다.

- ① (가)는 현상을 사실 그 자체에 초점을 두어 파악하는 태도이다.
- ② (나)는 타인의 비판을 편견 없이 받아들이는 태도이다.
- ③ (가)는 (나)와 달리 현상에 대한 깊이 있는 성찰을 중시한다.
- ④ (나)는 (가)와 달리 현상이 지닌 고유한 가치에 대한 인정을 중시한다.
- ⑤ (가)는 연구 대상자의 관점, (나)는 제3자의 관점을 중시한다.

11. 다음에 나타난 사회 계층화 현상을 바라보는 관점에 부합하는 진술을 <보기>에서 고른 것은? [3점]

인체를 구성하는 모든 부분들은 인간의 생명 유지를 위해 필요하다. 그런데 심장과 머리카락의 역할이 동일하게 중요한 것은 아니다. 심장이 튼튼한 갈비뼈로 둘러싸여 있는 것은 그것이 인체의 생명 활동과 관련하여 머리카락보다 중요한 역할을 하기 때문이다. 이와 같은 논리로 직업 간에 발생하는 보수의 차이도 그 직업이 갖는 사회적 중요도의 차이로 설명할 수 있다.

—<보기>—  
ㄱ. 균등 분배는 사회 구성원의 성취 동기를 저해한다.  
ㄴ. 균등 분배는 기존 질서의 유지와 안정에 기여한다.  
ㄷ. 균등 분배는 인재의 적재적소 배치에 어려움을 야기한다.  
ㄹ. 균등 분배는 사회적 희소 가치를 공정하게 배분하는 기제이다.

- ① ㄱ, ㄴ    ② ㄱ, ㄷ    ③ ㄴ, ㄷ    ④ ㄴ, ㄹ    ⑤ ㄷ, ㄹ

12. 밑줄 친 ㉠~㉣에 대한 옳은 설명만을 <보기>에서 있는 대로 고른 것은? [3점]

연구자 갑은 ㉠초등학교 1학년 96명을 선정하여 ㉡성별, 언어 능력 등에서 차이가 나지 않도록 조정하여 4개 집단을 구성하였다. 이를 통해 아동의 ㉢문장 독해력이 ㉣교수법에 따라 차이가 나는지, 특히 상징적 교수법이 더 효과적인지를 파악하고자 하였다. ㉤4개 집단은 각각 상징적, 음성적, 표출적, 해석적 교수법에 따라 동일 기간 학습하였다. 문장 이해 능력 검사를 실시한 결과 상징적 교수법으로 배운 집단이 다른 교수법으로 배운 집단에 비해 ㉥점수가 더 높았다.

—<보기>—  
ㄱ. ㉠은 모집단, ㉡은 표본이다.  
ㄴ. ㉢은 독립 변수 외의 다른 변수를 통제하기 위한 작업이다.  
ㄷ. ㉣은 독립 변수, ㉤은 종속 변수이다.  
ㄹ. ㉥은 ㉣을 조작적으로 정의하여 얻은 1차 자료이다.

- ① ㄱ, ㄴ    ② ㄱ, ㄷ    ③ ㄴ, ㄹ  
④ ㄱ, ㄷ, ㄹ    ⑤ ㄴ, ㄷ, ㄹ

13. 다음 글을 통해 추론할 수 있는 내용으로 가장 적절한 것은?

A 종교가 국교(國敎)인 사회에서 B 종교 신자는 사회적 소수자가 될 수 있다. 반대로 A 종교 신자는 B 종교가 지배적인 사회에 가면 사회적 소수자가 될 수 있다.

- ① 사회적 소수자는 사회에 의해 규정된다.  
② 사회적 소수자는 역차별에 의한 결과이다.  
③ 한 사회 안에서 지배 집단이 사회적 소수자가 되기도 한다.  
④ 사회적 소수자는 권력 관계보다는 집단의 크기에 의해 결정된다.  
⑤ 사회적 소수자의 집단 내에서도 또 다른 사회적 소수자가 존재한다.

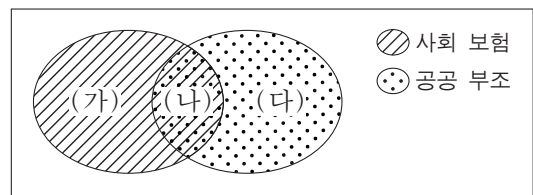
14. 밑줄 친 ㉠~㉣에 대한 옳은 설명만을 <보기>에서 있는 대로 고른 것은?

정보 사회에서는 ㉠뉴미디어가 ㉡전통적인 대중 매체를 대체할 것이라고 기대되었다. 그러나 예전에 비해 줄었지만 전통적인 대중 매체의 영향력은 여전히 크다. 전문가들은 그 이유 중 하나로 ㉢대중의 특성을 거론한다. 전통적인 대중 매체는 수용자가 가만히 있어도 정보를 제공하는데, 뉴미디어는 수용자 스스로 찾아 나서지 않으면 정보 획득이 어렵다. 그래서 대중은 여전히 전통적인 대중 매체에 매력을 느낀다.

—<보기>—  
ㄱ. ㉠에는 스마트폰과 소셜 네트워크 서비스(SNS), ㉡에는 신문과 라디오가 해당된다.  
ㄴ. ㉠은 ㉡에 비해 정보 전달자와 수용자 간에 상호 작용성이 뛰어나다.  
ㄷ. ㉢에서는 ㉠과 달리 수용자별 정보 획득의 비동시성이 나타난다.  
ㄹ. 정보 수집에서의 수동적인 성향은 ㉢에 해당한다.

- ① ㄱ, ㄴ    ② ㄱ, ㄷ    ③ ㄷ, ㄹ  
④ ㄱ, ㄴ, ㄹ    ⑤ ㄴ, ㄷ, ㄹ

15. 그림은 사회 보험과 공공 부조가 갖는 특징의 공통점과 차이점을 도식화한 것이다. (가)~(다)에 해당되는 내용으로 옳은 것은?



- ① (가) - 수혜자의 수혜 정도에 따라 보험료가 산출된다.  
② (가) - 빈곤층의 최저 생활 보장을 목적으로 한다.  
③ (나) - 소득 재분배 효과가 나타난다.  
④ (다) - 사전 예방적 성격을 갖는다.  
⑤ (다) - 상호 부조의 성격을 갖는다.

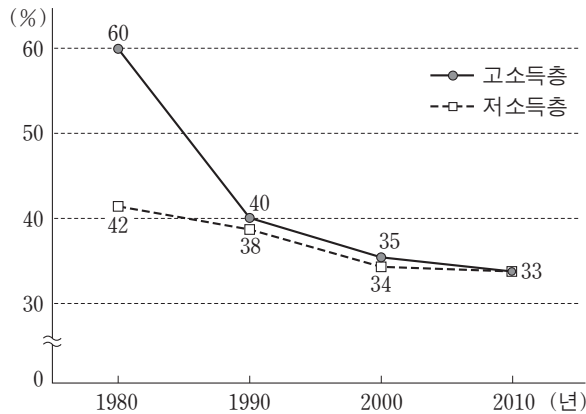
16. 다음은 근대화를 설명하는 한 주장이다. 이에 대한 옳은 진술만을 <보기>에서 있는 대로 고른 것은? [3점]

근대화라는 것은 기술 발전, 공업화, 민주주의, 개인주의의 확산을 가리킨다. 서구 사회가 이를 먼저 이루어냈으므로 근대화와 서구화가 동일시되는 것은 당연하다. 따라서 우리나라의 근대화를 위해서는 서구 사회의 경제 발전 모델뿐만 아니라 서구 사회의 제도와 사고 방식도 배워야 한다.

—<보기>—  
ㄱ. 서구화를 진보적인 사회 변동으로 본다.  
ㄴ. 근대화를 위한 내부의 자생력 강화를 강조한다.  
ㄷ. 서구 강대국의 식민 정책을 정당화하는 근거로 활용될 수 있다.  
ㄹ. 전통적 가치와 서구적 가치의 조화를 추구하는 근대화를 강조한다.

- ① ㄱ, ㄴ    ② ㄱ, ㄷ    ③ ㄴ, ㄹ  
④ ㄱ, ㄷ, ㄹ    ⑤ ㄴ, ㄷ, ㄹ

17. 그림은 갑국의 고소득층과 저소득층의 남녀 간 평균 임금 격차 추이를 나타낸 것이다. 이에 대한 분석으로 옳은 것은? (단, 고소득층과 저소득층 모두에서 남성 평균 임금은 지속적으로 상승하였다.) [3점]



\* 남녀 간 평균 임금 격차(%) = (남성 평균 임금 - 여성 평균 임금) ÷ 남성 평균 임금 × 100

- ① 1980년에 고소득층에서 여성 평균 임금은 전체 평균 임금의 40%이다.
- ② 1990년에 저소득층 여성 평균 임금은 10년 전과 비교하여 4% 증가하였다.
- ③ 1990년 대비 2000년에 고소득층에서 남성 평균 임금의 상승률이 여성 평균 임금의 상승률보다 크다.
- ④ 2010년에 고소득층과 저소득층의 남녀 간 평균 임금의 차이는 같다.
- ⑤ 1980년, 2010년 모두 저소득층에서 여성 평균 임금은 남성 평균 임금의 50%를 넘는다.

18. (가)~(마)에 대한 학생들의 발표 내용으로 옳지 않은 것은? [3점]

○ 과제: 모둠별로 주어진 각각의 다른 '문화의 속성'을 설명하는 데 적합한 주제를 조사하십시오.

○ 모둠별로 제출한 조사 주제

모둠	문화의 속성	조사 주제
1	(가)	조선 시대의 음식에 영향을 준 당시의 유교 문화와 농경 문화
2	(나)	우리나라 청소년 특유의 언어에 대한 청소년과 성인 간 이해 양상의 차이
3	(다)	우리나라의 민간 신앙이 복잡해지고 풍부해진 과정
4	변동성	(라)
5	학습성	(마)

○ 교사의 평가: 모든 모둠이 해당 문화의 속성을 설명하는 데 적합한 조사 주제를 선정했음.

- ① 갑: (가)는 문화 요소들의 연쇄적인 변동을 설명하기에 용이해요.
- ② 을: (나)로 인해 사회 구성원 간의 행동을 이해하고 예측할 수 있어요.
- ③ 병: (다)는 인류 문명의 발달을 가능하게 하는 바탕이 돼요.
- ④ 정: (라)에 들어갈 내용으로 '서로 다른 나라에서 자란 일란성 쌍둥이 형제의 사고 방식 차이 비교'가 적절해요.
- ⑤ 무: (마)에 들어갈 내용으로 '결혼 이주 여성의 거주 지역별 사투리 사용 실태'가 적절해요.

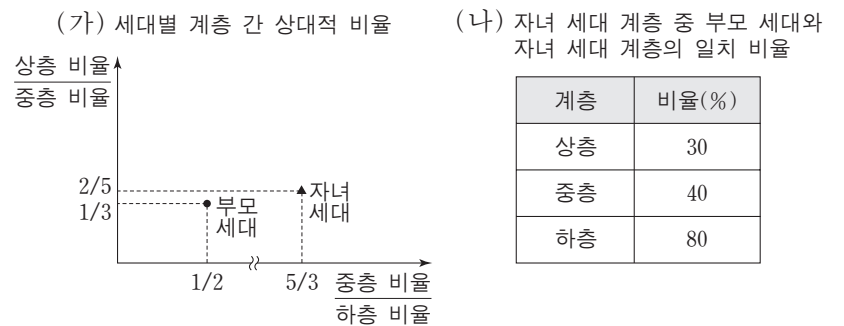
19. (가), (나)에 나타난 문화 변동에 대한 설명으로 가장 적절한 것은?

(가) 과거에 미국의 음악이 라디오나 음반을 통해 한국에 유입되어 인기를 끌게 되면 그 음악을 부른 가수의 팬클럽이 생기고 그 가수가 입은 의상이 유행하였다. 최근에는 한국의 대중 음악이 인터넷을 통해 '한류'라는 이름으로 세계 여러 곳에서 인기를 누리고 있다.

(나) 1990년대 이후 한국 사회에 결혼이나 노동을 위해 유입된 이주민이 증가하면서 그들의 다양한 문화가 확산되고 있다. 이에 따라 한국 사회에서 지배적이었던 단일 민족 사상을 대신해 다문화주의가 중요한 사회적 가치로 받아들여지고 있다.

- ① (가)에서는 직접 전파, (나)에서는 간접 전파가 나타난다.
- ② (가)와 달리 (나)에서는 자극 전파에 따른 문화 변동이 나타난다.
- ③ (나)와 달리 (가)에서는 구성원의 자발성에 기초한 문화 변동이 나타난다.
- ④ 세계화가 진행될수록 (가)보다 (나)에 나타난 문화 변동 요인의 영향력이 커진다.
- ⑤ (가), (나) 모두 외재적 요인에 의한 문화 접변에 해당한다.

20. (가), (나)는 갑국의 부모 세대와 자녀 세대 간 계층 이동을 나타낸 것이다. 이에 대한 옳은 분석만을 <보기>에서 있는 대로 고른 것은? (단, 계층은 상층, 중층, 하층으로만 구분한다.) [3점]



〈보기〉

- ㄱ. 세대 간 이동을 경험한 비율은 50%이다.
- ㄴ. 부모 세대의 계층 대비 계층 대물림 비율은 하층에서 가장 낮다.
- ㄷ. 부모 세대보다 자녀 세대의 계층 구조가 더 안정적이며 개방적이다.
- ㄹ. 세대 간 상승 이동을 한 사람보다 세대 간 하강 이동을 한 사람이 더 많다.

- ① ㄱ, ㄴ                      ② ㄱ, ㄷ                      ③ ㄷ, ㄹ
- ④ ㄱ, ㄴ, ㄹ                ⑤ ㄴ, ㄷ, ㄹ

\* 확인 사항  
○ 답안지의 해당란에 필요한 내용을 정확히 기입(표기)했는지 확인하십시오.