

## 2018학년도 대학수학능력시험 문제 및 정답

- 매교시 종료 후 탑재됩니다.(중증 시각 장애 수험생 시험시간 기준)
- 모든 문제 및 정답은 PDF파일로 되어 있습니다.(단, 듣기 파일은 MP3파일)
- 탑재된 파일은 수험생에게 제공된 문제지와 다르게 보일 수도 있습니다.

### 저작권 안내

이 문제지에 관한 저작권은 한국교육과정평가원에 있습니다.  
한국교육과정평가원의 허락없이 문제의 일부 또는 전부를 무단 복제, 배포, 출판,  
전자출판 하는 등 저작권을 침해하는 일체의 행위를 금합니다.



제 4 교시

사회탐구 영역 (생활과 윤리)

성명

수험 번호

1. ㉠에 들어갈 진술로 가장 적절한 것은?

나는 윤리학의 근본 과제가 현실에서 적용 가능한 도덕적 규범이나 원칙을 탐구하여 이를 구체적인 삶의 문제에 적용하는 것이라고 본다. 그런데 어떤 사람들은 현실적 도덕이 삶에 대한 경험의 일부이기 때문에 경험적으로 연구될 수 있다는 관점에서 윤리학의 근본 과제가 어떤 문화나 사회의 도덕적 현상을 가치 판단 없이 객관적으로 기술하는 것이라고 본다. 나는 이러한 입장이 ㉠ 고 생각한다.

- ① 도덕 추론에 대한 논리적 구조 분석의 필요성을 주장한다
- ② 도덕 현상의 인과 관계에 대한 탐구의 가능성을 부정한다
- ③ 실천적 규범을 통한 도덕 문제 해결의 중요성을 경시한다
- ④ 현실적 도덕에 대한 가치 중립적 설명의 필요성을 무시한다
- ⑤ 보편적 도덕규범의 이론적 체계 구성의 중요성을 강조한다

2. 다음 가상 편지의 ㉠에 대한 옳은 설명을 <보기>에서 고른 것은?

○○에게  
 얼마 전 자네가 가정을 이루었다는 말을 듣고 몹시 기뻐다네. 공자는 “경(敬)으로써 자신을 수양하고, 자신을 수양하여 다른 사람을 편안하게 해 주어라.”라고 말했다네. 이러한 가르침은 ㉠ 간의 도리에 대해서도 마찬가지라고 생각하네. ㉠ 은/는 서로 다른 환경에서 오랫동안 성장하여 만난 두 사람이지만, 자네가 상대를 아끼는 마음으로 손님을 대하듯 존중한다면 어찌 백년해로(百年偕老)할 수 없겠는가? …(후략)…

<보기>

- ㄱ. 혼인(婚姻)을 통해 맺어진 가족 관계이다.
- ㄴ. 상경여빈(相敬如賓)을 실천해야 하는 관계이다.
- ㄷ. 향렬(行列)에 따라 서로 역할을 분담하는 관계이다.
- ㄹ. 동기간(同氣間)으로서 배려해야 하는 가족 관계이다.

- ① ㄱ, ㄴ    ② ㄱ, ㄷ    ③ ㄴ, ㄷ    ④ ㄴ, ㄹ    ⑤ ㄷ, ㄹ

3. 다음 서양 사상가가 부정의 대답을 할 질문으로 가장 적절한 것은? [3점]

거의 정의롭지만 정의에 대한 심각한 위반이 발생하기도 하는 사회에서 시민 불복종이 성립한다. 시민 불복종은 신중하고 양심적인 정치적 신념의 표현인 청원의 한 형태이므로 공개 석상에서 이루어지며, 어떤 개인적 도덕 원칙이나 종교적 교설이 아닌 공유된 정의관에 의거해야 한다. 정당한 시민 불복종이 시민 화합을 해치는 것으로 보이면, 그 책임은 불복종하는 자들이 아니라 권위와 권력을 남용한 자들에게 있는 것이다.

- ① 시민 불복종의 주체는 체제의 합법성을 인정하는 시민인가?
- ② 시민 불복종의 의도는 동료 시민들에게 공포되어야 하는가?
- ③ 시민 불복종은 공동체의 정의감에 호소하는 정치 행위인가?
- ④ 시민 불복종의 목적에서 정부 정책의 개혁은 제외되어야 하는가?
- ⑤ 시민 불복종은 어떠한 합법적 방법도 효과가 없을 때 행해져야 하는가?

4. 갑, 을의 사상적 입장에 대한 옳은 설명을 <보기>에서 고른 것은?

갑: 지인(至人)은 무위(無爲)하다. 도(道)에는 시작도 끝도 없지만 만물에는 죽음도 있고 삶도 있다. 근본에서 보자면 삶이란 기(氣)가 모인 것이다.  
 을: 이것이 있기 때문에 저것이 있다. 이를 일컬어 인연법(因緣法)이라고 한다. 삶이 있으므로 늙음과 죽음이 있고, 삶을 떠나서는 늙음과 죽음도 없다.

<보기>

- ㄱ. 갑: 죽음은 기가 모이고 흩어지는 과정의 일부임을 강조한다.
- ㄴ. 갑: 죽음에 대한 성찰과 애도(哀悼)의 의무를 강조한다.
- ㄷ. 을: 연기(緣起)에 대한 깨달음을 추구하는 삶을 강조한다.
- ㄹ. 갑, 을: 삶과 죽음을 분별하여 고통에서 벗어날 것을 강조한다.

- ① ㄱ, ㄴ    ② ㄱ, ㄷ    ③ ㄴ, ㄷ    ④ ㄴ, ㄹ    ⑤ ㄷ, ㄹ

5. (가), (나)의 입장으로 가장 적절한 것은? [3점]

(가) 어떤 행위는 타당한 행위 규칙에 일치하면 옳고, 그 규칙을 위반하면 그르다. 행위 규칙의 타당성을 결정하는 척도는 유용성이다. 윤리적 의사 결정은 더 큰 유용성을 산출하는 규칙에 근거해야 한다.  
 (나) 어떤 행위 규범은 관련된 모든 당사자들이 자유롭게 평등한 담론을 통해 동의할 수 있는 것이어야 정당화될 수 있다. 규범적으로 정당한 실천적 담론은 의사소통의 일반적 전제 조건들에 근거해야 한다.

- ① (가): 어떤 규칙이 최대 유용성을 산출하는지는 알 수 없다.
- ② (가): 유용성의 원리는 행위 규칙이 아니라 개별 행위에 적용된다.
- ③ (나): 모든 당사자들은 보편화 가능한 행위 규범에 합의할 수 있다.
- ④ (나): 담론의 참여자들은 서로의 주장을 비판해서는 안 된다.
- ⑤ (가), (나): 결과에 대한 고려 없이 규칙이나 규범의 타당성을 판단해야 한다.

6. 다음 서양 사상가의 입장을 <보기>에서 고른 것은?

- 만약 즐거움을 위한 시가 훌륭한 법질서를 갖는 국가 안에 존재해야 할 이유가 있다면, 우리는 기꺼이 시를 받아들일 것이다. 시가 즐거움을 줄 뿐만 아니라 국가와 인간 생활에 이로운 것임이 밝혀진다면 우리에게도 분명 이득이 될 것이기 때문이다.
- 시인이나 설화 작가들이 모방을 할 경우에는, 용감하고 절제 있고 경건하며 자유인다운 사람들을 모방해야만 한다. 반면에 그 어떤 창피스러운 것도 모방하지 말아야 하며, 이런 것을 모방하는 데 능한 사람들이 되어서도 안 된다.

— < 보 기 > —

- ㄱ. 예술은 선의 실현에 기여해야 한다.
- ㄴ. 예술은 진리를 왜곡할 경우 비판받아야 한다.
- ㄷ. 예술에서 미와 선의 내용은 유사할 필요가 없다.
- ㄹ. 예술은 사물의 실재보다 외관을 아름답게 모방해야 한다.

- ① ㄱ, ㄴ    ② ㄱ, ㄷ    ③ ㄴ, ㄷ    ④ ㄴ, ㄹ    ⑤ ㄷ, ㄹ

7. 그림의 강연자가 지지할 입장으로 가장 적절한 것은? [3점]

정의로운 전쟁을 옹호하는 저의 주장은 두 가지입니다. 전쟁은 때로는 정당화될 수 있다는 것과 전쟁은 언제나 도덕 판단의 대상이 된다는 것입니다. 여기서 도덕 판단의 근거는 효용 계산의 결과가 아니라 인간의 생명과 자유에 대한 권리입니다. 또한 전쟁에 대한 도덕 판단의 영역은 개시, 수행, 종결의 세 가지로 구분됩니다. 어떤 전쟁이 정의로운지를 판단할 때는 전쟁 개시의 영역이 전쟁 수행의 영역보다 우선합니다. 전쟁 개시에서 가장 중요한 것은 정당한 명분입니다.



- ① 전쟁은 어떠한 도덕적 명분으로도 정당화될 수 없다.
- ② 전쟁의 정당한 명분을 사회 전체의 효용에서 찾아야 한다.
- ③ 전쟁의 정당한 명분보다 전쟁 수행의 규범을 중시해야 한다.
- ④ 전쟁은 국가의 주권 사항이므로 도덕적 평가에서 제외되어야 한다.
- ⑤ 전쟁 개시의 정당한 명분만으로 그 전쟁이 정의롭다고 단정할 수 없다.

8. 갑, 을의 입장에 대한 설명으로 가장 적절한 것은? [3점]

갑: '결혼 없는 성'은 비도덕적이다. 부부만이 성적 관계에서 서로의 인격을 존중해야 할 의무를 다할 수 있으며, 출산을 통한 사회 안정과 책임 있는 성 문화 유지에 기여할 수 있다. 부부 사이의 성적 관계만이 도덕적으로 정당하다.

을: '사랑 없는 성'은 비도덕적이다. 결혼이 아니라 사랑이 도덕적 성의 조건이며, 사랑하는 사람들만이 성적 관계에서 서로의 인격을 존중해야 할 의무를 다할 수 있다. 사랑하는 사람들 사이의 성적 관계만이 도덕적으로 정당하다.

- ① 갑은 부부만이 정당한 성적 관계의 주체는 아니라고 본다.
- ② 갑은 성적 관계의 정당성이 사회 존속과는 무관하다고 본다.
- ③ 을은 자발적인 동의에 근거한 성적 관계는 항상 정당하다고 본다.
- ④ 을은 성적 관계가 부부 사이에서만 정당화될 수 있다고 본다.
- ⑤ 갑, 을은 성적 관계에서 서로의 인격적 가치를 존중해야 한다고 본다.

9. (가)의 사상가 갑, 을, 병의 입장을 (나) 그림으로 탐구할 때, A~D에 해당하는 적절한 질문만을 <보기>에서 있는 대로 고른 것은?

(가)	<p>갑: 분배적 정의는 가령 사람 a와 b가 각각 물건 c와 d를 얻기 전과 후의 비율이 동등할 때 성립한다는 점에서 기하학적 비례를 추구하는 것이다.</p> <p>을: 분배적 정의의 핵심 과제는 사회 체제의 선택이다. 사회 체제는 특수한 상황의 우연성을 처리하기 위해 순수 절차적 정의의 관념에 따라 기획되어야 한다.</p> <p>병: 분배적 정의는 중립적인 개념이 아니다. 중립적인 개념은 '개인의 소유물'이다. 모든 개인이 자신의 소유물에 대해 소유 권리를 갖는 것이 정의이다.</p>
(나)	<div style="text-align: right; margin-bottom: 10px;"> <p>— &lt; 범 례 &gt; —</p> <ul style="list-style-type: none"> <li>□ : 출발 조건</li> <li>◇ : 판단 내용</li> <li>→ : 판단 방향</li> <li>⌋ : 사상가의 입장</li> </ul> </div>

— < 보 기 > —

- ㄱ. A: 분배적 정의만이 비례를 추구하는 특수적 정의인가?
- ㄴ. B: 경제적 불평등은 모두에게 이익이 되어야 정당한가?
- ㄷ. C: 원초적 입장에서 개인은 모두의 이익에 관심을 갖는가?
- ㄹ. D: 개인의 자연적 재능을 공동의 소유물로 여기는 것은 부당한가?

- ① ㄱ, ㄷ                      ② ㄴ, ㄹ                      ③ ㄷ, ㄹ  
 ④ ㄱ, ㄴ, ㄷ                ⑤ ㄱ, ㄴ, ㄹ

10. (가) 사상의 입장에서 (나) 상황 속 A에게 제시할 조언으로 가장 적절한 것은? [3점]

(가)	강하다, 길다, 확실하다, 빠르다, 효과적이다, 순수하다—쾌락과 고통 속에서 이런 특징들을 지속시켜라. 만약 사적인 쾌락이 너의 목적이라면, 그런 쾌락을 추구하라. 만약 공적인 쾌락이 너의 목적이라면, 그런 쾌락을 확대하라.
(나)	<p>고등학생인 A는 같은 반의 B와 말다툼을 했다. 집에 돌아와서도 화가 가라앉지 않은 A는 친구들에게 연락하여 학급 채팅방에서 B를 상대로 *사이버 불링을 같이 하자고 부탁해야 할지 망설이고 있다.</p> <p>*사이버 불링: 정보 통신 기술을 통해 의도적이고 지속적인 괴롭힘을 가하는 것</p>

- ① 사이버 불링이 공리를 극대화하는 것인지 고려하세요.
- ② 사이버 불링이 자연법에 부합하는 것인지 고려하세요.
- ③ 사이버 불링이 덕성 함양에 기여하는 것인지 고려하세요.
- ④ 사이버 불링이 모성적 배려를 실천하는 것인지 고려하세요.
- ⑤ 사이버 불링이 인간을 목적으로 대우하는 것인지 고려하세요.

11. (가)의 갑, 을, 병 사상가들의 입장을 (나) 그림으로 표현할 때, A~D에 해당하는 적절한 진술만을 <보기>에서 있는 대로 고른 것은? [3점]

(가)	<p>갑: 어떤 존재의 고통을 고려하지 않는 도덕적 논증은 있을 수 없다. 이익 평등 고려의 원리는 존재들 간의 동일한 고통을 동일하게 고려할 것을 요구한다.</p> <p>을: 생명체가 목적론적 삶의 중심이라는 것은 그 활동이 목표 지향적이라는 뜻으로, 생명 활동을 성공적으로 수행하는 항상적인 경향성이 있다는 말이다.</p> <p>병: 인류는 대지 공동체의 평범한 구성원이 되어야 한다. 이러한 인류의 역할은 동료 구성원과 대지 공동체 자체에 대한 존중을 필연적으로 수반한다.</p>
(나)	

<보기>

ㄱ. A: 평등의 원리에 따라 인간과 모든 동물을 동일하게 대우해야 한다.  
 ㄴ. B: 인간은 생명체에 끼친 해악에 대한 보상적 정의의 의무를 지닌다.  
 ㄷ. C: 개체주의적 관점을 지양하고 인간 중심주의에서 벗어나야 한다.  
 ㄹ. D: 쾌고 감수 능력을 지닌 동물은 도덕적 고려 대상에 속한다.

- ① ㄱ, ㄴ                      ② ㄴ, ㄷ                      ③ ㄴ, ㄹ  
 ④ ㄱ, ㄴ, ㄷ                ⑤ ㄱ, ㄷ, ㄹ

12. 그림은 서술형 평가 문제와 학생 답안이다. 학생 답안의 ㉠~㉣ 중 옳지 않은 것은?

**서술형 평가**

㉠ 문제: 사상가 갑, 을의 직업 노동에 대한 입장을 비교하여 서술하시오.

갑: 모든 것을 손수 만들어 사용해야 한다면, 그것은 천하의 사람들을 바쁘게 만드는 것이다. 어떤 사람은 마음을 수고롭게 하고[勞心], 어떤 사람은 몸을 수고롭게 한다[勞力]. 백성은 항산(恒産)이 없다면 항심(恒心)도 없게 된다.

을: 노동이 분업에 의한 방식으로 바뀌면서 고용주는 자본가가 되어 지휘와 감독, 조절 기능을 담당한다. 분업은 특수한 기능에 적합한 부분 노동자를 양산하며, 노동자는 작업장의 부속물로서 자본의 소유물이 된다.

㉡ 학생 답안

사상가 갑, 을의 직업 노동에 대한 입장을 비교해 보면, 갑은 ㉠ 직업에는 대인과 소인의 역할 분담이 있으므로 각자의 역할에 충실해야 한다고 보며, ㉡ 직업을 통해 백성의 생활 기반이 마련되어야 한다고 주장한다. 이에 비해 을은 ㉢ 노동자는 생산 수단이 없으므로 생계를 위해 자본가에게 예속된다고 보며, ㉣ 노동자는 노동을 통해 자아를 실현하고 행복을 누릴 수 있어야 한다고 주장한다. 한편 갑, 을은 모두 ㉣ 인간은 분업에 참여함으로써 인간다움을 실현해야 한다고 주장한다.

- ① ㉠                      ② ㉡                      ③ ㉢                      ④ ㉣                      ⑤ ㉣

13. 갑, 을 사상가들의 입장에 대한 설명으로 가장 적절한 것은? [3점]

갑: 아무런 제한 없이 선하다고 생각할 수 있는 것은 오직 선의지뿐이다. 지성, 용기, 결단성 등은 많은 의도에서 선하고 바람직하지만, 이런 천부적인 자질들을 이용하는 의지가 선하지 않다면 극도로 악하고 해가 될 수 있다.

을: 개인의 도덕적 상상력이 동료 인간의 요구와 이익을 이해하지 못한다면 진정한 정의는 달성될 수 없다. 또한 정의 달성을 위한 비합리적 수단이 도덕적 선의지의 통제를 받지 않는다면 사회에 엄청난 위험을 초래할 수 있다.

- ① 갑은 오직 결과를 고려한 행위만이 도덕적 행위라고 본다.  
 ② 을은 진정한 정의는 선의지만으로 충분히 달성될 수 있다고 본다.  
 ③ 갑은 을과 달리 사회 구조가 개인 행위의 도덕성을 좌우할 수 있다고 본다.  
 ④ 을은 갑과 달리 선한 천부적 자질은 선의지의 통제가 필요하다고 본다.  
 ⑤ 갑, 을은 모두 개인의 선의지가 사회생활에서 반드시 필요하다고 본다.

14. 다음 서양 사상가의 입장으로 적절하지 않은 것은?

우리에게는 악의 인식이 선의 인식보다 무한히 쉽다. 선은 눈에 띄지 않게 존재하며 반성을 하지 않으면 인식될 수 없지만, 악의 현존은 우리에게 인식을 강요한다. 우리가 실제로 무엇을 보호해야 하는가를 알아내기 위해 새로운 윤리학은 공포를 논의 대상으로 삼아야 한다. 인간 행위의 새로운 유형에 적합하고 새로운 유형의 행위 주체를 지향하는 명법은 다음과 같다. “너의 행위의 효과가 지상에서의 진정한 인간적 삶의 지속과 조화될 수 있도록 행위하라.”

- ① 자연이 수용할 수 있는 한에서 과학 기술의 발전을 추구해야 한다.  
 ② 과학 기술의 긍정적인 영향보다 부정적인 영향에 주목해야 한다.  
 ③ 새로운 윤리학은 최고악에 대한 공포에서 출발할 필요가 있다.  
 ④ 새로운 윤리학은 “A이면 B하라.”라는 형식의 명법만을 지향한다.  
 ⑤ 사후적 책임뿐만 아니라 사전적 책임도 중시해야 한다.

15. 다음 서양 사상가의 입장으로 가장 적절한 것은? [3점]

우리 시대의 인간은 고향을 잃고 지구상 어떤 곳에도 매여 있지 않은 영원한 망명자이다. 하지만 집은 이러한 위험과 희생의 공간인 외부 공간과 구분되는 안정과 평화의 공간이다. 인간은 자신의 중심점인 집을 스스로 만들어 그곳에 뿌리내리고 살 때 진정한 거주를 실현한다. 인간은 이러한 거주 실현을 통해 단순히 공간을 점유하는 것이 아닌 거주자가 됨으로써 자신의 본질을 실현하고 온전한 의미에서 인간이 될 수 있다.

- ① 진정한 거주는 단순히 공간을 점유하는 행위로 국한된다.  
 ② 인간은 진정한 거주를 실현하지 못하면 영원한 망명자이다.  
 ③ 인간은 거주자가 됨으로써 자신의 본질을 실현할 수 없다.  
 ④ 외부 공간은 위험과 희생이 아닌 안정과 평화의 공간이다.  
 ⑤ 진정한 삶의 실현을 위해 거주 공간이 필요한 것은 아니다.

16. (가), (나)의 입장으로 옳지 않은 것은?

(가) 종교는 신앙을 통해 진리로 나아갈 수 있도록 하는 매혹적이고 신비한 감정의 체험이다. 세계는 신비로 가득하므로 인간 이성이 과학적으로 인식하는 틀 속에 가둘 수 없다. 방향을 잡기 어려운 현실에서 종교를 통해 삶의 의미와 목적을 추구해야 한다.  
 (나) 과학은 사실에 토대하며 현상이 어떻게 일어나는지 그 원인을 찾고 반증 가능성에 대해 열린 자세를 취해야 한다. 물리적인 것 외에는 실재성이 이성적으로 증명될 수 없으므로, 객관적으로 입증 가능한 사실에 근거하여 진리를 추구해야 한다.

- ① (가): 인간은 종교적 체험을 통해 삶의 목적과 의미를 찾아야 한다.
- ② (가): 신앙 없이 이성만으로는 세계의 진리를 완전히 인식할 수 없다.
- ③ (나): 과학적 지식을 반증 가능성이 있는 것으로 인식할 필요가 있다.
- ④ (나): 인간은 실험과 관찰을 통해 실증적으로 대상을 탐구해야 한다.
- ⑤ (가), (나): 과학적 인식의 한계 내에서만 진리를 추구해야 한다.

17. 갑, 을 사상가들 모두가 부정의 대답을 할 질문으로 가장 적절한 것은? [3점]

시민의 생명 보존이 사회 계약의 목적입니다. 우리의 신체와 모든 능력은 공동의 것이며, 이것은 일반 의지의 최고 감독하에 있는 것입니다. 시민 사회에서 타인의 생명을 희생시킨 사람은 자신의 생명도 포기해야 합니다.



갑

시민 사회가 모든 구성원의 동의로 해체될 경우라도 감옥에 있는 마지막 살인자는 먼저 처형되어야 합니다. 이것은 사법권의 이념으로서 정의가 보편적인 도덕 법칙에 따라 의욕하는 것입니다. 공적 정의 앞에서 최상의 균형자는 사형입니다.



을

- ① 살인범을 사형하는 것은 그를 국가의 적으로 간주하는 것인가?
- ② 사회 계약을 위반한 살인범을 국가 구성원에서 배제해야 하는가?
- ③ 사형은 살인죄에 대해 법적으로 집행되는 응당한 보복의 방법인가?
- ④ 살인범을 사형하지 않는 것은 공적으로 정의를 침해하는 것인가?
- ⑤ 사형제는 인간 존엄성의 이념에 위배되는 것이므로 부당한 제도인가?

18. 사상가 갑, 을의 입장으로 가장 적절한 것은? [3점]

갑: 자원은 한정되어 있기에 최대의 이익이 산출될 수 있는 곳에 사용되는 것이 적절하다. 풍요한 사회의 시민들만 풍요로움을 누리는 것은 부당하다. 인류 전체의 이익 증진을 위해 절대 빈곤으로 고통받는 사회의 사람들을 원조해야 한다.  
 을: 자원이 부족하다고 해서 질서 정연한 사회가 될 수 없는 경우는 거의 없다. 어떤 사회가 질서 정연한 사회가 되는 결정적 요인은 자원의 수준보다는 정치 문화이다. 불리한 여건으로 고통받는 사회가 정치 문화를 바꾸도록 원조해야 한다.

- ① 갑: 원조를 위해서 풍요한 사회의 자원을 활용해서는 안 된다.
- ② 갑: 풍요한 사회의 시민들은 원조 대상에서 모두 제외되어야 한다.
- ③ 을: 자원이 부족한 국가만을 원조 대상으로 간주해서는 안 된다.
- ④ 을: 정의의 제2원칙에 따라 국가 간 자원을 재분배해야 한다.
- ⑤ 갑, 을: 공리의 원리를 국제적 차원으로 확대 적용해서는 안 된다.

19. 다음 토론의 핵심 쟁점으로 가장 적절한 것은?

갑: 인간의 생명과 건강을 위해 동물 실험은 꼭 필요합니다. 인간과 동물은 생물학적으로 유사하며, 동물 실험의 확실한 대안은 없습니다. 따라서 동물 실험은 정당합니다.  
 을: 저는 당신이 제시한 논증의 모든 전제에 대해 찬성하지만 결론에는 반대합니다. 논증에 등장하는 '동물'을 모두 '인간'으로 바꿔 보세요. 당신이 제시한 논증을 이용하면 인간 실험마저 정당화할 수 있습니다.  
 갑: 인간 실험은 부당합니다. 하지만 인간과 달리 동물은 기본적인 권리를 갖지 않습니다. 당신의 비판은 동물도 기본적인 권리를 갖는다는 선결 문제를 해결해야 합니다.  
 을: 인간은 물론 동물도 삶의 주체이므로 기본적인 권리를 갖습니다. 인간 실험과 마찬가지로 동물 실험도 부당합니다. 당신이야말로 동물의 기본적인 권리를 단적으로 부정하고 있습니다.

- ① 동물 실험은 인간의 생명과 건강을 위해 필요한가?
- ② 동물 실험의 대안 중 확실한 것이 존재하는가?
- ③ 인간과 달리 동물은 기본적인 권리를 갖는가?
- ④ 인간 실험과 달리 동물 실험은 정당한가?
- ⑤ 인간과 동물은 생물학적으로 유사한가?

20. 갑, 을 중 적어도 한 사람이 부정의 대답을 할 질문만을 <보기>에서 있는 대로 고른 것은?

갑: 인권은 개인이 국가나 타인으로부터 간섭이나 침해받지 않을 권리와 정치에 참여할 평등한 기회를 가질 권리로 국한되어야 한다. 국가가 사회적·경제적 평등을 실현하기 위해 개인의 자유와 권리를 침해하는 것은 부당하다.  
 을: 인권은 인간이 최소한의 인간다운 삶을 누리며 살 권리이다. 인권을 소극적 권리로 한정해서는 사회적 약자들의 인간다운 삶을 보장할 수 없다. 국가는 구성원 모두의 인권 보장을 위해 사회적·경제적 평등을 실현해야 한다.

— <보기> —

ㄱ. 인권은 자유권과 참정권으로 국한되어야 하는가?  
 ㄴ. 인권은 인간으로서 마땅히 누려야 할 권리인가?  
 ㄷ. 인권은 자유권과 함께 복지권을 포함하는 권리인가?  
 ㄹ. 인권은 사회적·경제적 평등의 실현을 통해 보장되어야 하는가?

- ① ㄱ, ㄴ
- ② ㄱ, ㄷ
- ③ ㄴ, ㄷ
- ④ ㄱ, ㄷ, ㄹ
- ⑤ ㄴ, ㄷ, ㄹ

\* 확인 사항  
 ○ 답안지의 해당란에 필요한 내용을 정확히 기입(표기)했는지 확인하십시오.

제 4 교시

사회탐구 영역 (윤리와 사상)

성명

수험 번호

1. 가상 대화의 스승이 강조한 삶의 태도로 가장 적절한 것은?



- ① 타고난 자연의 덕성이 실현될 수 있도록 예(禮)에 따라 행동한다.
- ② 도의 관점에서 만물을 바라보고 분별적인 지식을 쌓아 나간다.
- ③ 나와 남의 상호 연계성을 자각하고 남의 해탈을 위해 헌신한다.
- ④ 만물에 이로움을 줄 수 있도록 타고난 인의(仁義)의 덕을 함양한다.
- ⑤ 인위적으로 일을 도모하지 않고 겸허한 자세로 소박하게 생활한다.

2. 고대 서양 사상가 갑, 을의 입장으로 옳은 것은?

갑: 지혜는 정의로운 국가와 정의로운 인간 모두에게 필수적인 덕이다. 지혜는 영혼에서 이성과 관련된 덕이고, 기개와 관련된 덕은 용기, 욕구와 관련된 덕은 절제이다.  
 을: 지혜로운 자는 어떤 경우에도 부동심을 유지한다. 실수를 하거나 해를 입어도 정념에서 벗어나기 위해 치려야 할 대가로 여기며, 자신에게 달려 있지 않은 것에는 항상 무관심하다.

- ① 갑: 진리의 근원인 참된 실재를 현실 세계에서 발견할 수 있다.
- ② 갑: 이상 국가의 통치자에게는 절제의 덕이 필요하지 않다.
- ③ 을: 부와 명예 같은 것은 원하지도 피하지도 말아야 한다.
- ④ 을: 사회 참여를 멀리하고 마음의 안정을 추구해야 한다.
- ⑤ 갑, 을: 이성애 맞는 욕구 충족도 덕의 함양과 양립할 수 없다.

3. 고대 동양 사상가 갑, 을의 입장으로 옳지 않은 것은?

갑: 새나 짐승과는 함께 모여 살 수 없으니 내가 세상 사람들과 더불어 살지 않으면 누구와 더불어 살겠는가? 인(仁)은 나에게서 말미암은 것이니, 덕(德)으로 인도하고 예(禮)로 다스려야 사람들이 염치를 알게 된다.  
 을: 사람들도 새나 짐승과 함께 생활하고 만물과 함께 무리지어 나란하니 어찌 군자와 소인의 구별이 있겠는가? 그들은 마치 무지(無知)한 듯 순진무구하여 덕과 떨어지지 않으며 아무런 욕심도 내지 않는다[無欲].

- ① 갑: 통치자는 도덕적 모범을 보임으로써 백성들을 교화해야 한다.
- ② 갑: 통치자는 재화의 고른 분배를 통해 사회적 화합을 꾀해야 한다.
- ③ 을: 자유롭고 평등한 삶을 위해 문명에 비판적 태도를 취해야 한다.
- ④ 을: 덕을 기준으로 사회적 지위를 규정하는 제도를 세워야 한다.
- ⑤ 갑, 을: 이상적 삶을 구현하려면 누구나 덕에 따라 살아야 한다.

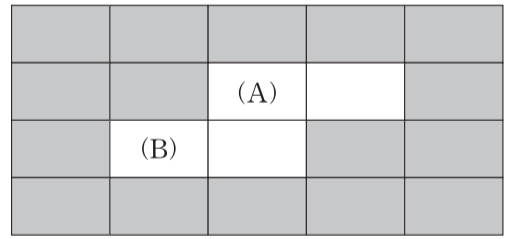
4. 갑은 고대 서양 사상가, 을은 근대 서양 사상가이다. 갑, 을 모두가 부정의 대답을 할 질문으로 옳은 것은? [3점]

갑: 우리는 쾌락의 부재로 인해 고통을 느낀다면 쾌락을 필요로 하지만, 고통을 느끼지 않는다면 더 이상 쾌락을 필요로 하지 않는다. 쾌락은 몸의 고통이나 마음의 혼란으로부터의 자유이다. 그것이 행복한 인생의 시작이자 끝이다.  
 을: 우리는 쾌락과 고통의 지배를 받는다. 한 행위가 가져다 주는 쾌락과 고통 각각의 총량은 계산될 수 있다. 이 둘을 비교하여 차감했을 때 쾌락 쪽이 남는다면 그 행위는 개인 또는 사회에 일반적으로 유용하다고 할 수 있다.

- ① 모든 행위의 도덕적 가치는 동일한 기준에 의해 판단되어야 하는가?
- ② 진정한 정신적 쾌락을 위해 모든 육체적 쾌락을 억제해야 하는가?
- ③ 사회 전체 쾌락의 증대 여부가 행위의 옳고 그름을 결정하는가?
- ④ 사려 깊고 고상한 행위가 도덕적인 이유는 쾌락을 주기 때문인가?
- ⑤ 행복은 마음의 불안과 육체적 고통이 사라질 때 얻어질 수 있는가?

5. (가)를 주장한 고대 동양 사상가의 입장에서 볼 때, (나)의 퍼즐 속 세로 낱말 (A)에 대한 설명으로 옳지 않은 것은? [3점]

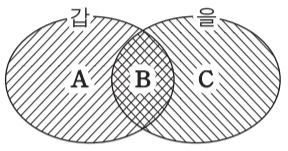
(가)  
 ○ 자기 자신을 등불로 삼고 자기 자신에 의지하라. 진리[法]에 의지하고 진리를 스승으로 삼아라.  
 ○ 연기(緣起)를 보는 자는 곧 진리를 보며, 진리를 보는 자는 곧 연기를 본다.



(나) [가로 열쇠]  
 (A): 인위적이거나 강제적 작위가 없음을 나타내는 말  
 예) 노자의 '○○자연' 사상  
 (B): 외부 사물과 나 자신을 가리키는 말  
 예) 장자의 '□□일체' 사상  
 [세로 열쇠]  
 (A): …… 개념

- ① 변화하는 현상계 속에는 어떠한 '나'도 존재할 수 없다는 말이다.
- ② 독립적인 실체로 간주될 만한 '나'는 존재하지 않는다는 말이다.
- ③ 불멸하는 '나'가 존재한다는 주장에 반대하기 위해 제기된 말이다.
- ④ 그릇된 인식을 바로잡아 '나'에 대한 집착을 끊어 버리라는 말이다.
- ⑤ 모든 존재가 인연의 화합으로 이루어져 독자적 '나'가 없다는 말이다.

6. (가)의 고대 서양 사사가 갑, 을의 입장을 (나) 그림으로 표현할 때, A~C에 해당하는 적절한 진술만을 <보기>에서 있는 대로 고른 것은? [3점]

(가)	<p>갑: 덕은 곧 지식이다. 좋은 것을 알면서도 행하지 않거나 나쁜 것을 알면서도 행하는 '자제력 없는 사람'은 있을 수도 없고, 제대로 아는 것도 아니다. 정의든 절제든 용기든 모두 다 지식이다.</p> <p>을: 덕이 무엇인지 몰라서 행하지 못하는 사람도 있고 알고도 행하지 못하는 사람도 있다. 모르기 때문에 행하지 못하는 '무절제한 사람'은 후회할 줄도 모르는 사람인 반면, 알고도 행하지 못하는 '자제력 없는 사람'은 후회할 줄은 아는 사람이다.</p>
(나)	 <div style="border: 1px solid black; padding: 5px; margin-left: 20px;"> <p style="text-align: center;">&lt;범례&gt;</p> <p>A: 갑만의 입장 B: 갑, 을의 공통 입장 C: 을만의 입장</p> </div>

<보기>

ㄱ. A: 선이 무엇인지 알고도 선을 행하지 않는 것은 불가능하다.  
 ㄴ. B: 이성과 추론을 통해 무지에서 벗어나려고 노력해야 한다.  
 ㄷ. B: 삶의 목적인 행복의 실현을 위해서는 반드시 덕이 필요하다.  
 ㄹ. C: 덕 있는 사람이 되려면 덕이 무엇인지 반드시 알아야 한다.

- ① ㄱ, ㄴ                      ② ㄱ, ㄹ                      ③ ㄷ, ㄹ  
 ④ ㄱ, ㄴ, ㄷ                ⑤ ㄴ, ㄷ, ㄹ

7. 갑은 중국 불교 사사가, 을은 한국 불교 사사가이다. 갑, 을의 입장을 <보기>에서 고른 것은?

갑: 자성(自性)에는 잘못됨도 없고 어리석음도 없고 어지러움도 없다. 생각마다 반야로써 비추어 보아 법의 모습[法相]에서 벗어나면 자유자재하게 되니 세울 것이 무엇이 있겠는가? 자성을 스스로 깨달음은 단박에 깨닫고 단박에 닦는 것이다.

을: 자성이 부처와 다르지 않다는 것을 깨달았더라도 습기(習氣)를 단번에 제거하기는 어렵다. 따라서 깨달음에 의지하여 닦아 나가 점차로 익힘으로써 공덕을 이루어야 한다. 이것을 일러 점차로 닦는 것[漸修]이라 한다.

<보기>

ㄱ. 갑: 단박에 깨닫기 위해 선(禪) 수행과 경전 공부에 매진해야 한다.  
 ㄴ. 을: 참선(參禪) 수행으로 본성을 자각하면 보살행이 필요 없다.  
 ㄷ. 을: 정(定)과 혜(慧)를 함께 닦는 것이 수심(修心)의 방법이다.  
 ㄹ. 갑, 을: 자신의 마음을 직관하여 단박에 깨달아야[頓悟] 한다.

- ① ㄱ, ㄴ                      ② ㄱ, ㄷ                      ③ ㄴ, ㄷ                      ④ ㄴ, ㄹ                      ⑤ ㄷ, ㄹ

8. (가), (나) 사회사상의 입장을 <보기>에서 고른 것은?

(가) 모든 사람이 완전히 자유롭게 자신의 이익을 추구할 수 있고, 자신의 근면과 자본을 바탕으로 누구와도 경쟁할 수 있어야 한다. 이렇게 함으로써 보이지 않는 손에 의해 국가의 부가 증대될 수 있다.

(나) 모든 생산 부문의 경영 자체를 경쟁하는 개인들에게서 빼앗아 사회 전 구성원들의 공동 책임 하에 공동 계획에 따라 경영해야 한다. 사적 소유 제도를 폐지함으로써 생산 수단과 생산물의 공유를 실현해야 한다.

<보기>

ㄱ. (가): 자유경쟁 원리를 보장하는 것이 사회 전체의 이익을 증대한다.  
 ㄴ. (나): 분업은 숙련공의 기술력을 향상시켜 결과적 평등을 실현한다.  
 ㄷ. (나): 생산 수단의 사적인 소유는 경제적 불평등의 원인이다.  
 ㄹ. (가), (나): 필요에 따른 분배보다 시장 경제의 효율성을 추구해야 한다.

- ① ㄱ, ㄴ                      ② ㄱ, ㄷ                      ③ ㄴ, ㄷ                      ④ ㄴ, ㄹ                      ⑤ ㄷ, ㄹ

9. 고대 동양 사사가 갑, 을의 입장에 대한 옳은 설명을 <보기>에서 고른 것은? [3점]

갑: 사람들이 모두 본성[性情]을 따르게 되면 틀림없이 혼란한 상태[暴]에 이르게 된다. 이에 반드시 스승[師]과 법도[法]에 따른 교화가 있어야 하며 예의의 도리를 가르쳐야 한다.

을: 사람들을 무력으로 복종시키려 하면서 인(仁)을 행하는 것처럼 꾸미는 것은 패도(霸道)이다. 덕으로써 인을 행하는 왕도(王道)를 실천하면 사람들이 진심으로 복종하게 된다.

<보기>

ㄱ. 갑은 예를 기준으로 삼아 욕망[欲]을 충족시켜야 한다고 본다.  
 ㄴ. 을은 백성은 먼저 항심을 갖춰야 항산을 유지할 수 있다고 본다.  
 ㄷ. 을은 인의(仁義)를 해치는 군주는 추방될 수 있다고 본다.  
 ㄹ. 갑, 을은 법이나 예에 의한 정치를 모두 부정해야 한다고 본다.

- ① ㄱ, ㄴ                      ② ㄱ, ㄷ                      ③ ㄴ, ㄷ                      ④ ㄴ, ㄹ                      ⑤ ㄷ, ㄹ

10. 중세 서양 사사가 갑, 을의 입장으로 옳지 않은 것은? [3점]

갑: 행복은 이성에 따르는 삶에 있다. 이를 위해서는 본성적으로 내재하는 자연법의 명령에 따라 덕을 실천해야 한다. 그러나 이러한 행복은 현세의 행복일 뿐이고, 영원한 행복은 신을 보고 신과 하나가 되는 것으로만 가능하다.

을: 행복은 오직 신앙으로 가능하다. 행복의 필수 조건은 영원한 생명인데 원죄 때문에 인간은 죽을 수밖에 없는 운명을 가지고 태어났다. 인간은 신의 은총을 믿음으로써 지상의 나라에서 벗어나 영원한 생명을 얻을 수 있는 신의 나라로 가야 한다.

- ① 갑: 신앙이 이성보다 우선하지만 이성으로 신의 존재를 증명할 수 있다.  
 ② 갑: 자연법에 위배되는 실정법이라도 법이기 때문에 준수해야 한다.  
 ③ 을: 신은 완전하고 선하기 때문에 선의 결여인 악을 창조하지 않았다.  
 ④ 을: 신을 사랑하고 신과 하나가 되는 것이 인간에게 최고의 행복이다.  
 ⑤ 갑, 을: 인간은 스스로의 노력만으로는 완전한 행복을 얻을 수 없다.

[11~12] 갑, 을은 한국 유교 사상가들이다. 물음에 답하시오.

갑: 만약 칠정과 사단을 꼭 두 변(邊)으로 나누려고 한다면 인성(人性)의 본연과 기질도 나뉘어 두 성이 될 것이니, 어찌 이러한 이치가 있겠는가? 천리(天理)는 무위(無爲)인 것으로서 반드시 기(氣)의 기를 타야 움직이는[動] 것이니, 기가 움직이지 않고서 이(理)가 움직인다는 것은 있을 수 없다.  
 을: 만약 혼합하여 말한다면 칠정이 이와 기를 겸(兼)하는 것은 더 말할 나위 없이 명확하다. 그러나 칠정을 사단과 대립시켜 구분되는 것으로 말한다면, 칠정과 기의 관계는 사단과 이의 관계와 같다. 그 이름이 모두 가리키는 바가 있으므로 주(主)가 되는 바에 따라 나누어 귀속시킬 수 있는 것이다.

11. 갑이 을에게 제기할 수 있는 반론을 <보기>에서 고른 것은?

— <보기> —  
 ㄱ. 칠정은 기가 발하고 이가 타서 드러난 것임을 모르고 있다.  
 ㄴ. 칠정의 연원과 사단의 연원이 다르지 않음을 모르고 있다.  
 ㄷ. 이는 발하는 까닭[所以]일 뿐 발하는 것이 아님을 모르고 있다.  
 ㄹ. 기처럼 이도 자발적으로 동정(動靜)하는 것임을 모르고 있다.

- ① ㄱ, ㄴ    ② ㄱ, ㄷ    ③ ㄴ, ㄷ    ④ ㄴ, ㄹ    ⑤ ㄷ, ㄹ

12. 갑, 을과 다음을 주장한 한국 사상가 모두가 부정의 대답을 할 질문으로 옳은 것은? [3점]

사심(四心)이 바로 사단이며, 사덕(四德)은 사단을 확충한 것이다. 측은(惻隱)을 확충하여 자상함의 극치에 이르면 인(仁)이 천하를 뒤덮게 된다. 그러나 확충하지 못하면 인이라는 명칭은 끝내 성립할 수 없다.

- ① 사덕은 천리가 아니며 사단을 실천해야 이루어지는 것인가?  
 ② 사덕은 사단을 통해서 그 존재를 알 수 있는 선천적인 것인가?  
 ③ 사덕은 하늘로부터 부여받은 본성[性]에 내재하는 선한 것인가?  
 ④ 사단은 사람에게 있는 마음[心]이고 사덕의 시작이 되는 것인가?  
 ⑤ 사단은 선을 좋아하는 기호(嗜好)에 따라 행동하여 형성되는 것인가?

13. (가)를 주장한 근대 서양 사상가의 입장에서 볼 때, (나)의 ㉠에 들어갈 진술로 가장 적절한 것은? [3점]

(가)	○ 존재하는 모든 것은 신 안에 있으며, 신 이외에는 어떠한 실체도 있을 수 없다. 신은 우리의 정신이 인식할 수 있는 최고의 것이다. ○ 현자(賢者)는 영혼의 흔들림이 거의 없고, 영원한 필연성에 의해 자신과 신과 사물을 인식하며, 항상 참된 마음의 평화를 누린다.
(나)	학생: 어떻게 해야 현자의 경지에 이를 수 있습니까? 사상가: ㉠

- ① 신과 이웃을 조건 없이 사랑하여 인격신의 은총을 받아야 하네.  
 ② 오직 이성애 따라 살아갈 수 있도록 모든 정념을 버려야 하네.  
 ③ 자유 의지를 발휘하여 필연적인 인과 질서에서 벗어나야 하네.  
 ④ 신을 이성적으로 관조하거나 지적으로 사랑하려고 힘써야 하네.  
 ⑤ 만물의 초월적 원인인 신을 인식하거나 파악하려고 애써야 하네.

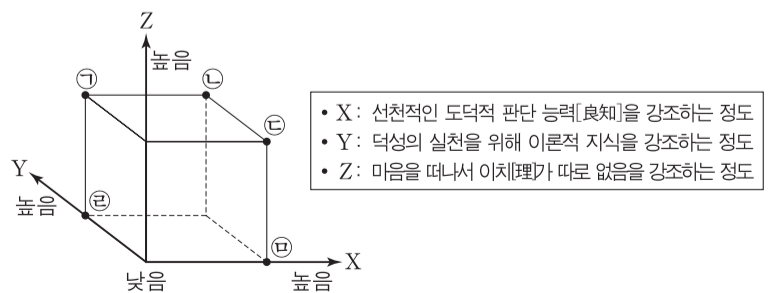
14. 근대 서양 사상가 갑과 현대 서양 사상가 을의 입장으로 옳은 것은?

갑: 덕을 추구하는 삶은 최대 행복의 원리와 모순되지 않는다. 왜냐하면 최대 행복의 원리는 어떤 종류의 쾌락이 다른 종류의 쾌락보다 훨씬 더 바람직하고 한층 더 가치 있다는 점을 인정하기 때문이다. 쾌락을 평가할 때에는 양 이외에 질도 고려해야 한다.  
 을: 덕은 인간 본성에 내재된 것이 아니라 실천을 통해 획득된 자질이다. 덕을 소유하고 실행함으로써 실천 안에 들어 있는 선을 실현할 수 있다. 덕은 사회적 맥락 속에 있는 서사적 자아를 통해서 이해될 수 있다. 그러므로 먼저 '나는 어떤 이야기의 부분인가?'라는 물음에 답해야 한다.

- ① 갑: 지적이고 심미적인 활동은 공리의 증진에 기여할 수 있다.  
 ② 갑: 행복을 위한 육체적 쾌락 추구는 도덕적으로 허용될 수 없다.  
 ③ 을: 덕은 전통에서 벗어난 개인의 주체적 삶을 통해 획득되어야 한다.  
 ④ 을: 도덕성을 판단할 때 행위자의 덕성을 고려해서는 안 된다.  
 ⑤ 갑, 을: 보편적 도덕 원리에 근거하여 옳고 그름을 판단해서는 안 된다.

15. 갑 사상가의 입장에 비해 을 사상가의 입장이 갖는 상대적 특징을 그림의 ㉠~㉤ 중에서 고른 것은? [3점]

갑: 사람의 양지(良知)는 본래부터 지니고 있는 것이지만 궁리(窮理)하지 않으면 알지 못하고 통달하지 못한 것을 궁구할 수 없다. 궁리란 아는 바로써 모르는 것에 이르며 통달한 바로써 통달하지 못한 것에 이르는 것이다.  
 을: 내 마음의 양지인 천리(天理)를 각각의 사물에 실현하면 각각의 사물이 모두 그 이치를 얻게 된다. 내 마음의 양지를 실현하는 것이 치지(致知)이고 각각의 사물이 모두 그 이치를 얻는 것이 격물(格物)이다.



- ① ㉠    ② ㉡    ③ ㉢    ④ ㉣    ⑤ ㉤



16. 현대 서양 사상가 갑, 을의 입장에 대한 설명으로 옳지 않은 것은?


갑: 진리는 개인의 결단에 달려 있는 것이다. 나와 무관한 객관적인 것을 아는 것보다는 나 자신을 아는 것이 중요하다. 개체로서 개별자인 나 자신이 보편적인 것보다 높은 데 있고 그러한 개별자인 내가 절대자인 신과 절대적인 관계에 있다는 역설적 진리를 깨달아야 한다.

을: 진리를 유용성으로 보는 것을 특정인의 이익을 얻기 위한 도구로 오해할 수 있다. 그러나 도로의 유용성이 노상 강도의 이익에 의해 측정될 수는 없다. 그 가치는 도로로서의 효율성과 그 실제 기능 여부에 의해 측정된다. 진리를 측정하는 척도로서의 유용성도 마찬가지로이다.

- ① 갑은 신을 믿고 따르는 것이 불안과 절망을 극복하는 길이라고 본다.
- ② 갑은 실존의 문제는 오직 주체적 결단을 통해 해결된다고 본다.
- ③ 을은 진리를 고정된 것이 아니라 변화하고 발전하는 것으로 본다.
- ④ 을은 지식을 얻기 위해서는 관찰과 실험이 모두 중요하다고 본다.
- ⑤ 갑, 을은 경험적 탐구로 보편적 도덕 기준을 발견해야 한다고 본다.

17. 그림의 강연자가 지지할 주장으로 가장 적절한 것은?

민주적 의사 결정에서는 경쟁적 이해관계의 타협이나 거래가 아니라 다양하고 풍부한 토의 과정을 통해 시민의 동의를 얻을 수 있는 합의가 중요합니다. 선거로 선출된 사람들에게만 정책에 대한 심의와 결정을 전적으로 맡겨서는 안 됩니다. 의사 결정 자체보다는 집단적 의사 결정 과정의 '질(質)'을 높이는 것이 더 중요하기 때문입니다. 시민들 간의 대화, 협의, 합의의 과정에서 전개되는 정치적 행위는 가장 적극적인 형태의 정치 참여이며, 순전히 사적인 이익을 표출할 수도 있는 투표 행위와는 대조적으로 공적인 성격이 강합니다.



- ① 시민들 간의 토론과 소통을 통해 정책 결정의 공공성을 강화해야 한다.
- ② 정책 심의의 효율성을 위해 의사 표현의 기회에 제한을 두어야 한다.
- ③ 사적인 이익을 표출할 수 있는 투표로 시민의 정치 참여를 높여야 한다.
- ④ 투표로 선출된 대표에 의해서만 정책이 심의되고 결정되어야 한다.
- ⑤ 신속한 의사 결정을 위해 시민의 참여를 최대한 배제해야 한다.

18. 근대 서양 사상가 갑, 을의 입장으로 옳은 것은? [3점]

갑: 사회 전체의 행복에 기여하는 모든 것은 그 자체로 우리의 시인(是認)을 얻는다. 공감이나 아니라면 우리는 사회를 위한 포괄적인 관심을 전혀 갖지 못한다. 어떤 성질이나 성격을 칭찬하는 이유는 그것이 사회 전체의 행복을 증진하기 때문이다.

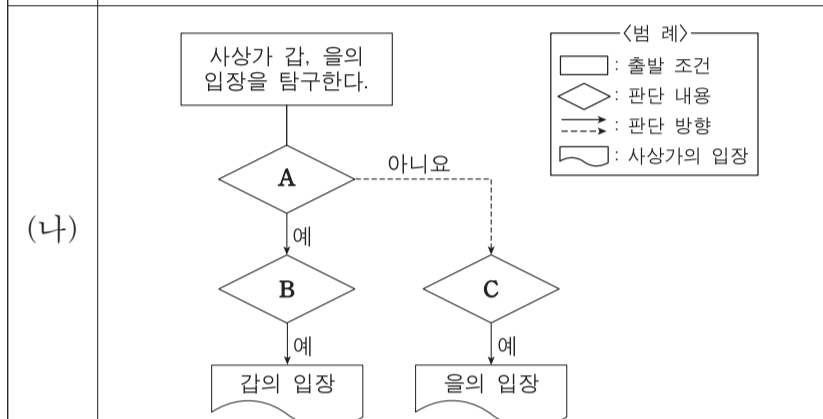
을: 행복의 원리가 준칙(準則)을 제공할 수 있기는 하지만, 결코 의지의 법칙으로 쓰일 준칙을 제공할 수는 없다. 행복에 대한 인식은 경험 자료에 의거하기 때문이다. 행복의 원리는 보편적 규칙을 줄 수가 없다.

- ① 갑: 이성(理性)은 도덕적 판단과 실천에 어떠한 영향도 줄 수 없다.
- ② 갑: 행위에 대한 정서적 반응은 도덕적 구별의 근거가 될 수 없다.
- ③ 을: 보편화할 수 있는 준칙은 도덕 법칙에 위배되지 않는다.
- ④ 을: 의무에 맞는 모든 행위는 의무로부터 비롯된 것이다.
- ⑤ 갑, 을: 도덕 판단의 근거는 모든 이성적 존재들의 행복 증진이다.

19. (가)의 사상가 갑, 을의 입장을 (나) 그림으로 탐구할 때, A~C에 해당하는 적절한 질문만을 <보기>에서 있는 대로 고른 것은? [3점]

(가) 갑: 사회적 가치들은 고유한 분배 영역을 구성하며, 각 분배 영역에는 특정한 기준과 제도들이 있다. 어떠한 분배 영역의 가치도 다른 분배 영역의 가치에 의해 지배되어서는 안 된다.

을: 사회적 기본 가치들 사이에 대한 선호를 기준으로 '평등한 자유의 원칙'과 '차등의 원칙'은 서열적으로 배열된다. 이는 기본적 자유와 경제적·사회적 이득의 교환이 허용될 수 없음을 의미한다.

(나) 

〈범례〉

- : 출발 조건
- ◇ : 판단 내용
- : 판단 방향
- : 사상가의 입장

〈보기〉

ㄱ. A: 정의로운 사회에도 경제적 불평등이 존재할 수 있는가?  
 ㄴ. B: 분배 영역들 간의 경계는 안정적으로 보호되어야 하는가?  
 ㄷ. B: 상이한 사회적 가치를 상이한 기준으로 분배해야 하는가?  
 ㄹ. C: 사회적 이익을 위해 기본적 자유를 제한하는 것이 정당한가?

- ① ㄱ, ㄹ                      ② ㄴ, ㄷ                      ③ ㄴ, ㄹ
- ④ ㄱ, ㄴ, ㄷ                ⑤ ㄱ, ㄷ, ㄹ

20. 다음 근대 서양 사상가의 입장을 <보기>에서 고른 것은?

인간은 오로지 폭력과 기만이 요구되는 가혹한 자연 상태에서 빠져나올 가능성이 있는데, 그 가능성의 일부는 인간의 정념에서, 일부는 인간의 이성에서 생겨난다. 인간을 평화로 향하게 하는 정념으로는, 죽음에 대한 공포, 생활의 편의를 돕는 생활 용품에 대한 욕망, 그러한 생활 용품을 획득할 수 있다는 희망 등이 있다. 그리고 이성은 인간들이 서로 합의할 수 있는 평화의 규약들을 제안한다.

〈보기〉

ㄱ. 시민은 계약 파기를 통해 언제든지 주권자를 교체할 수 있다.  
 ㄴ. 자기 보존을 추구하는 개인들의 합의에 의해 국가가 성립한다.  
 ㄷ. 인간은 언제나 이기적이므로 이성적으로 행위할 수 없다.  
 ㄹ. 자연 상태에서는 정의와 불의의 구별이 존재하지 않는다.

- ① ㄱ, ㄴ                      ② ㄱ, ㄷ                      ③ ㄴ, ㄷ                      ④ ㄴ, ㄹ                      ⑤ ㄷ, ㄹ

\* 확인 사항

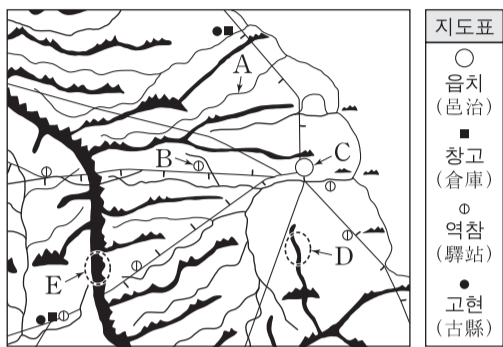
○ 답안지의 해당란에 필요한 내용을 정확히 기입(표기)했는지 확인하십시오.

제 4 교시

사회탐구 영역(한국 지리)

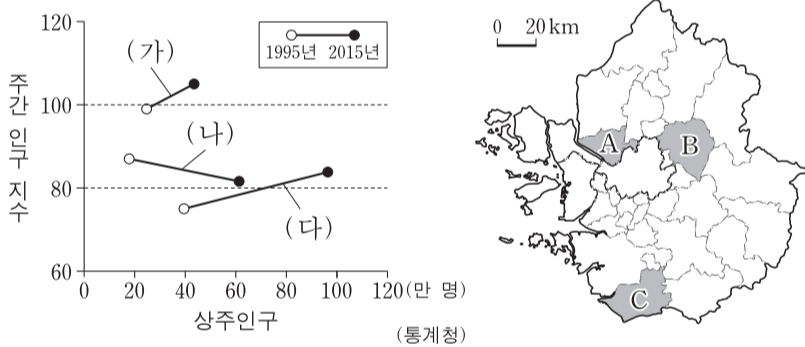
성명  수험 번호

1. 대동여지도의 일부와 지도표를 보고 알 수 있는 내용으로 옳지 않은 것은? [3점]



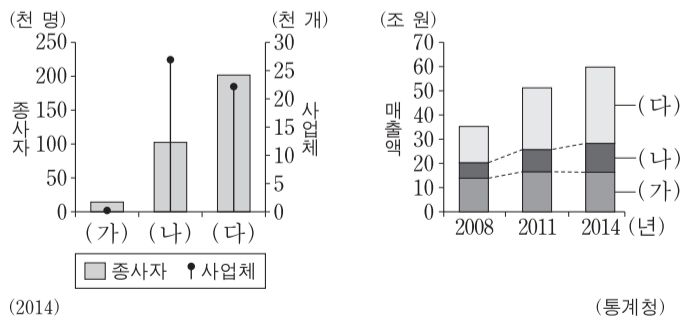
- ① A는 수운 교통로로 이용되는 하천이다.
- ② C는 관아가 있는 행정의 중심지이다.
- ③ C에서 B까지의 거리는 10리 이상이다.
- ④ E는 하천 유역을 나누는 분수계의 일부이다.
- ⑤ E는 D보다 규모가 큰 산지이다.

2. (가)~(다)에 해당하는 지역을 지도의 A~C에서 고른 것은?



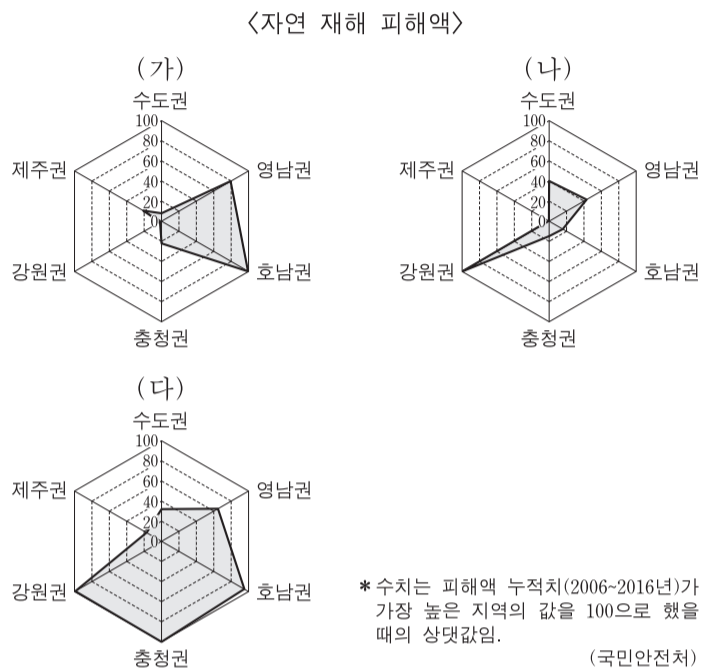
- |   |     |     |     |   |     |     |     |
|---|-----|-----|-----|---|-----|-----|-----|
|   | (가) | (나) | (다) |   | (가) | (나) | (다) |
| ① | A   | B   | C   | ② | B   | A   | C   |
| ③ | B   | C   | A   | ④ | C   | A   | B   |
| ⑤ | C   | B   | A   |   |     |     |     |

3. 그래프의 (가)~(다) 소매 업체에 대한 설명으로 옳은 것은? (단, (가)~(다)는 무점포 소매업체, 백화점, 편의점 중 하나임.)



- ① (가)는 (나)보다 사업체 간 평균 거리가 멀다.
- ② (가)는 (다)보다 2008년부터 2014년까지 매출액 증가율이 높다.
- ③ (나)는 (가)보다 고가 제품의 판매 비중이 높다.
- ④ (나) 사업체는 (가) 사업체보다 2014년에 전국 대비 특별·광역시에 분포하는 비중이 높다.
- ⑤ (가)~(다) 중 2014년에 종사자당 매출액은 (다)가 가장 많다.

4. (가)~(다) 자연 재해에 대한 옳은 설명만을 <보기>에서 있는 대로 고른 것은? (단, (가)~(다)는 대설, 태풍, 호우 중 하나임.) [3점]

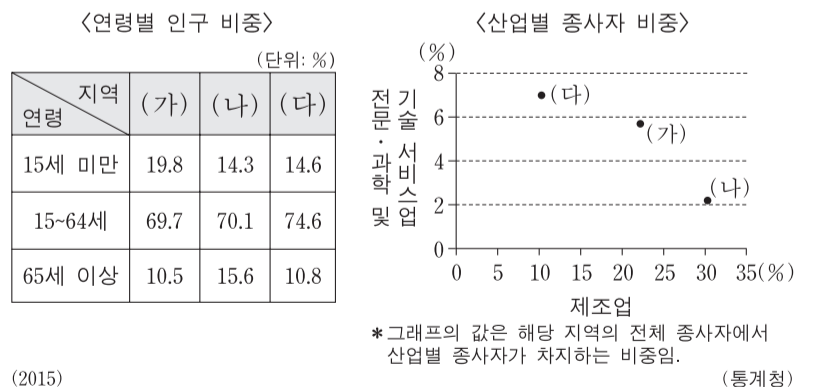


<보기>

ㄱ. (가)는 강풍과 많은 비를 동반하여 풍수해를 유발한다.  
 ㄴ. (나)는 장마 전선이 정체되었을 때 주로 발생한다.  
 ㄷ. (다)는 겨울철 찬 공기가 바다를 지나면서 형성된 눈구름에 의해 발생하는 경우가 많다.  
 ㄹ. 우리나라 연 강수량에서 차지하는 비중은 (다)가 (나)보다 높다.

- ① ㄱ, ㄴ
- ② ㄴ, ㄷ
- ③ ㄷ, ㄹ
- ④ ㄱ, ㄴ, ㄷ
- ⑤ ㄴ, ㄷ, ㄹ

5. 다음 자료에 대한 옳은 설명을 <보기>에서 고른 것은? (단, (가)~(다)는 대전, 세종, 충북·충남 중 하나임.) [3점]



<보기>

ㄱ. (가)는 충북·충남, (나)는 세종이다.  
 ㄴ. 대전은 세종보다 유소년 부양비가 낮다.  
 ㄷ. 세종은 충북·충남보다 노령화 지수가 낮다.  
 ㄹ. 충북·충남은 대전보다 제조업 종사자 비중이 낮다.

- ① ㄱ, ㄴ
- ② ㄱ, ㄷ
- ③ ㄴ, ㄷ
- ④ ㄴ, ㄹ
- ⑤ ㄷ, ㄹ

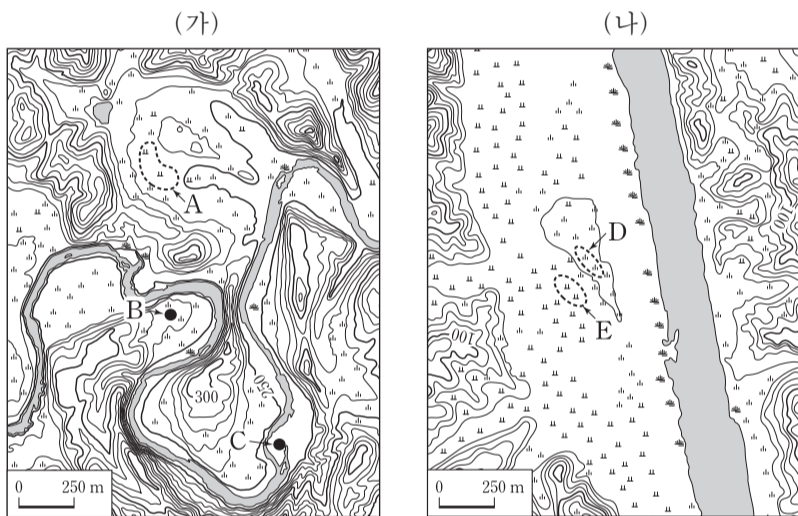
# 2 사회탐구 영역 (한국 지리)

6. 다음 글의 ㉠~㉥에 대한 설명으로 옳은 것은?

한반도는 중생대에 여러 차례 지각 운동을 겪었다. 중생대 초 송림 변동에 이어 중생대 중엽에는 가장 격렬했던 ㉠대보조산 운동이 일어나 구조선이 만들어졌다. 이 과정에서 마그마의 관입이 일어나 한반도의 ㉡화강암 분포에 영향을 주었다. ㉢관입된 암석과 주변 암석 간의 차별 침식은 특징적인 지형을 만들기도 했다. 중생대 후기에는 ㉣불국사 변동으로 ㉤경상 분지 곳곳에 마그마가 관입되었다.

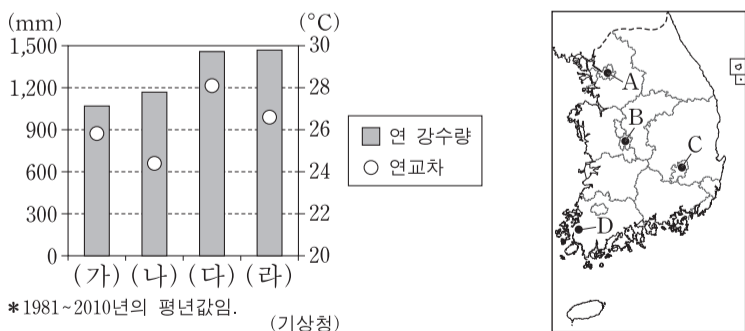
- ① ㉠의 영향으로 남북 방향의 1차 산맥이 형성되었다.
- ② ㉡이 산 정상부를 이루는 경우 주로 흙산으로 나타난다.
- ③ ㉢의 결과로 침식 분지가 형성되었다.
- ④ ㉣은 동고서저 지형 형성의 주요 원인이다.
- ⑤ ㉤에는 갈탄이 광범위하게 매장되어 있다.

7. (가), (나) 지역에 대한 설명으로 옳지 않은 것은? (단, (가), (나)는 동일한 하계망에 속함.) [3점]



- ① 하천의 하방 침식은 (나)보다 (가)에서 활발하다.
- ② A는 과거에 하천의 유로였다.
- ③ B는 C보다 인근 하상과의 고도 차이가 크다.
- ④ C는 E보다 퇴적물의 평균 입자 크기가 크다.
- ⑤ E의 토양은 D의 토양보다 배수가 양호하다.

8. 그래프는 (가)~(라) 지역의 기후 특성을 나타낸 것이다. 이에 해당하는 지역을 지도의 A~D에서 고른 것은? [3점]



- |   | (가) | (나) | (다) | (라) |
|---|-----|-----|-----|-----|
| ① | B   | A   | C   | D   |
| ② | B   | C   | D   | A   |
| ③ | C   | B   | A   | D   |
| ④ | C   | D   | A   | B   |
| ⑤ | C   | D   | B   | A   |

9. 다음 <조건>을 고려하여 ○○시설의 입지를 선정하고자 할 때, 가장 적절한 곳을 후보지 A~E에서 고른 것은?

<조건>

1. 평가 항목별 점수는 표와 같으며, 각 평가 항목 점수의 합이 가장 큰 곳에 입지함.

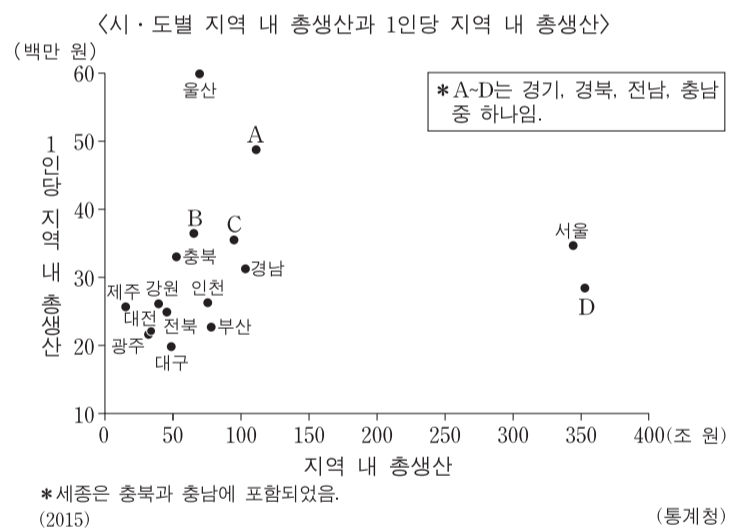
고도(m)	점수	생태 등급	점수
50 미만	1	2등급	1
50 이상~80 미만	2	3등급	2
80 이상	3	4등급	3

2. 후보지에 이웃한 8개 면의 고도가 후보지보다 모두 높으면 입지하지 못함.

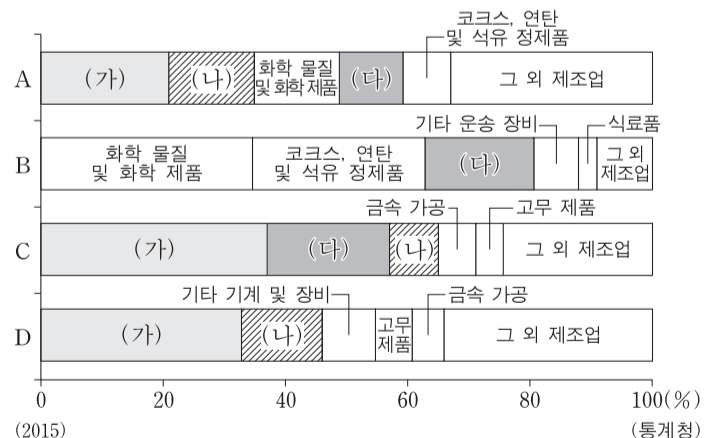
<고도 정보>					<생태 등급 정보>					<입지 후보지>				
40	45	55	50	40	4	4	3	3	3					
40	35	60	55	50	4	3	3	3	3		A		B	
55	65	80	75	70	4	4	3	3	3			C		
60	50	85	90	85	4	4	2	2	2		D		E	
55	60	85	85	80	4	4	2	4	2					

- ① A      ② B      ③ C      ④ D      ⑤ E

10. (가)~(다) 제조업의 특성에 대한 설명으로 옳은 것은? (단, (가)~(다)는 자동차 및 트레일러, 전자 부품·컴퓨터·영상·음향 및 통신 장비, 1차 금속 중 하나임.)

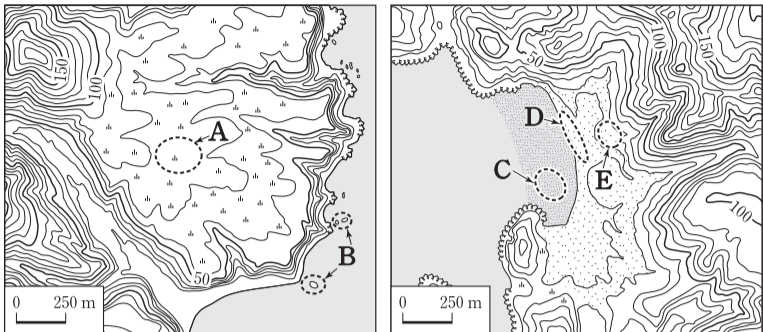


<A~D의 제조업별 출하액 비중>



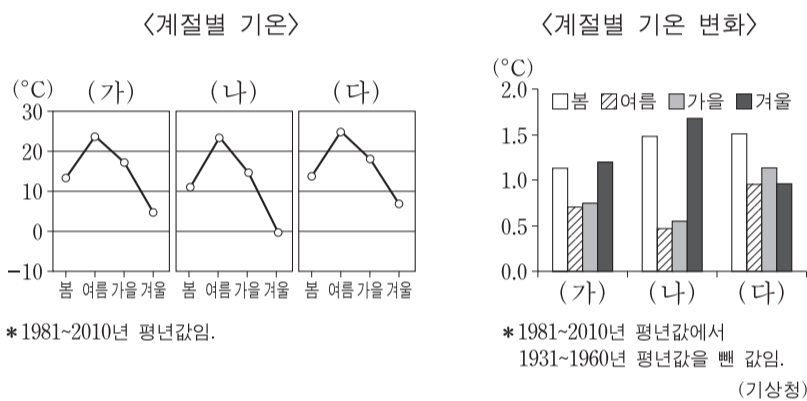
- ① (가)는 계열화된 공정이 필요한 집적 지향형 제조업이다.
- ② (나)는 1970년대 우리나라의 수출 주력 제조업이었다.
- ③ (다)는 운송비에 비해 부가가치가 크며 입지가 자유로운 제조업이다.
- ④ (가)는 (나)보다 최종 제품의 무게가 무겁고 부피가 크다.
- ⑤ (다)에서 생산된 최종 제품은 (나)의 주요 재료로 이용된다.

11. 지도의 A~E에 대한 설명으로 옳지 않은 것은?



- ① A는 과거의 파식대가 융기된 지형이다.
- ② B는 해식애가 후퇴하면서 육지에서 분리된 지형이다.
- ③ C는 주로 조류에 의해 퇴적되는 지형이다.
- ④ D는 주로 파랑과 연안류의 퇴적 작용으로 만들어진 지형이다.
- ⑤ E는 D보다 퇴적물의 평균 입자 크기가 크다.

12. (가)~(다)에 대한 옳은 설명을 <보기>에서 고른 것은? (단, (가)~(다)는 부산, 인천, 제주 중 하나임.)

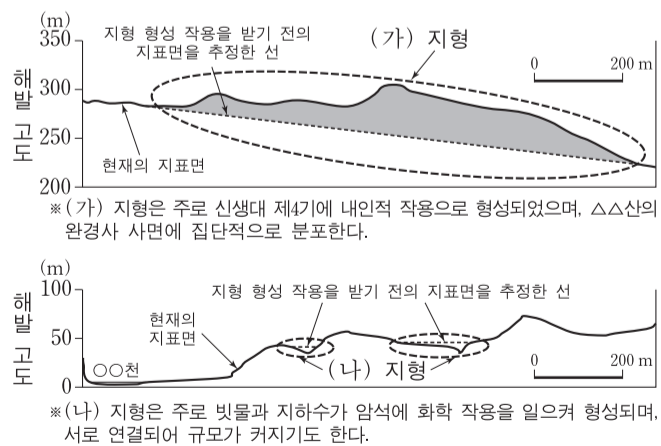


<보기>

ㄱ. (가)는 부산, (나)는 인천이다.  
 ㄴ. (나)는 (다)보다 무상 일수가 많다.  
 ㄷ. (가)~(다)의 겨울 기온은 위도가 높을수록 더 크게 상승했다.  
 ㄹ. 인천은 봄 기온, 제주는 겨울 기온이 가장 크게 상승했다.

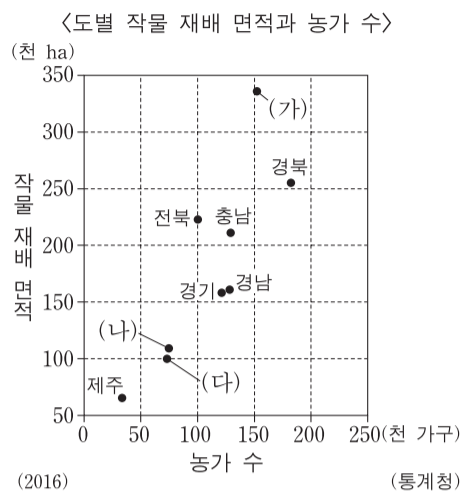
- ① ㄱ, ㄴ    ② ㄱ, ㄷ    ③ ㄴ, ㄷ    ④ ㄴ, ㄹ    ⑤ ㄷ, ㄹ

13. (가), (나) 지형이 나타난 지역의 공통적인 특징으로 옳은 것은? [3점]

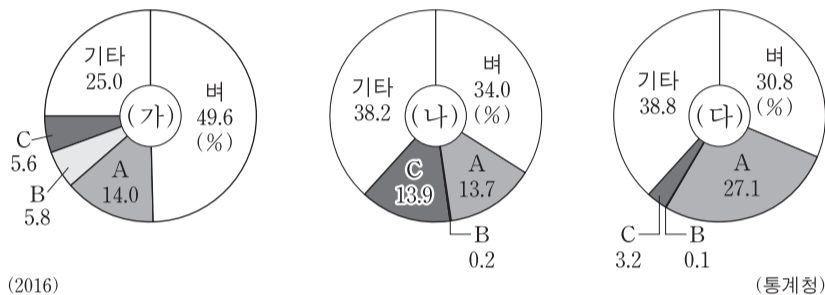


- ① 기반암의 특성으로 인해 건천이 나타난다.
- ② 기반암이 용식되어 형성된 동굴이 나타난다.
- ③ 분화구에 물이 고여 형성된 호수가 나타난다.
- ④ 기반암이 풍화되어 주로 검은 색의 토양이 나타난다.
- ⑤ (가), (나) 지형의 형성은 해발 고도를 높이는 작용을 한다.

14. 다음 자료에 대한 설명으로 옳은 것은? (단, (가)~(다)는 강원, 전남, 충북 중 하나이며, A~C는 과수, 맥류, 채소 중 하나임.) [3점]



<(가)~(다)의 작물 재배 면적 비중>



- ① (가)는 전남, (나)는 강원이다.
- ② 농가당 작물 재배 면적은 (다)가 (가)보다 넓다.
- ③ (가)~(다) 중 채소 재배 면적은 전남이 가장 넓다.
- ④ 도내 과수 재배 면적 비중은 강원이 충북보다 높다.
- ⑤ 도내 맥류 재배 면적 비중은 충북이 전남보다 높다.

15. 다음은 영남 및 호남 지방에 대한 수업 장면이다. 발표 내용이 옳지 않은 학생을 고른 것은? [3점]

<영남 및 호남 지방 탐구>

A~E의 지역 특성에 대해 발표해 볼까요?

갑 을 병 정 무

A에서는 국제 탈춤 페스티벌이 개최돼요.

B에는 유네스코가 지정한 세계 유산이 있어요.

C에서는 전통 한옥 마을이 관광지로 이용되고 있어요.

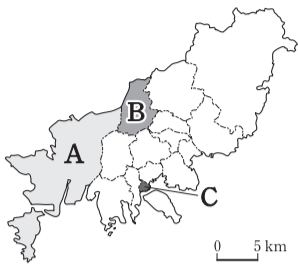
D에서는 나비를 주제로 축제가 열려요.

E는 지리적 표시제로 등록된 녹차가 유명해요.

- ① 갑    ② 을    ③ 병    ④ 정    ⑤ 무

# 4 사회탐구 영역 (한국 지리)

16. 다음 자료는 부산광역시에 위치한 A~C 구(區)의 인구나 종사자 현황을 나타낸 것이다. 이에 대한 설명으로 옳은 것은?



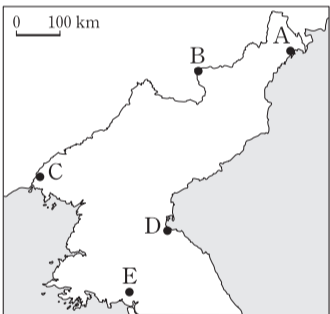
구분	인구		종사자	
	상주인구	통근·통학 순이동	전체 산업	제조업
A	86,505	79,825	114,531	72,339
B	294,147	-69,623	56,412	2,401
C	43,685	41,683	69,241	1,428

(단위: 명)  
\*통근·통학 순이동=통근·통학 유입 인구-통근·통학 유출 인구 (통계청) (2015)

- ① A는 B보다 인구 밀도가 높다.
- ② C는 A보다 초등학교 수가 많다.
- ③ C는 B보다 주거 기능이 우세하다.
- ④ 주간 인구는 A가 가장 많다.
- ⑤ 생산자 서비스업 종사자 비중은 C가 가장 높다.

17. (가)~(다)에서 설명하는 지역을 지도의 A~E에서 고른 것은?

(가)	(나)	(다)
화산 활동으로 형성된 산지이며, 정상부에는 칼데라호가 있음.	경원선의 종착지로 일제 강점기부터 공업 도시로 성장함.	2002년에 외자 유치 및 교역 확대를 위해 특별행정구로 지정함.



- |   | (가) | (나) | (다) |
|---|-----|-----|-----|
| ① | B   | A   | C   |
| ② | B   | D   | C   |
| ③ | B   | D   | E   |
| ④ | C   | D   | E   |
| ⑤ | C   | E   | A   |

18. (가)~(라)에 대한 옳은 설명을 <보기>에서 고른 것은?

<국토종합(개발)계획>

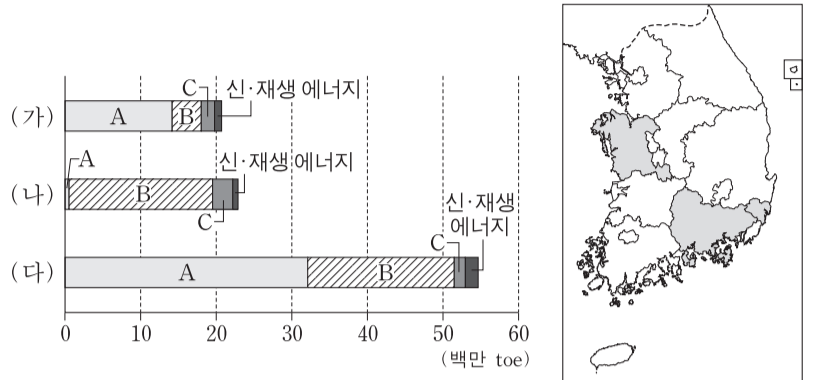
구분	제1차 국토종합개발계획 (1972~1981)	제2차 국토종합개발계획 (1982~1991)	제3차 국토종합개발계획 (1992~1999)	제4차 국토종합계획 (2000~2020)
개발 방식	거점 개발	광역 개발	(가)	
기본 목표	사회 간접 자본 확충	인구의 지방 정착 유도	지방 분산형 국토 골격 형성	균형, 녹색, 개방, 통일 국토
개발 전략	(나)	(다)	(라)	개방형 통합 국토축 형성

<보기>

- ㄱ. (가) - 투자 효과가 큰 지역을 선정하여 집중 투자하는 방식이다.
- ㄴ. (나) - 고속 국도, 항만, 다목적 댐 등을 건설하여 산업 기반을 조성하였다.
- ㄷ. (다) - 지방의 주요 도시와 배후 지역을 포함한 지역 생활권을 설정하였다.
- ㄹ. (라) - 혁신 도시와 기업 도시를 지정 및 육성하였다.

- ① ㄱ, ㄴ    ② ㄱ, ㄷ    ③ ㄴ, ㄷ    ④ ㄴ, ㄹ    ⑤ ㄷ, ㄹ

19. 그래프의 (가)~(다)는 지도에 표시된 세 지역의 1차 에너지원별 공급량을 나타낸 것이다. 이에 대한 설명으로 옳지 않은 것은? (단, A~C는 석유, 석탄, 천연가스 중 하나임.) [3점]

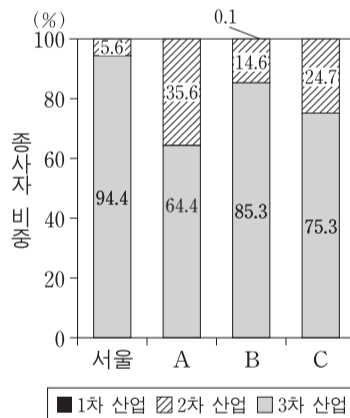


\*신·재생 에너지는 수력을 포함함. (에너지경제연구원) (2015)

- ① 경남은 충남보다 1차 에너지원별 공급량에서 석탄이 차지하는 지역 내 비중이 작다.
- ② A는 제철 공업의 주요 연료로 이용된다.
- ③ B는 울산의 1차 에너지원별 공급량에서 가장 큰 비중을 차지한다.
- ④ C는 B보다 가정용으로 이용되는 비중이 크다.
- ⑤ 발전에 이용되는 1차 에너지의 비중은 A>C>B 순이다.

20. 다음 자료에 대한 옳은 설명을 <보기>에서 고른 것은? (단, A~C, (가)~(다)는 광주, 울산, 인천 중 하나임.) [3점]

<서울과 3개 광역시의 산업별 종사자 비중과 인구 이동>



이동자 수 (명)	전입 도시				
	서울	(가)	(나)	(다)	
전출 도시	서울	-	9,216	44,915	5,950
	(가)	10,860	-	2,167	538
	(나)	33,570	1,894	-	1,359
	(다)	6,954	482	1,249	-

(통계청) (2015)

<보기>

- ㄱ. A는 (다), B는 (가)에 해당한다.
- ㄴ. 인천으로 전입한 인구는 광주가 울산보다 많다.
- ㄷ. (가)~(다) 중 서울과 지리적으로 가장 인접한 도시는 (가)이다.
- ㄹ. (가)~(다) 중 인구 규모가 가장 큰 도시는 3차 산업의 비중도 가장 높다.

- ① ㄱ, ㄴ    ② ㄱ, ㄷ    ③ ㄴ, ㄷ    ④ ㄴ, ㄹ    ⑤ ㄷ, ㄹ

\* 확인 사항  
○ 답안지의 해당란에 필요한 내용을 정확히 기입(표기)했는지 확인 하시오.

제 4 교시

사회탐구 영역(세계 지리)

성명  수험 번호

1. (가)~(다) 지도에 대한 설명으로 옳은 것은?

(가) (나) (다)



- ① (가)는 도교적 세계관을 반영하여 제작되었다.
- ② (다)에는 아메리카 대륙이 표현되어 있다.
- ③ (가)는 지도의 아래쪽이 북쪽, (나)는 지도의 위쪽이 동쪽이다.
- ④ (가)는 유럽에서, (다)는 중국에서 제작되었다.
- ⑤ (가)~(다)는 모두 경위선이 표현되어 있다.

2. 지도에 대한 옳은 설명을 <보기>에서 고른 것은?

<A 기업의 국가별 점포 현황(2015년)>



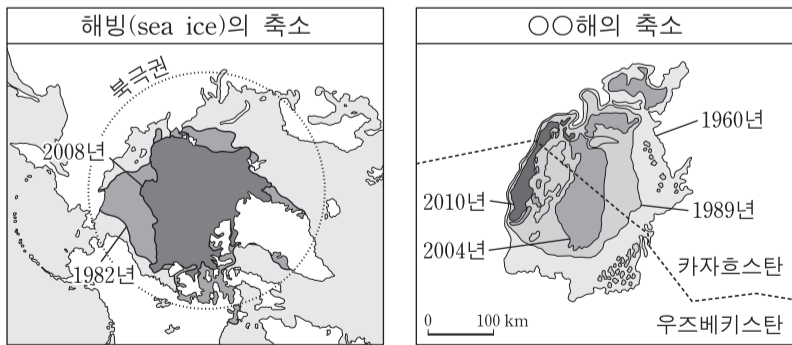
<보기>

- ㄱ. 공간 정보와 속성 정보가 표현되어 있다.
- ㄴ. 점포 수의 시간적 변화를 파악할 수 있다.
- ㄷ. 통계 값을 음영으로 표현한 단계 구분도이다.
- ㄹ. 점포 수에 따라 국가의 면적을 왜곡하여 만든 지도이다.

- ① ㄱ, ㄴ    ② ㄱ, ㄷ    ③ ㄴ, ㄷ    ④ ㄴ, ㄹ    ⑤ ㄷ, ㄹ

3. 자료 (가), (나)에 대한 설명으로 옳지 않은 것은? [3점]

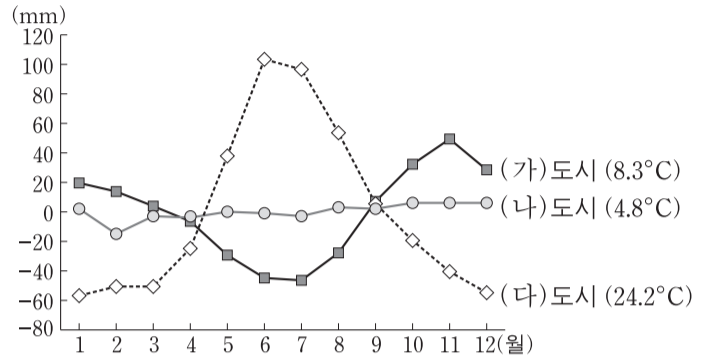
(가) (나)



- ① (가) - 주요 원인 중 하나로 온실가스의 증가를 들 수 있다.
- ② (가) - 문제 해결을 위해 국제 사회는 바젤 협약을 체결하였다.
- ③ (나) - ○○해는 평균 수심이 얕아졌다.
- ④ (나) - 지나친 관개 농업이 주요 원인이다.
- ⑤ (나) - ○○해 주변 지역에서는 토양 염류화가 진행되었다.

4. 그래프의 (가)~(다) 도시를 지도의 A~E에서 고른 것은?

<월 강수 편차와 1월 평균 기온>



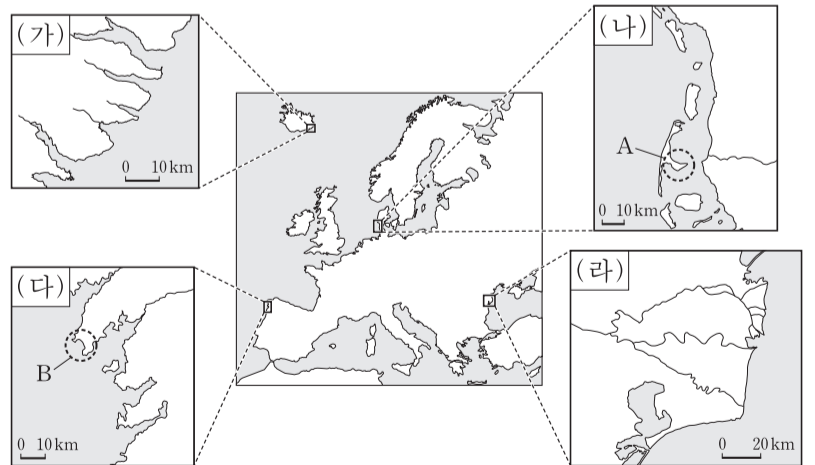
\* 월 강수 편차=월 강수량-(연 강수량/12)  
\*\* 괄호 안의 기온은 해당 도시의 1월 평균 기온임.



(가) (나) (다) (가) (나) (다)

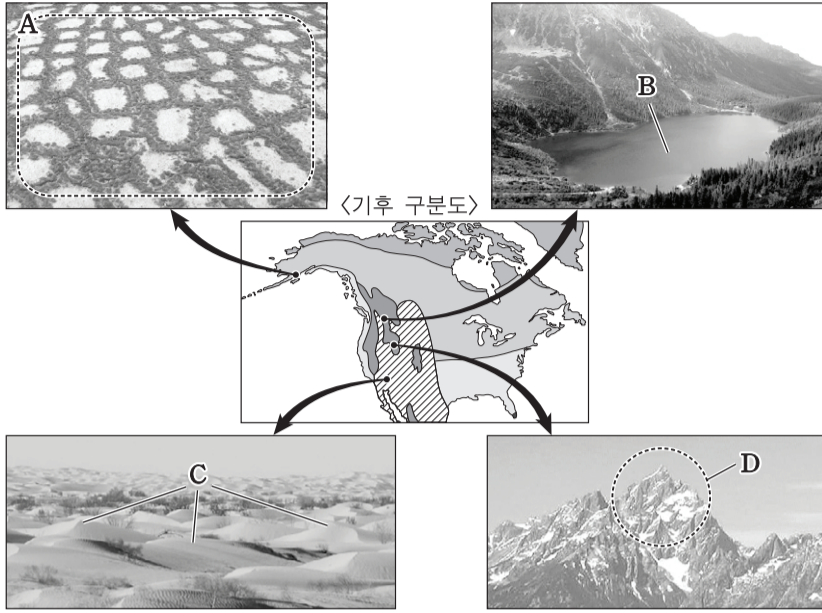
- ① A C D    ② A C E
- ③ B A C    ④ B A D
- ⑤ B E C

5. 지도에 표시된 (가)~(라) 해안에 대한 설명으로 옳지 않은 것은? [3점]



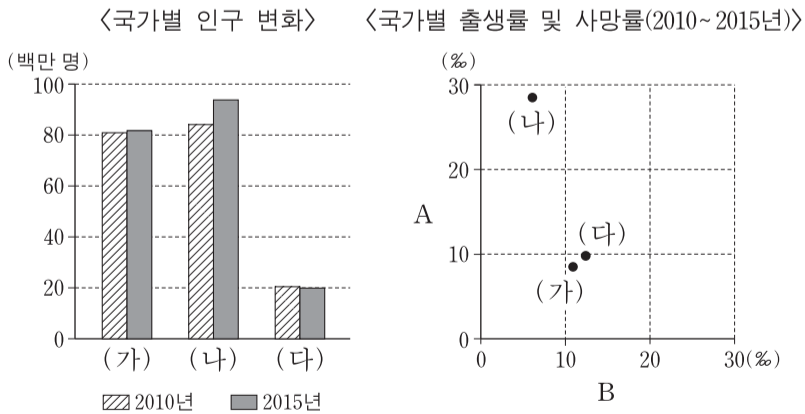
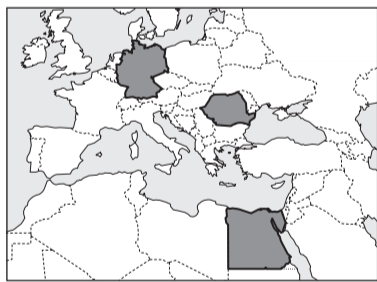
- ① A는 B에 비해 파랑의 침식 작용이 우세하다.
- ② (가)에서는 빙하에 의한 침식곡이 나타난다.
- ③ (가), (다)는 후빙기 해수면 상승에 따른 육지의 침수로 형성되었다.
- ④ (나), (라)에서는 사빈과 사주가 나타난다.
- ⑤ (라)는 (가)에 비해 하천에 의한 퇴적 작용이 활발하다.

6. 다음 자료의 A~D 지형에 대한 설명으로 옳은 것은? [3점]



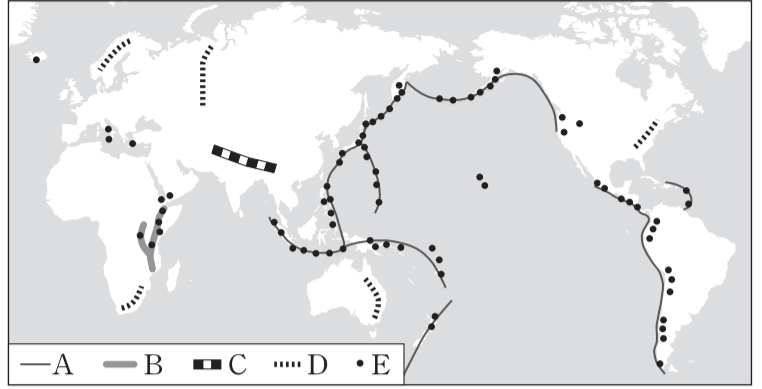
- ① A는 빙하 밑을 흐르는 용빙수의 퇴적 작용으로 형성된 언덕이다.
- ② B는 자유 곡류 하천의 유로 변경으로 형성된 호수이다.
- ③ C는 바람에 날린 모래에 의한 침식으로 형성된 매끄러운 면을 가진 암석이다.
- ④ D는 연중 월평균 기온이 15°C 내외인 상춘 기후 지역에서 잘 발달한다.
- ⑤ A~D는 화학적 풍화보다 물리적 풍화가 활발한 지역에서 잘 발달한다.

7. 그래프는 지도에 표시된 3개 국가의 인구 특성을 나타낸 것이다. 이에 대한 설명으로 옳은 것은? (단, (가)~(다)는 지도에 표시된 국가 중 하나임.) [3점]



- ① A는 사망률, B는 출생률이다.
- ② (다)는 아프리카에 위치한다.
- ③ 2010~2015년 (가)는 출생자 수가 사망자 수보다 많다.
- ④ 2010~2015년의 자연적 인구 증가율은 (나)가 가장 높다.
- ⑤ 2010~2015년의 전체 인구 증가율은 (다)가 가장 높다.

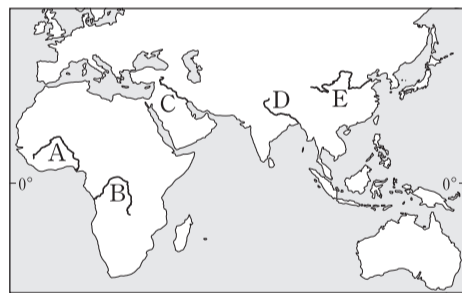
8. 지도에 표시된 A~E에 대한 설명으로 옳은 것은? [3점]



- ① A는 세계적인 철광석 매장 지역이다.
- ② B는 두 판의 충돌로 형성된 조산대이다.
- ③ C는 고생대에 조산 운동을 받은 습곡 산지이다.
- ④ D 지역은 지각이 불안정하여 지진과 화산 활동이 활발하다.
- ⑤ E 지역은 온천 관광과 지열 발전에 유리한 자연적 조건을 갖추고 있다.

9. (가), (나)에 해당하는 하천을 지도의 A~E에서 고른 것은?

(가) 이 하천은 유역 분지의 대부분이 열대 기후 지역으로 강수량이 많고 유역 면적이 넓어서, 나일강보다 하천 길이는 짧지만 유량은 훨씬 많다.  
 (나) 이 하천의 주변은 세계 4대 문명의 발상지에 해당하며, 하천의 이름은 ○○고원으로부터 공급된 다량의 토사로 인해 나타나는 물의 색에서 유래하였다.



- |   | (가) | (나) |
|---|-----|-----|
| ① | A   | C   |
| ② | A   | E   |
| ③ | B   | C   |
| ④ | B   | D   |
| ⑤ | B   | E   |

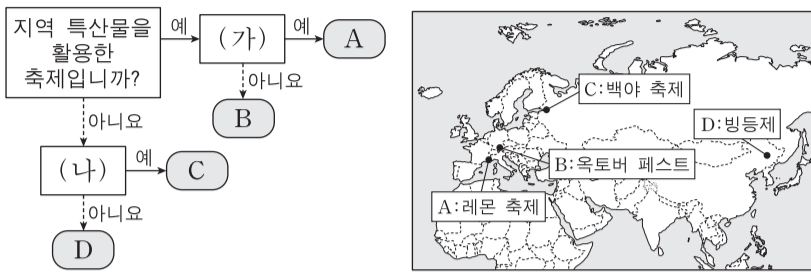
10. 다음 자료에 제시된 (가)~(마) 대륙에 대한 설명으로 옳은 것은? (단, 아메리카는 앵글로아메리카와 라틴 아메리카로 구분함.)

〈대륙별 총인구와 도시화율의 변화〉

대륙	총인구(백만 명)		도시화율(%)	
	1970년	2015년	1970년	2015년
(가)	284	695	22.6	40.4
(나)	1,624	2,272	23.7	48.2
(다)	243	196	63.0	73.6
(라)	124	127	57.1	79.8
(마)	61	66	73.8	81.6
오세아니아	6	12	71.3	70.8

- ① (라)에는 최상위 계층에 해당하는 세계 도시가 있다.
- ② (마)는 (다)보다 산업화의 시작 시기가 이른다.
- ③ 1970년 총인구는 (다)가 (라)보다 많다.
- ④ 2015년 도시 인구가 가장 많은 대륙은 (마)이다.
- ⑤ 1970~2015년의 총인구 증가율은 (나)가 (가)보다 높다.

11. 그림은 지도의 A~D 축제를 구분한 것이다. (가), (나)에 들어갈 옳은 질문을 <보기>에서 고른 것은? [3점]

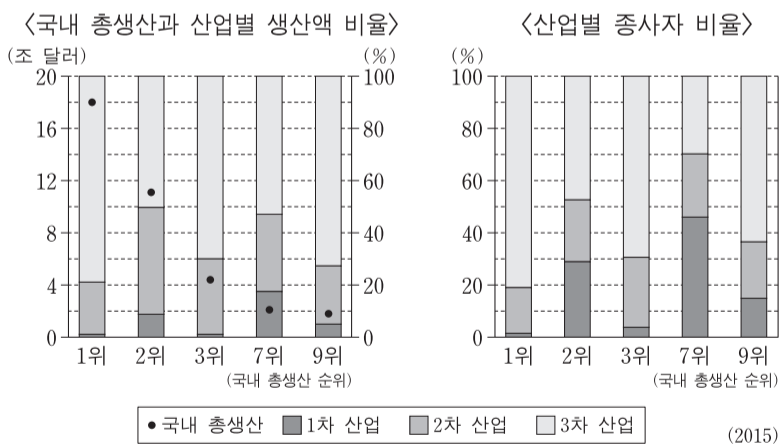


<보기>

- ㄱ. 지역의 주요 종교와 관련된 축제입니까?
- ㄴ. 겨울철 눈과 얼음을 활용한 축제입니까?
- ㄷ. 수목 농업이 활발한 지역에서 개최되는 축제입니까?
- ㄹ. 여름철 낮이 길게 지속되는 자연 환경을 활용한 축제입니까?

	(가)	(나)	(가)	(나)
①	ㄱ	ㄴ	ㄱ	ㄹ
②	ㄷ	ㄴ	ㄷ	ㄹ
③	ㄷ	ㄴ	ㄷ	ㄹ
④	ㄷ	ㄴ	ㄷ	ㄹ
⑤	ㄷ	ㄴ	ㄷ	ㄹ

12. 그래프는 5개국의 산업 구조를 국내 총생산 순위에 따라 나타낸 것이다. 이에 대한 옳은 설명만을 <보기>에서 있는 대로 고른 것은? (단, 5개국은 미국, 브라질, 인도, 일본, 중국임.) [3점]

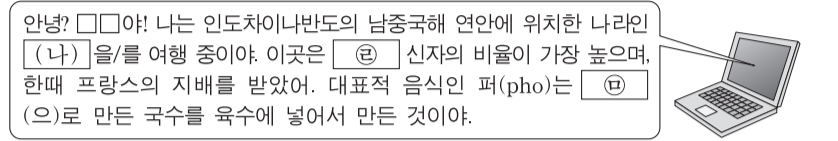
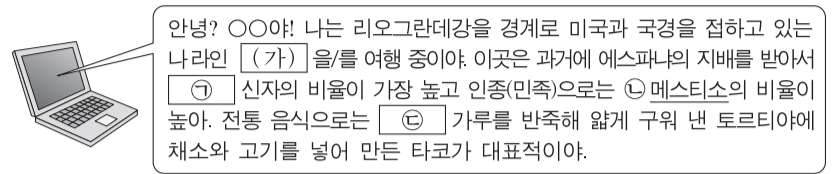


<보기>

- ㄱ. 2차 산업 생산액은 미국이 가장 많다.
- ㄴ. 5개국 모두 산업별 생산액 비율은 3차 산업이 가장 높다.
- ㄷ. 브라질은 2차 산업 종사자 수가 1차 산업 종사자 수보다 많다.
- ㄹ. 인도는 2차 산업 종사자 1인당 생산액이 3차 산업 종사자 1인당 생산액보다 많다.

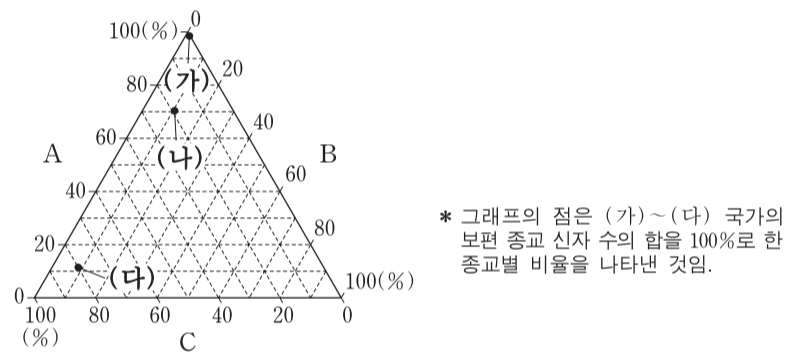
①	ㄱ, ㄷ	②	ㄴ, ㄷ	③	ㄴ, ㄹ
④	ㄱ, ㄷ, ㄹ	⑤	ㄴ, ㄷ, ㄹ		

13. 다음 자료는 여행 중인 두 학생이 주고받은 전자 우편의 내용이다. 이에 대한 설명으로 옳은 것은?



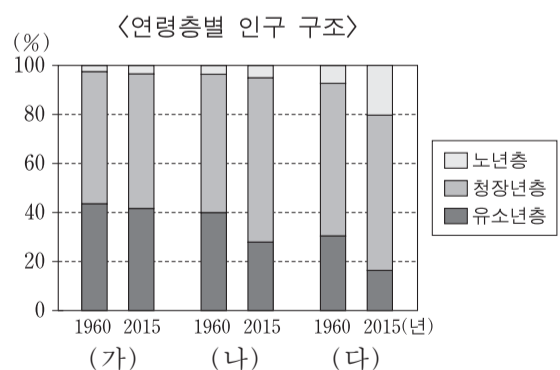
- ① (가)는 에스파냐어를, (나)는 프랑스어를 공용어로 사용하고 있다.
- ② 국가 내에서 ⊖ 인구가 차지하는 비율은 (가)가 페루보다 높다.
- ③ ⊕과 ⊖은 동일한 종교이다.
- ④ ⊖은 (나)가 위치한 대륙에서 기원하였다.
- ⑤ ⊖은 ⊕보다 고온 다습한 지역에서 주로 재배된다.

14. 그래프는 (가)~(다) 국가의 보편 종교 A~C 신자 수 비율을 나타낸 것이다. 이에 대한 설명으로 옳은 것은? (단, (가)~(다)는 말레이시아, 스리랑카, 파키스탄 중 하나임.) [3점]



- ① (나)는 파키스탄에 해당한다.
- ② B의 발상지 국가는 (가)와 국경선이 맞닿아 있다.
- ③ C의 신자 수가 가장 많은 대륙은 아시아이다.
- ④ B는 C보다 발생 시기가 이르다.
- ⑤ 전 세계 신자 수는 C가 A보다 많다.

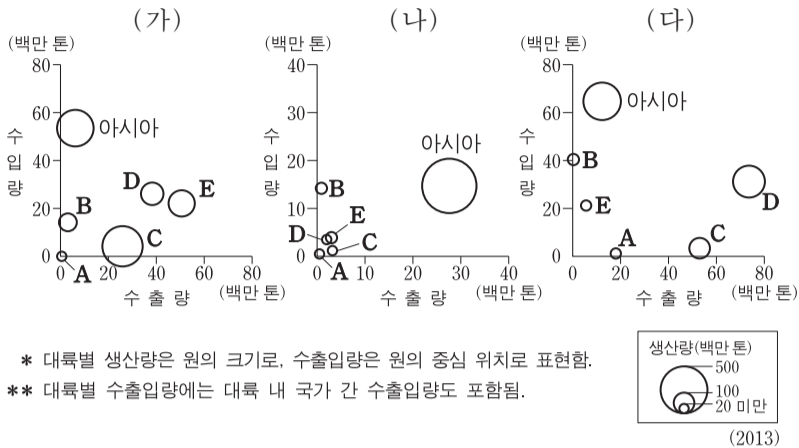
15. 그래프의 (가)~(다) 국가에 대한 설명으로 옳은 것은? (단, (가)~(다)는 에티오피아, 인도네시아, 핀란드 중 하나임.)



- ① (가)는 아시아, (나)는 아프리카에 위치한다.
- ② 1960년 중위 연령은 (가)가 가장 높을 것이다.
- ③ 2015년 (다)에서는 피라미드형 인구 구조가 나타난다.
- ④ 1960년 대비 2015년 (다)의 노년 부양비와 유소년 부양비는 모두 증가하였다.
- ⑤ 1960~2015년의 노령화 지수 증가폭은 (나)가 (가)보다 크다.



16. 그래프는 세계 3대 식량 작물 (가)~(다)의 대륙별 생산량과 수출입량을 나타낸 것이다. 이에 대한 설명으로 옳은 것은? (단, 아메리카는 앵글로아메리카와 라틴 아메리카로 구분함.)



- ① B는 아프리카, C는 앵글로아메리카에 해당한다.
  - ② (가)의 최대 생산국은 아시아에 위치한다.
  - ③ (나)는 (다)보다 국제적 이동량이 많다.
  - ④ (다)는 (가)보다 가축 사료용으로 사용되는 비중이 높다.
  - ⑤ 라틴 아메리카는 (다)의 생산량이 (가)보다 많다.
17. 다음은 '경제 활동의 세계화' 단원의 수업 장면이다. 교사의 질문에 옳은 대답을 한 학생을 고른 것은?

자료는 A 기업의 휴대 전화 제조 공정입니다. 이를 통해서 알 수 있는 내용을 발표해 볼까요?

**<제조 공정>**

- 개발 및 디자인 - 미국
- 부품 공급 - 미국, 유럽, 아시아
- 조립 - 중국, 브라질

오디오-미국, 프로세서-미국, 컨트롤러-미국

메모리-한국, 일본, 디스플레이-한국, 일본, 카메라-일본, 반도체 칩-한국, 배터리-한국, 지문 인식-타이완, 유도 코일-일본

가속도계-독일, NFC-네덜란드, 자이로스코프-프랑스

갑, 을, 병, 정

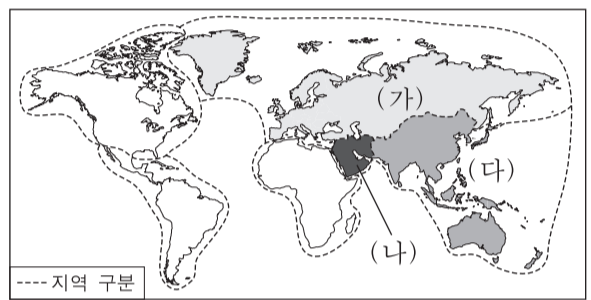
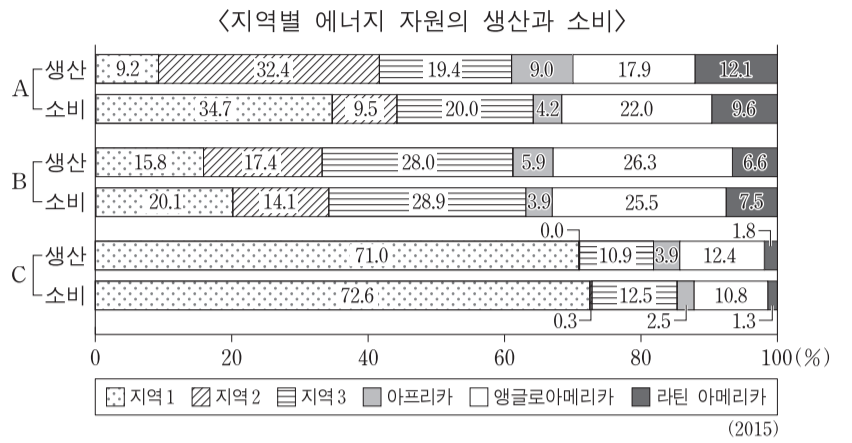
다국적 기업의 생산 활동을 나타내고 있습니다.    공간적 분업화를 통해 제품을 생산하고 있습니다.    적한지 지향형 공업의 사례를 나타내고 있습니다.    전 공정에서 저렴한 인건비 확보가 중요한 노동 집약적 산업입니다.

- ① 갑, 을    ② 갑, 병    ③ 을, 병    ④ 을, 정    ⑤ 병, 정
18. 다음 글의 ㉠~㉤에 대한 설명으로 옳지 않은 것은? [3점]

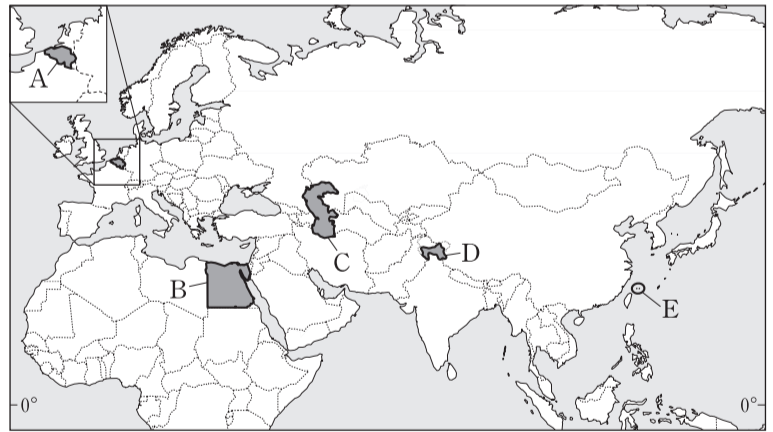
적도 부근 지역은 태양 복사 에너지의 유입량이 많아, ㉠ 지표면의 가열에 의한 상승 기류가 활발한 곳이다. 상승한 대기는 남·북위 25°~30° 부근에서 하강 기류가 되어 ㉡ 아열대 고압대를 형성한다. 그리고 하강한 대기는 다시 ㉢ 적도 쪽으로 이동하여 열대 수렴대를 형성한다. 한편, 기울어진 지구의 자전축으로 인해, ㉣ 태양 복사 에너지가 지표에 수직으로 전달되는 지점은 계절에 따라 이동한다. 따라서 열대 수렴대가 남북으로 이동하게 되어 전기와 우기가 반복되는 ㉤ 사바나 기후 지역이 나타난다.

- ① ㉠에 의해 대류성 강수가 발생한다.
- ② ㉡은 지중해성 기후 지역의 여름 기후에 영향을 준다.
- ③ ㉢의 과정에서 발생하는 바람은 무역풍이다.
- ④ ㉣은 북회귀선과 남회귀선 사이에 위치한다.
- ⑤ 남반구의 ㉤은 7월에 대부분 우기이다.

19. 그래프는 지도에 표시된 6개 지역의 에너지 자원 생산량 비중과 소비량 비중을 나타낸 것이다. 이에 대한 설명으로 옳은 것은? (단, A~C는 석유, 석탄, 천연가스 중 하나임.) [3점]



- ① A는 천연가스, C는 석탄이다.
  - ② B는 A보다 상용화된 시기가 이른다.
  - ③ (다)에서는 A의 생산량이 소비량보다 많다.
  - ④ (가)는 (나)보다 B의 생산량이 많다.
  - ⑤ 전 세계 에너지 자원의 소비량은 A>B>C 순이다.
20. 지도는 갈등 및 분쟁 지역을 나타낸 것이다. A~E 지역에 대한 설명으로 옳지 않은 것은?



- ① A - 서로 다른 언어를 사용하는 지역 간에 갈등이 있다.
- ② B - 수자원을 둘러싸고 하천 상류에 위치한 국가와 갈등이 있다.
- ③ C - 갈등 당사국에는 러시아가 포함되어 있다.
- ④ D - 이슬람교와 힌두교 간의 갈등이 있다.
- ⑤ E - 영유권 문제로 중국과 필리핀 간의 갈등이 있다.

\* 확인 사항  
 ○ 답안지의 해당란에 필요한 내용을 정확히 기입(표기)했는지 확인 하시오.

제 4 교시

사회탐구 영역(동아시아사)

성명

수험 번호

1. (가)에 해당하는 유물로 옳은 것은?

**<동아시아 000 문화 특별전>**

동아시아에서 금속기를 사용하기 시작한 000 시대의 다양한 문화를 유물 사진으로 살펴볼 수 있는 전시회에 여러분을 초대합니다.

○ 기간: 2017년 11월 △일~△△일  
○ 장소: □□ 고등학교 역사 교실

**전시 안내**

제1실: 한반도·만주 지역 - 청동 거울, 민무늬 토기 등  
제2실: 황허강 유역 - 청동 술잔, 네 발 달린 술 등  
제3실: 베트남 지역 - (가)



2. (가), (나) 사이 시기에 동아시아에서 있었던 사실로 옳은 것은?

(가) 『대당서역기』의 주인공인 그는 불경 원전을 공부하고자 장안을 떠나 인도의 불교 성지를 순례하였다. 십 수년 만에 귀국한 그는 인도에서 가져온 불경을 자은사에서 번역하였다. 그가 가져온 불경과 불상 등을 보존하기 위해, 고종 때 자은사 경내에 대안탑이 건립되었다.

(나) 『입당구법순례행기』의 저자인 그는 불교 성지를 순례하는 과정에서 적산 법화원의 신라인에게 도움을 받았다. 그는 9년이 넘는 여정을 순례기에 상세히 기록하였다.

- ① 법흥왕이 불교를 공인하였다.
- ② 쇼무 천황이 도다이사를 창건하였다.
- ③ 문성제가 원강 석굴에 대불을 조성하였다.
- ④ 혜자가 쇼토쿠 태자에게 불교를 전수하였다.
- ⑤ 법현이 인도를 순례하고 불국기를 저술하였다.

3. (가) 국가의 대외 관계에 대한 설명으로 옳은 것은? [3점]

이 장면은 유목 국가와 농경 국가가 전투하는 모습을 등에 새긴 것이다. 이 가운데 뾰족한 모자를 쓰고 활을 쓰는 사람은 (가)의 병사라고 한다. (가)은/는 목욕 선우 때 동호와 월지를 제압하였고, 선우 아래에 좌현왕과 우현왕을 두었다.

- ① 안남 도호부를 설치하였다.
- ② 북주로부터 조공을 받았다.
- ③ 위구르에 화번공주를 보냈다.
- ④ 한 무제의 군대와 전투를 벌였다.
- ⑤ 어울락(어우락) 왕국을 정복하였다.

4. (가), (나) 국가에 대한 설명으로 옳은 것은?

몽골은 대외 원정에 나서 탕구트족이 세운 (가)을/를 정복하였다. 그 뒤 몽골은 대리국을 멸망시키고, 남쪽으로 진출하여 탕롱을 수도로 하는 (나)을/를 세 차례에 걸쳐 공격하였다. (나)의 장군은 '격장사'라는 격문을 배포 하면서 끝까지 저항하여 바익당 강가에서 몽골군을 격퇴 하였다.

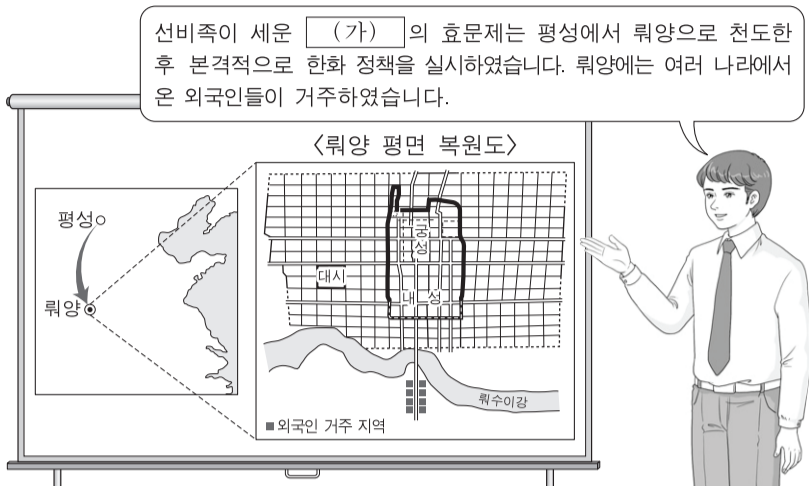
- ① (가) - 수도를 대도로 옮겼다.
- ② (가) - 연운 16주를 차지하였다.
- ③ (나) - 쓰놈 문자를 사용하였다.
- ④ (나) - 맹안 모극제를 실시하였다.
- ⑤ (나) - 송과 연합하여 거란(요)을 공격하였다.

5. 밑줄 친 ㉠ 시기의 동아시아 상황으로 옳은 것은? [3점]

고다이코 천황의 명령을 받아 닛타 요시사다 등이 무사 정권을 타도하였다. 이후 고다이코 천황이 겐무 신정을 추진 하자, 여기에 불만을 품은 무사 세력들이 고묘 천황을 옹립 하였다. 이에 반발한 고다이코 천황이 남쪽으로 피신하면서 내란이 시작되었고, ㉠약 60년간 남조와 북조가 대립하였다.

- ① 한국 - 흉건적의 침입을 받았다.
- ② 한국 - 삼별초가 진도를 거점으로 항쟁하였다.
- ③ 중국 - 알탄 칸의 침략을 받았다.
- ④ 중국 - 정화의 대항해가 시작되었다.
- ⑤ 베트남 - 응오 왕조가 수립되었다.

6. (가) 국가 시기의 동아시아 대외 관계에 대한 설명으로 옳은 것은? [3점]



- ① 당이 돌궐을 복속시켰다.
- ② 왜가 수에 국서를 보냈다.
- ③ 발해가 일본에 사신을 파견하였다.
- ④ 거란(요)과 송이 진연의 맹약을 맺었다.
- ⑤ 제(남제)와 고구려가 책봉·조공 관계를 맺었다.

7. 다음 상황이 발생한 시기를 연표에서 옳게 고른 것은?

불랑기포를 중국에 전래한 포르투갈은 광둥 지방관에게 마카오에서 거주할 수 있도록 허락을 받고, 이곳을 중국 진출의 교두보로 삼았다. 이로부터 얼마 후 에스파냐는 마닐라를 점령하여 동아시아 진출을 위한 전진 기지로 삼았다.



- ① (가)      ② (나)      ③ (다)      ④ (라)      ⑤ (마)

8. 다음 자료의 상황이 나타난 당시의 동아시아 대외 관계에 대한 설명으로 옳은 것은? [3점]

압록강을 건너 40여 일 만에 연경에 도착하였다. 건륭제의 70세 생신을 축하하는 잔치가 열하에서 열린다는 통보를 받고 다시 열하로 서둘러 출발하였다. 건륭제는 즉위 이래 열하의 피서산장에서 해마다 여름을 보낸다고 한다. 피서라고 하지만 실은 만리장성 이북의 몽골족을 방비하기 위함이다.  
- 『열하일기』 -

- ① 한국 - 일본과 기유약조를 체결하였다.
- ② 중국 - 북로남왜의 침입으로 국력이 쇠약해졌다.
- ③ 중국 - 광저우에서 서양과의 무역이 이루어졌다.
- ④ 일본 - 사비에르가 크리스토포콜로 Colombo를 포교하였다.
- ⑤ 일본 - 감합 무역으로 중국 동전이 수입되었다.

9. (가) 왕조 시기에 동아시아에서 볼 수 있는 모습으로 적절한 것은? [3점]



- ① 중국 - 홍루몽을 집필하는 문인
- ② 중국 - 조·용·조제에 따라 세금을 납부하는 농민
- ③ 일본 - 신패를 발급받는 외국 상인
- ④ 일본 - 오닌의 난에서 활약하는 무사
- ⑤ 베트남 - 대월사기를 편찬하는 학자

10. 가상 보고서에서 밑줄 친 '국가'의 통치 제도에 대한 설명으로 옳은 것은?

야간 순찰 보고서

도성의 좌경(左京)에서 야간 순찰을 돌다가 야간 통행 금지를 위반한 자를 체포하였습니다. 심문을 해 보니 그는 귀국한 건당사가 작성한 공문서를 국가의 행정을 담당하는 태정관 소속의 관리에게 전해 주러 가는 길이었다고 합니다. 양로령(養老令) 가운데 '공적인 일을 수행할 때는 야간 통행을 허가한다.'라는 조문에 따라 그를 처벌하지 않고 석방하였습니다.

- ① 정당성 아래 6부를 설치하였다.
- ② 북면관·남면관제를 실시하였다.
- ③ 감찰 기관으로 탄정대를 설치하였다.
- ④ 군사·행정 조직으로 팔기제를 운영하였다.
- ⑤ 국학의 학생을 대상으로 독서삼품과를 시행하였다.


11. (가) 막부 시기에 동아시아에서 볼 수 있는 모습으로 적절하지 않은 것은?

오랜 흉작으로 오사카 미곡 시장의 거래 가격이 급등하고 유입량도 크게 줄어들었습니다. 배고픔을 견디다 못한 조인들이 매점매석으로 폭리를 취한 미곡 도매상을 공격하는 소동을 일으켰다고 합니다. 부디 (가) 막부의 쇼군께서는 그 유례를 찾기 힘든 덴메이 기근의 대책을 마련하여 주시기 바랍니다.

- ① 한국 - 수원 화성을 건설하는 기술자
- ② 한국 - 혼일강리역대국도지도를 편찬하는 관리
- ③ 중국 - 사고전서 편찬에 참여하는 유학자
- ④ 일본 - 고사기전을 저술하는 국학자
- ⑤ 일본 - 서양 의학서를 번역하는 난학자

12. (가), (나) 왕조에 대한 설명으로 옳은 것은?

이 문묘는 (가) 왕조 때 처음 건립되었습니다. 그리고 이 문묘 안에는 (나) 왕조가 세운 진사제명비가 있습니다. 명의 지배로부터 독립한 (나) 왕조는 문묘와 국자감의 위상을 강화하였습니다.



- ① (가) - 문적원을 설치하였다.
- ② (가) - 정강의 변을 겪고 수도를 옮겼다.
- ③ (나) - 신기관을 설치하였다.
- ④ (나) - 주인장을 발행하여 교역을 통제하였다.
- ⑤ (가), (나) - 과거제를 시행하였다.

13. (가), (나) 사이 시기의 동아시아 상황으로 옳은 것은? [3점]

(가) 일본이 전쟁에 승리하여 랴오둥반도를 차지하게 되자 러시아가 독일, 프랑스와 함께 이를 청에게 반환하도록 요구하였다. 이에 일본은 청으로부터 추가 배상금을 받는 조건으로 랴오둥반도를 반환하였다.

(나) 8개국 연합군은 베이징으로 진격하여 열강의 이권 침탈에 대한 저항에서 비롯된 민족 운동을 진압하였다. 이에 청은 외국 군대의 베이징 주둔을 허용하고, 막대한 배상금 지불을 약속하는 조약을 체결하였다.

- ① 한국 - 대한 제국이 수립되었다.
- ② 중국 - 신해혁명이 일어났다.
- ③ 일본 - 제국 헌법이 제정되었다.
- ④ 일본 - 이와쿠라 사절단이 파견되었다.
- ⑤ 베트남 - 동유 운동이 전개되었다.

14. 다음 자료에 나타난 시기의 동아시아 경제에 대한 설명으로 옳지 않은 것은? [3점]

○ 각 지역에서는 한전(旱田)의 성질에 맞추어 옥수수 등의 곡식 이외에 고구마, 삼, 모시 등의 작물을 재배하여 큰 이익을 얻고 있다.  
- 정약용, 『경세유표』 -

○ 상추쌈에 보리밥을 둥글게 싸 삼키고는 고추장에 파뿌리도 곁들여 먹는다오.  
- 정약용, 「장기 농가」 -

- ① 한국 - 송상, 만상 등의 사상이 활동하였다.
- ② 한국 - 경강상인이 미국 등을 거래하며 이익을 얻었다.
- ③ 중국 - 산시 상인과 휘저우(후이저우) 상인이 활약하였다.
- ④ 중국 - 강남 지역에 이양법(모내기법)이 도입되기 시작하였다.
- ⑤ 일본 - 조카마치를 중심으로 상공업이 발전하였다.

15. 밑줄 친 ㉠ 이후에 일어난 사실로 옳은 것은?

만주국 수립 이후, 일본은 화북(화베이) 지역으로 진출하는 정책을 추진하여 베이징과 텐진까지 세력을 확대하였다. 이러한 가운데 베이징 교외의 루거우차오 부근에서 일본군과 중국군이 충돌하는 사건이 발생하였다. 이 사건을 빌미로 일본이 베이징과 상하이를 공격하면서 ㉠ 전쟁이 시작되었다.

- ① 제1차 국·공 협작이 단행되었다.
- ② 조선 의용대가 한커우에서 조직되었다.
- ③ 판보이쩌우가 베트남 광복회를 조직하였다.
- ④ 장제스가 베이징을 점령하여 북벌을 완료하였다.
- ⑤ 극동 인민 대표 회의가 모스크바에서 개최되었다.

16. (가), (나) 조규에 대한 설명으로 옳지 않은 것은? [3점]

○ 청·일 양국은 서로 간의 화의를 더욱 돈독히 하고, 서로 영원히 침범하지 않을 것을 규정하였다. 이 같은 (가) 를 통해 양국은 상호 대등한 관계를 수립하였다.

○ 조선은 일본의 강요에 의해 개항장에서 일본인의 통상을 인정하고, 한반도 일대의 해안 측량을 허가하였다. 이 같은 (나) 를 통해 일본은 청과 조선의 전통적인 관계를 부정하려고 하였다.

- ① (가) - 타이완을 일본에 할양하도록 규정하였다.
- ② (가) - 양국의 개항장에 이사관[영사관] 주재를 명기하였다.
- ③ (나) - 조선이 자주국임을 명시하였다.
- ④ (나) - 부산 이외에 두 곳의 추가 개항을 규정하였다.
- ⑤ (나) - 조선의 개항장에서 일본의 영사 재판권을 인정하였다.

17. (가)~(다)에 들어갈 내용으로 적절하지 않은 것은?

**탐구 활동 보고서**

○ 탐구 주제: 동아시아의 근대 서구 문물 수용

○ 탐구 활동: 동아시아 각국이 근대 서구 문물을 수용한 사례를 조사한다.

○ 모듈별 조사 결과

1모듈: 한국 -  (가)

2모듈: 중국 -  (나)

3모듈: 일본 -  (다)

- ① (가) - 경인선이 부설되었다.
- ② (가) - 한성순보가 발간되었다.
- ③ (나) - 경사대학당이 설립되었다.
- ④ (나) - 상하이 와이탄에 서구식 건축물이 들어섰다.
- ⑤ (다) - 영국인이 신보(申報)라는 신문을 창간하였다.

18. (가), (나)에 대한 설명으로 옳지 않은 것은? [3점]

(가) 제1조 평화 조약 및 이 조약의 효력 발생과 동시에 일본은 미국의 군대를 일본 국내 및 그 부근에 배치할 권리를 허락하고, 미국은 이를 수락한다. 이 군대는 극동의 평화와 안전에 기여하고, 외부의 공격 및 외국의 선동 등에 의한 일본의 내란과 소요를 진압하기 위하여 일본 정부의 요청에 따라 일본의 안전을 목적으로 사용할 수 있다.

제2조 :

---

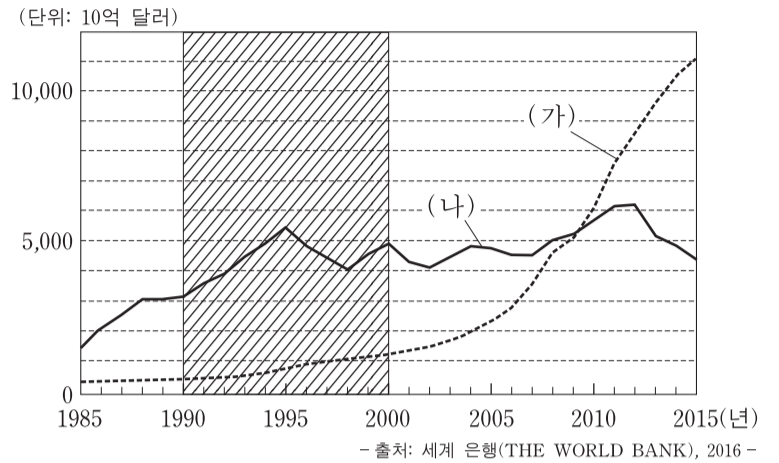
(나) 제1조 잠정적인 군사 분계선을 설정하고, 베트남 인민군은 북위 17도선의 이북으로, 프랑스 연합군은 북위 17도선의 이남으로 이동한다.

제2조 :

- ① (가) 체결 후에 유엔에서 6·25 전쟁 참전을 결정하였다.
- ② (가)를 통해서 미국은 일본과 동맹 관계를 구축하였다.
- ③ (나) 체결 전에 일본과 타이완이 국교를 수립하였다.
- ④ (나) 체결 후에 남베트남 민족 해방 전선이 결성되었다.
- ⑤ (나)에서 총선거를 통한 베트남 통일 정부 수립이 합의되었다.

19. 빗금 친 시기에 (가), (나) 국가에서 있었던 상황으로 옳은 것은?

<동아시아 (가), (나) 국가의 국내 총생산(GDP) 변화>



- ① (가) - 세계 무역 기구(WTO)에 가입하였다.
- ② (가) - 도이머이 정책을 추진하여 경제가 성장하였다.
- ③ (나) - 55년 체제가 무너졌다.
- ④ (나) - 국제 통화 기금(IMF)의 관리를 받았다.
- ⑤ (가), (나) - 양국 사이에 국교가 수립되었다.

20. (가) 인물에 대한 설명으로 옳은 것은? [3점]

동아시아의 현대사 인물 카드

(가) (1904~1997)

이른바 '흑묘백묘론'을 주장한 인물이다. 문화 대혁명 시기에 반대파로부터 타도 대상이 되어 공직에서 추방되기도 하였다. 문화 대혁명 후에 집권한 그는 농업·공업·국방·과학 기술의 4개 부문 현대화를 기본 방침으로 확고히 하고 경제 발전에 주력하였다.

- ① 중화민국의 수립을 선포하였다.
- ② 나진·선봉 지역을 경제 특구로 지정하였다.
- ③ 3선 개헌을 통하여 장기 집권을 추구하였다.
- ④ 민진당(민주진보당) 후보로 총통에 선출되었다.
- ⑤ 사회주의 체제 하에서 개혁 개방 정책을 실시하였다.

\* 확인 사항  
○ 답안지의 해당란에 필요한 내용을 정확히 기입(표기)했는지 확인 하시오.


제 4 교시

사회탐구 영역(세계사)

성명

수험 번호

1. 밑줄 친 '이 문명'에 대한 설명으로 옳은 것은?



그림은 이 문명에서 사용한 췌기(설형) 문자가 새겨져 있는 점토판이다. 이 문명의 사람들은 갈대 펜이나 금속으로 만든 필기구로 글자를 새겨 기록하였다. 췌기 문자로 쓰인 대표적인 작품으로는 『길가메시 서사시』가 있다.

- ① 지구라트를 만들었다.
- ② 크노소스 궁전을 건축하였다.
- ③ 황허강 유역에서 발달하였다.
- ④ 하라파와 모헨조다로를 건설하였다.
- ⑤ 피라미드와 �핑크스를 건립하였다.

2. (가)에 들어갈 내용으로 적절하지 않은 것은? [3점]

**탐구 활동 계획서**

- 탐구 주제: 영국 산업 혁명의 전개
- 탐구 활동
  - 1모둠: 영국의 석탄과 철 생산지 분포 상황을 파악한다.
  - 2모둠: 애덤 스미스와 고전 경제학의 발전에 대해서 조사한다.
  - 3모둠: (가)

- ① 한자 동맹의 결성 배경을 파악한다.
- ② 와트의 증기 기관 개량에 대해서 알아본다.
- ③ 제2차 인클로저 운동의 전개 과정을 분석한다.
- ④ 방적기의 발명과 개량이 끼친 영향을 탐구한다.
- ⑤ 스티븐슨이 개발한 증기 기관차의 실용화 과정을 조사한다.

3. 밑줄 친 '이 시기'에 대한 설명으로 옳은 것은? [3점]

주나라가 뤼양으로 수도를 옮긴 후 패자들은 주 왕실을 받들고 오랑캐를 물리친다는 명분으로 주변의 제후들과 모임을 자주 가졌다. 이 시기의 중요한 정치 의례였던 이런 모임에서는 노인을 공경하고, 양곡 수입을 막지 말자는 등의 합의가 이루어졌다.


- ① 죽림칠현이 등장하였다.
- ② 황건적의 난이 일어났다.
- ③ 철제 농기구가 사용되었다.
- ④ 균수법과 평준법이 실시되었다.
- ⑤ 9품중정제로 관리가 선발되었다.

4. (가) 국가에 대한 설명으로 옳은 것은?

교황 알렉산데르 6세는 카보베르데 제도의 서쪽 100레구아 지점을 경계선으로 (가)은/는 서쪽을, 포르투갈은 동쪽을 차지하게 하는 칙서를 발표하였다. 포르투갈이 불만을 제기하자, 약 1년 후 두 나라의 대표들이 토르데시야스에서 만나 경계선을 다시 확정하는 조약을 맺었다. 이 조약에 의해서 (가)은/는 브라질을 제외한 아메리카 대륙 대부분에 대한 지배권을 확보할 수 있었다.

- ① 바스쿠 다 가마의 원정대를 파견하였다.
- ② 동인도 회사를 앞세워 인도를 지배하였다.
- ③ 필리핀을 점령하여 태평양 교역에 앞장섰다.
- ④ 바타비아를 거점으로 인도네시아를 지배하였다.
- ⑤ 7년 전쟁의 패배로 아메리카 식민지의 대부분을 상실하였다.

5. 밑줄 친 '개혁'에 대한 설명으로 옳은 것은? [3점]




그림은 일본과 서구 열강의 이권 침탈로 위기가 고조되자, 부국·강병·양민(養民)·정치 체제 변화 등을 요구한 상서에 많은 사람들이 서명한 후 이를 조정에 전달하는 모습이다. 광서제는 상서의 주장 일부를 받아들여 개혁을 시도하였다. 그는 공업·상업·교육 등 수입 항목에 관한 칙령을 내렸다. 그러나 개혁은 보수파의 반대로 실패하였다.

- ① 증국번이 주도하였다.
- ② 금릉 기기국을 설치하였다.
- ③ 향용에 의해서 저지되었다.
- ④ 관리 선발 방식의 변화를 추구하였다.
- ⑤ 차관의 담보로 이용하기 위해서 철도 국유화를 추진하였다.

6. (가) 도시에 대한 설명으로 옳은 것은? [3점]

유네스코 세계 유산을 찾아서 지중해 편



안토니누스의 목욕탕

(가) 고고 유적

페니키아인이 튀니스만의 언덕 위에 세운 (가)은/는 해상 무역으로 번성하였으나, 지중해 해상권을 놓고 로마와 벌인 전쟁에서 패한 후 철저히 파괴되었다. 이후 로마는 이 도시를 재건하면서 그림에 나오는 목욕탕을 비롯하여 많은 건축물을 만들었다.


- ① 반달 왕국에 점령당하였다.
- ② 사산 왕조 페르시아에 편입되었다.
- ③ 알렉산드로스 대왕에게 정복당하였다.
- ④ 수사에서 시작된 '왕의 길'의 종착지였다.
- ⑤ 옥타비아누스가 이집트를 멸망시킨 전투가 벌어졌다.

7. 밑줄 친 '제도'에 대한 설명으로 옳은 것은? [3점]

나라가 혼란에 빠진 지 수십 년이 지나는 동안 고향 땅에 남아 있는 이는 백 명 중 네댓 명 정도였다. 이에 재상 양염은 국가 재정 지출에 따라 세액을 결정하고 여름과 가을 두 차례에 걸쳐 징수하는 제도의 시행을 건의하였다.

- ① 문벌 귀족의 형성에 기여하였다.
- ② 황소의 난을 계기로 도입되었다.
- ③ 균전제 실시의 기반을 마련하였다.
- ④ 5호의 화북 점령 이전에 실시되었다.
- ⑤ 자산에 따른 세금 부과를 규정하였다.

8. 밑줄 친 '발표'가 이루어진 시기를 연표에서 옳게 고른 것은?




모스크바 시각 12월 25일 저녁 7시 고르바초프가 마침내 대통령 직에서 사임하겠다고 발표하였습니다. 그는 독립 국가 연합 창설이 이미 결정된 상황에서 더 이상 소련 대통령 직을 수행할 수 없다고 밝혔습니다.

(가)	(나)	(다)	(라)	(마)
▲ 베트남 전쟁 종식	▲ 폴란드 자유 노조 '연대' 결성	▲ 텐안먼 사건 발발	▲ 베를린 장벽 붕괴	▲ 유럽 연합 출범
▲ 세계 무역 기구 출범				

- ① (가)
- ② (나)
- ③ (다)
- ④ (라)
- ⑤ (마)

9. 밑줄 친 '이 황제'에 대한 설명으로 옳은 것은?



『대의각미록』을 저술한 이 황제는 조세 징수를 간소화하기 위하여, 지세와 정세를 통합하여 은으로 거두는 제도를 확립하였다. 그리고 선교사들이 전례 문제로 분란을 일으키자 금교령을 내려 그들의 활동을 제한하였다.

- ① 군기처를 설치하였다.
- ② 사서대전을 편찬하였다.
- ③ 삼변의 난을 진압하였다.
- ④ 마테오 리치를 후원하였다.
- ⑤ 네르친스크 조약을 체결하였다.

10. (가) 단체에 대한 설명으로 옳은 것은? [3점]

제○○호 세계사 신문 ○○○○년 ○○월 ○○일

(가) 창립



빅토리아 여왕이 인도 제국의 황제가 된 지 약 9년 후, 인도 주요 지도자들이 뭄바이에 모여 (가)을/를 결성하였다. 창립 대회에는 29개 지역에서 파견된 70여 명의 대표자들이 참가하였다. 창립 이후 (가)은/는 인도인의 장교 채용, 인도 직물 산업의 보호, 인도 문관 시험 제도의 개선, 입법 참사회의 확대 등을 요구하였다.

- ① 롤렛법 제정을 요구하였다.
- ② 세포이의 항쟁에 가담하였다.
- ③ 마라타 동맹의 결성을 지원하였다.
- ④ 인도 독립 동맹의 주도로 조직되었다.
- ⑤ 벵골 분할령을 계기로 반영 운동에 앞장섰다.

11. 다음 조약에 대한 설명으로 옳은 것은?

전쟁에 참가한 신성 로마 제국과 여러 국가들은 다음 사항에 합의한다.

- 신성 로마 제국 내의 국가들에서 '통치자가 종교를 선택한다.'라는 원칙을 재확인한다.
- 신성 로마 제국 내의 국가들은 자국의 안전을 위해 외국과 동맹을 맺을 수 있다.
- 프랑스는 알자스를, 스웨덴은 서부 포메른을 차지한다.

- ① 칼뱅파의 신앙을 인정하였다.
- ② 아우크스부르크에서 체결되었다.
- ③ 앙리 4세의 낭트 칙령 발표에 영향을 주었다.
- ④ 헨리 8세의 수장법(령) 제정의 계기가 되었다.
- ⑤ 황제 선출 방식을 규정한 황금문서의 발표를 이끌어 냈다.

12. 밑줄 친 '선언'에 대한 설명으로 옳은 것은?

바스티유가 함락되고 40여 일이 지난 후 프랑스 의회는 인류의 역사 발전에 이정표를 세우는 선언을 발표하였다. 영국의 논객 에드먼드 버크는 인간을 자유롭고 평등한 존재로 규정한 이 선언을 무모하게 매도하였다. ...(중략)... 버크는 인간이 아무런 권리도 갖고 있지 않다고 주장하는가?  
- 토마스 페인, 『인간의 권리』-

- ① 공화정 수립을 선포하였다.
- ② 루소 사상의 영향을 받았다.
- ③ 지롱드파의 주도로 작성되었다.
- ④ 테니스 코트의 서약에 영향을 끼쳤다.
- ⑤ 국민 의회의 봉건제 폐지 선언 이전에 발표되었다.

13. 다음 글에 대한 설명으로 옳은 것은? [3점]

케플러 선생님에게

저는 『천체의 회전에 관하여』를 발표한 천문학자의 견해가 옳다고 생각합니다. 또한 그의 주장에 반대하는 자들을 논박하는 많은 글을 썼지만, 아직까지는 세상에 내놓지 못하고 있습니다. ...(중략)... 확실히 당신 같은 사람들이 더 많아진다면 제 의견을 즉시 출간하겠지만, 그렇지 않으면 삼갈 것입니다.

갈릴레오 갈릴레이 드림

- ① 백과전서파의 영향을 받았다.
- ② 스콜라 철학의 성립에 기여하였다.
- ③ 루터의 종교 개혁에 영향을 주었다.
- ④ 코페르니쿠스의 지동설을 지지하였다.
- ⑤ 프린키피아(자연 철학의 수학적 원리)의 출간 이후에 쓰였다.

14. (가) 국가에 대한 설명으로 옳은 것은? [3점]

아디스아바바 평화 조약

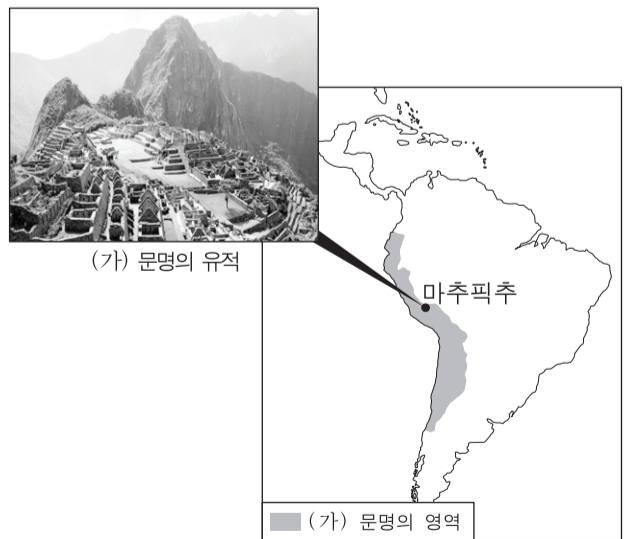
- 이탈리아와 (가)의 전쟁은 완전히 끝났다.
- 이탈리아는 (가)이/가 절대적 주권을 가진 독립 국가임을 인정한다.

19세기 말 유럽 열강이 아프리카 대부분을 식민지로 삼았지만 (가)은/는 이 조약으로 독립을 유지할 수 있었습니다.



- ① 탄지마트를 실시하였다.
- ② 아도와 전투에서 승리하였다.
- ③ 산마르틴이 독립 전쟁을 주도하였다.
- ④ 샤카 줄루가 주변 부족을 통합하였다.
- ⑤ 라마 4세가 근대적 개혁을 추진하였다.

15. (가) 문명에 대한 설명으로 옳은 것은?



- ① 우르두어를 사용하였다.
- ② 쿠시 왕국을 정복하였다.
- ③ 마누 법전을 편찬하였다.
- ④ 코르테스에 의해 멸망하였다.
- ⑤ 쿠스코가 중심지로 발달하였다.



16. 밑줄 친 '현재의 정부'에 대한 설명으로 옳은 것은? [3점]

러시아의 현 상황은 부르주아의 수중에 권력을 쥐어 주는 혁명 1단계로부터 프롤레타리아와 빈농층이 권력을 장악하는 2단계로 넘어가는 이행기라고 할 수 있다. 현재의 정부에 대해서는 그 어떤 지지도 보내서는 안 된다. 이제는 의회제 공화국의 수립이 당면 목표일 수 없다. 이미 노동자 대표 소비에트가 성립되어 있는 상황에서 의회제 공화국에 집착하는 것은 후퇴일 뿐이다. 전국적인 노동자·농업 노동자·농민 대표 소비에트 공화국을 수립해야 한다.

- ① 코민포름을 조직하였다.
- ② 두마(의회)를 창설하였다.
- ③ 농노 해방령을 발표하였다.
- ④ 독일과의 전쟁을 지속하였다.
- ⑤ 신경제 정책(NEP)을 추진하였다.

17. (가) 국가에 대한 설명으로 옳은 것은?



□ (가) 은/는 아프리카에서 노예를 포획하여 아메리카로 수출함으로써 많은 부를 축적하였다. 19세기 후반에는 용병을 활용하여 아프리카 식민지에 대한 장악력을 확대하였다.

■ 1900년 (가)의 식민지

- ① 미국과의 전쟁에서 패배하여 쿠바를 상실하였다.
- ② 이집트를 보호국으로 삼고 수에즈 운하를 차지하였다.
- ③ 동남아시아에 진출하여 인도차이나 연방을 수립하였다.
- ④ 16세기 동남아시아와 유럽 사이의 향신료 무역을 주도하였다.
- ⑤ 베를린, 비잔티움, 바그다드를 연결하는 3B 정책을 추진하였다.

18. (가), (나) 사이의 시기에 있었던 사실로 옳은 것은? [3점]


(가) 우마이야 가문의 아브드 알 라흐만이 이베리아반도에서 코르도바를 수도로 하는 새로운 왕조를 세웠다.

(나) 중앙아시아의 유목민 일파가 토그릴 베그의 지휘 아래 니샤푸르, 이스파한을 정복한 뒤 마침내 칼리프가 있는 바그다드에 입성하였고, 토그릴 베그는 술탄의 칭호를 받았다.

- ① 아바스 왕조가 몽골 제국에 정복당하였다.
- ② 예루살렘 왕국이 이슬람 세력에 의해 멸망하였다.
- ③ 델리를 수도로 하는 델리 술탄 왕조가 수립되었다.
- ④ 파티마 왕조가 수립되어 칼리프 칭호를 사용하였다.
- ⑤ 이슬람 세력이 당과의 탈라스 전투에서 승리하였다.

19. (가)에 들어갈 내용으로 옳은 것은?

이 건물은 한때 교황청으로 이용되었습니다. 필리프 4세의 압력을 받던 교황 클레멘스 5세는 교황청을 아비뇽으로 옮겼습니다. 그레고리우스 11세가 로마로 돌아가기까지의 시기를 아비뇽 유수라고 부르는데, 이 시기 유럽에서는 □ (가)



- ① 라틴 제국이 성립되었습니다.
- ② 백년 전쟁이 시작되었습니다.
- ③ 황제 레오 3세가 성상 파괴령을 내렸습니다.
- ④ 노르망디 공 윌리엄이 잉글랜드를 정복하였습니다.
- ⑤ 콘스탄츠 공의회가 후스를 이단으로 규정하였습니다.

20. 밑줄 친 '외교 원칙'에 대한 설명으로 옳은 것은?

델리에 와 주셔서 감사합니다. 양국이 베이징에서 합의한 외교 원칙을 콜롬보 회의에 참가한 국가들에게 제안했더니 모두 지지해 주었습니다.

정말 잘된 일입니다. 그럼 이번에 그 외교 원칙을 공식적으로 선언하는 것이 좋겠습니다.




네루
저우언라이

- ① 미국의 쿠바 봉쇄를 지지하였다.
- ② 마셜 계획의 근거를 마련하였다.
- ③ 브레턴우즈 체제의 기본 원칙이 되었다.
- ④ 바르샤바 조약 기구의 창설에 기여하였다.
- ⑤ 아시아·아프리카 회의 결성에 영향을 끼쳤다.

\* 확인 사항  
○ 답안지의 해당란에 필요한 내용을 정확히 기입(표기)했는지 확인하십시오.

제 4 교시

사회탐구 영역(법과 정치)

성명		수험 번호							
----	--	-------	--	--	--	--	--	--	--

1. 정치의 의미에 대한 관점 (가), (나)에 대한 설명으로 옳은 것은?

(가) 사회적 희소가치의 배분을 둘러싼 권력 현상은 국가 수준에서 형성되기 때문에 사회적 갈등을 해결하고 질서를 유지하는 국가의 활동을 정치로 보아야 한다.  
 (나) 권력 현상은 국가는 물론 다른 사회 집단에서도 나타나기 때문에 국가를 포함한 사회 집단이 갈등을 해결하고 사회 집단 내의 의사를 형성하는 것도 정치로 보아야 한다.

- ① (가)는 국가 형성 이전의 정치 현상을 설명하는 데 적합하다.
- ② (가)는 학생 자치회가 자선 바자회 수익금의 사용처를 결정하는 과정을 정치라고 본다.
- ③ (가)는 (나)에 비해 다원화된 현대 사회의 갈등 해결 양상을 설명하기에 용이하다.
- ④ (가)는 (나)와 달리 시민 단체가 정부 정책을 감시하고 비판하는 것을 정치라고 본다.
- ⑤ (가), (나) 모두 소수의 통치 엘리트가 정책을 결정하는 것을 정치라고 본다.

2. 법치주의를 보는 갑, 을의 관점에 대한 설명으로 옳은 것은?

갑: 법이 구속력을 갖는 것은 국민의 대표 기관인 의회가 일정한 절차를 거쳐 제정하였기 때문입니다. 따라서 법의 내용과 목적의 타당성 여부와 상관없이 그 법에 따른 권력 행사는 당연히 구속력을 가집니다.  
 을: 절차적 정당성을 갖춘 법이 곧 정의는 아니며, 정의롭지 못한 법이 합법적으로 제정되어 역사적 비극이 발생하기도 하였습니다. 법이 적법한 절차를 거쳤더라도 그 내용과 목적이 정의에 부합할 때에만 구속력을 갖게 됩니다.


- ① 갑의 관점은 절차적 정당성과 관계없이 실질적 정당성만 확보되면 법의 효력을 인정한다.
- ② 을의 관점은 국민의 자유와 권리 보장보다 통치의 합법성을 중시한다.
- ③ 갑과 달리 을의 관점은 국가가 국민의 기본권을 제한하거나 의무를 부과할 때 법에 근거를 두어야 한다고 본다.
- ④ 을과 달리 갑의 관점은 통치자를 제외한 모든 사람이 법에 구속되어야 한다고 본다.
- ⑤ 갑과 을의 관점 모두 국가 권력의 자의적 행사를 경계한다.

3. (가), (나)에 대한 설명으로 옳은 것은? (단, (가)와 (나)는 각각 고대 아테네 민주 정치, 근대 민주 정치 중 하나이다.) [3점]

(가) 국가의 주요 의제에 대한 최고 의결 권한을 가지는 기구가 있었고, 모든 시민은 이 기구에 참가하여 중요한 정치 문제를 토의하고 결정하였다.  
 (나) 시민에 의해 선출된 대표로 구성된 기구가 대의 기능을 수행하였으나, 공직 선출이나 정치 참여에 있어 재산, 성별 등에 따른 제한이 있었다.


- ① (가)에서는 국민 주권론에 근거한 정치 체제가 확립되었다.
- ② (가)에서는 국가 주요 사안을 시민들이 직접 결정할 수 있는 기회가 보장되었다.
- ③ (나)에서는 보통 선거 원칙이 확립되었다.
- ④ (가)에서는 (나)와 달리 입헌주의 원리가 확립되었다.
- ⑤ (가), (나) 모두 천부 인권 사상의 영향을 받아 발전하였다.

4. 다음 대화의 (가), (나)에 들어갈 수 있는 적절한 내용을 <보기>에서 고른 것은? (단, A와 B는 각각 양당제, 다당제 중 하나이다.)

의원 내각제 국가인 ○○국은 역사적으로 연립 정부를 구성해 왔으며, 현재에도 연립 정부가 구성되어 있습니다. ○○국의 정당 제도에 대한 자신의 의견을 말해 보세요. 

갑: ○○국의 정당 제도는 A입니다. A에서는 B에서보다 (가) 따라서 B가 바람직합니다.

을: 그렇지 않습니다. B에서는 A에서보다 (나) 따라서 ○○국은 현행 정당 제도를 유지하는 것이 바람직합니다.

모두 각 정당 제도의 특징을 근거로 한 타당한 의견을 제시하였습니다. 

— < 보기 > —

ㄱ. (가) - 강력한 정책 추진이 어렵습니다.  
 ㄴ. (가) - 다양한 의견을 반영하기 어렵습니다.  
 ㄷ. (나) - 다수당의 횡포 가능성이 높습니다.  
 ㄹ. (나) - 정책 실패에 대한 책임 소재가 불분명합니다.

- ① ㄱ, ㄴ    ② ㄱ, ㄷ    ③ ㄴ, ㄷ    ④ ㄴ, ㄹ    ⑤ ㄷ, ㄹ

5. 우리나라 헌법 기관 A, B에 대한 설명으로 옳은 것은? [3점]

A는 국무 회의의 심의를 거친 '○○의정서' 비준안을 결재하였다. 그러나 국회는 A가 '○○의정서'의 체결·비준에 대한 국회의 동의를 요구하지 않는 행위가 국회의 권한을 침해하였다고 주장하면서 B에 권한 쟁의 심판을 청구하였다.

- ① A는 국무 총리 해임 건의권을 가진다.
- ② A는 국가 예산의 결산 심사권을 가진다.
- ③ B는 위헌 법률 심판 제청권을 가진다.
- ④ B는 하급 법원의 판결에 대한 상고심을 담당한다.
- ⑤ A는 B의 재판관 9인을 임명한다.

6. A~C에 대한 설명으로 옳은 것은? (단, A~C는 각각 시민 단체, 이익 집단, 정당 중 하나에 해당하는 집단이다.)

A와 B는 대기 오염을 줄이기 위해 관련 법 개정에 공동의 노력을 하고 있다. A는 법 개정에 필요한 대기 오염 원인 및 해결 방안에 대한 정보를 B에 제공하기도 한다. B는 다가올 선거에서 관련 내용을 공약으로 제시하고 대기 환경 전문가도 영입해 공천할 예정이다. 반면 대기 오염 규제로 매출 감소가 예상되는 기업들로 조직된 C는 A와 B가 추진하고 있는 법안이 산업 발전을 저해할 것이라며 반대 여론 형성을 위한 방안을 모색하고 있다.

- ① A는 자신의 활동에 대해 정치적 책임을 진다.
- ② B는 국민의 대표를 배출하는 정치 충원 기능을 수행한다.
- ③ C는 사익의 실현보다 공익의 실현을 중시한다.
- ④ A와 달리 B와 C는 정치 사회화 기능을 수행한다.
- ⑤ C와 달리 A와 B는 정권 획득을 목표로 한다.

7. 다음 자료에 대한 분석 및 추론으로 옳은 것은? [3점]

갑국과 을국은 전형적인 정부 형태를 채택하고 있다. 갑국의 행정부 수반은 국민들의 직접 선거로 선출되는 반면, 을국의 행정부 수반은 의회에서 선출된다. 표는 (가)와 (나) 시기별 갑국과 을국의 정치 상황을 '행정부 수반 소속 정당이 의회에서 과반 의석을 차지하고 있는가?'를 기준으로 구분한 것이다.

국가 \ 시기	(가)	(나)
갑국	예	아니오
을국	아니오	예

- ① 갑국과 달리 을국의 행정부 수반은 의회에 법률안을 제출할 수 있는 권한이 없다.
- ② 을국과 달리 갑국의 행정부 수반은 국가 원수를 겸직하지 않는다.
- ③ 갑국의 경우, 행정부 수반의 법률안 거부권 행사 가능성은 (나)보다 (가)에서 높을 것이다.
- ④ 을국의 경우, 행정부 수반의 의회 해산권 행사 가능성은 (가)보다 (나)에서 높을 것이다.
- ⑤ 을국의 경우, 의회의 내각 불신임권 행사 가능성은 (나)보다 (가)에서 높을 것이다.

8. 기본권 A에 대한 설명으로 옳은 것은?

헌법 재판소는 집행 유예 기간 중인 자의 **A**을/를 제한하고 있는 ○○법의 해당 부분은 헌법 제37조 제2항을 위반하여 청구인들의 **A**을/를 침해하였을 뿐만 아니라 평등 원칙도 위반한 것이라고 결정하였다. 헌법 재판소는 그 이유에서 형사 책임과 주권의 행사는 다른 차원의 문제로서 범죄자가 저지른 범죄의 경중을 전혀 고려하지 않고 공동체의 운용을 주도하는 국가 조직의 구성에 참여하는 것을 전면적·확립적으로 제한하는 것은 헌법에 위반된다고 하였다.

- ① 국가의 정치 과정에 참여할 수 있는 능동적 권리이다.
- ② 민주주의의 이념 중 하나로서 다른 기본권 보장의 전제 조건이 된다.
- ③ 개인의 자유에 대한 국가 권력의 침해를 배제하는 방어적 권리이다.
- ④ 국민의 권리임과 동시에 국가의 존속과 유지를 위한 헌법상 의무이기도 하다.
- ⑤ 국민이 국가에 대하여 적극적으로 특정한 행위를 요구할 수 있는 수단적 권리이다.

9. 다음 자료에 대한 설명으로 옳은 것은? [3점]

우리나라 헌법의 기본 원리	관련 헌법 조문 예시	기본 원리의 실현 방안
(가)	모든 국민은 거주·이전의 자유를 가진다.	A
(나)	모든 국민은 인간다운 생활을 할 권리를 가진다.	B

- ① (가)는 국민의 기본적 생활을 국가가 보장해 주는 원리이다.
- ② (나)는 자유방임적 시장 경제 질서를 유지하는 것이 국가의 주된 역할임을 강조한다.
- ③ (가)는 (나)와 달리 법률 제정과 정책 결정의 방향을 제시한다.
- ④ A에는 '국가가 저소득층을 비롯한 주거 약자에게 안정적인 주거 환경을 우선적으로 보장하는 제도'가 들어갈 수 있다.
- ⑤ B에는 '국가가 치매를 비롯한 각종 질병으로 일상생활에 어려움을 겪고 있는 노인을 지원하는 제도'가 들어갈 수 있다.

10. 다음 사례에 대한 옳은 법적 판단을 <보기>에서 고른 것은? [3점]

갑은 2015년 ○○은행으로부터 1억 원을 대출받으면서 자신의 A주택에 저당권을 설정하였다. 그 후 갑은 임대차 기간을 정하지 않고 보증금 2억 원에 A주택을 임대하는 계약을 을과 체결하였다. 을은 2016년 12월 5일에 이사와 전입신고를 마치고, 같은 달 26일에 확정 일자를 받았다. 갑이 ○○은행의 대출금을 갚지 않자, ○○은행의 신청에 의해 2017년 11월 16일에 법원이 A주택에 대한 가압류 결정을 내렸다.

— < 보기 > —

- ㄱ. 을은 2016년 12월 26일에 주택 임대차 보호법상의 대항력을 취득한다.
- ㄴ. 을은 임대차 기간이 2년임을 주장할 수 있다.
- ㄷ. A주택에 대한 가압류 사실은 A주택 등기부의 기재 사항이다.
- ㄹ. A주택이 경매되는 경우, 을은 ○○은행보다 우선하여 보증금을 변제받을 수 있다.

- ① ㄱ, ㄴ    ② ㄱ, ㄷ    ③ ㄴ, ㄷ    ④ ㄴ, ㄹ    ⑤ ㄷ, ㄹ

11. 다음 사례에 대한 옳은 법적 판단을 <보기>에서 고른 것은?

갑(15세)이 부모로부터 학습용으로 받은 노트북을 부모의 동의 없이 단독으로 중고 판매업자 을(30세)에게 팔기로 약속하였다.

```

    graph TD
      Q1[계약 당시 갑은 의사 능력이 있었는가?] -- 아니요 --> A((A))
      Q1 -- 예 --> Q2[갑의 제한 능력을 이유로 계약을 취소할 수 있는가?]
      Q2 -- 아니요 --> B((B))
      Q2 -- 예 --> C((C))
    
```

— < 보기 > —

- ㄱ. A의 경우에 갑의 부모가 갑의 행위를 동의했다라도 계약의 효력은 없다.
- ㄴ. 계약 당시 의사 능력을 가진 갑이 문서로 을과 계약을 하였다면 B의 경우에 해당한다.
- ㄷ. C의 경우에 을은 갑에게 계약의 취소 여부에 대한 확답을 요구할 수 없다.
- ㄹ. C의 경우에 갑의 부모가 계약을 취소하면 을은 손해 배상을 청구할 수 있다.

- ① ㄱ, ㄴ    ② ㄱ, ㄷ    ③ ㄴ, ㄷ    ④ ㄴ, ㄹ    ⑤ ㄷ, ㄹ

12. 다음 사례에 대한 옳은 법적 판단만을 <보기>에서 있는 대로 고른 것은? [3점]

갑은 자신의 X건물을 2017년 10월 27일부터 임대하는 계약을 을과 체결하였다. 그리고 갑은 임차인 을과 약속한 외벽 도색을 위해 도색 전문 업체 사장 병과 2017년 10월 23일까지 도색을 완료하기로 하는 계약을 체결하였다. 도색 작업 중 병의 직원 정은의 부주의로 X건물의 창문이 깨지면서 떨어진 유리 파편에 행인 A가 부상당하였다. 이로 인해 작업이 지연되면서 을은 계약일보다 늦게 입주하였다.

— <보기> —

- ㄱ. 병은 을에게 채무 불이행으로 인한 손해 배상 책임을 지지 않는다.
- ㄴ. 병은 정은의 선임 및 그 사무 감독에 상당한 주의를 다하였음을 증명하면 A에게 특수 불법 행위 책임을 지지 않는다.
- ㄷ. 병이 A에게 특수 불법 행위 책임을 지는 경우, 정은 A에게 일반 불법 행위 책임을 지지 않는다.
- ㄹ. 정은 갑에게 일반 불법 행위 책임을 지지 않는다.

- ① ㄱ, ㄴ                      ② ㄱ, ㄹ                      ③ ㄷ, ㄹ
- ④ ㄱ, ㄴ, ㄷ                ⑤ ㄴ, ㄷ, ㄹ

13. 다음 사례에 대한 옳은 법적 판단을 <보기>에서 고른 것은?

갑은 아내와 사별 후 을과 재혼하였다. 갑과 을은 아이가 없어서 병의 아들 A(5세)를 합법적인 절차에 의해 친양자가 아닌 양자로 입양하였다. 이듬해 갑의 아들이라 주장하는 B가 재판을 통해 인지되었다. 2년 후 갑이 지병으로 사망하였는데, 사망 당시 갑은 채무 없이 7억 원의 재산을 남겼고, '모든 재산을 A에게 준다.' 라는 취지의 유언장이 발견되었다.

— <보기> —

- ㄱ. 입양된 A와 병의 친자 관계는 종료된다.
- ㄴ. 갑의 유언이 유효한 경우, B는 A에게 유류분의 반환을 청구할 수 있다.
- ㄷ. 갑의 유언이 무효이더라도 A는 법정 상속권을 가진다.
- ㄹ. 갑의 유언이 무효인 경우, 을은 4억 2천만 원을 상속받는다.

- ① ㄱ, ㄴ                      ② ㄱ, ㄷ                      ③ ㄴ, ㄷ                      ④ ㄴ, ㄹ                      ⑤ ㄷ, ㄹ

14. 다음 자료에 대한 설명으로 옳은 것은? (단, A와 B는 각각 국가, 초국가적 행위체 중 하나이다.) [3점]

전통적으로 국제 사회는 구성원에 대한 독점적 강제력을 가진 A에 의해 주도되었으나, 오늘날에는 국제 사회의 상호 의존성이 심화됨에 따라 국경을 넘어 활동하는 B가 등장하여 활동 영역을 넓혀 가고 있다. 국제 사회에서는 이와 같은 다양한 행위 주체들이 서로 갈등하기도 하고 협력하기도 한다. 이러한 국제 사회를 바라보는 관점 (가)은/는 국제 사회에서 힘의 논리가 지배적이기 때문에 협력이 어렵다고 보는 반면, (나)은/는 국제 사회에서 이해관계의 조화가 가능하며 협력을 통해 많은 문제를 해결할 수 있다고 본다.

- ① A는 국제 연합 총회에서 차등적 투표권을 가진다.
- ② B는 국제 사회에서 주권을 가진 독립적 행위 주체이다.
- ③ (가)는 A 사이에 힘의 균형이 이루어져야 평화가 유지된다고 본다.
- ④ (나)는 국제 사회에서 A의 이익 추구에 따른 갈등이 반복되고 있으며 B의 영향력은 쇠퇴하고 있다고 본다.
- ⑤ (가), (나) 모두 A와 B를 강제할 수 있는 중앙 정부가 국제 사회에 존재한다고 본다.

15. 다음 자료에 대한 법적 판단으로 옳은 것은? [3점]

**근로 계약서**

갑(사업자)과 을(근로자, 20세 남자)은 다음과 같이 근로 계약을 체결한다.

1. 계약 기간: 2017년 8월 30일부터 2017년 9월 24일까지
2. 근로 시간: 9시 ~ 18시(휴게 시간: 12시 ~ 13시)
3. 근무일: 매주 수요일부터 일요일까지(유급 휴일: 매주 월요일)
4. 임 금: 시간당 8,000원(연장 근로 시 임금의 50%를 연장 근로 수당으로 지급)
5. 업무 내용: ○○백화점의 주차 안내

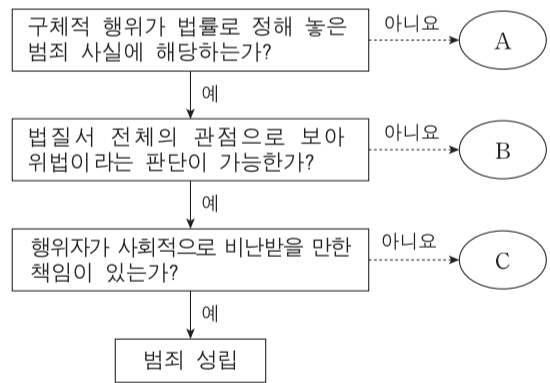
\* 근로 기준법상 연장 근로 시간은 1주간 12시간 이내이며, 이에 대한 예외 규정은 고려하지 않음.

- ① 을이 근무일에 하루 9시간 일했다면 하루 임금으로 72,000원을 받아야 한다.
- ② 근로 계약서의 근로 시간이 1일 8시간을 초과하였기에 해당 부분은 효력이 없다.
- ③ 갑이 을에게 매 근무일 21시까지 근로를 시키는 것은 서로 합의가 있어도 위법하다.
- ④ 을이 체결한 근로 계약서의 근로 기준법 준수 여부에 대해 근로 감독관은 감독 권한이 없다.
- ⑤ 을이 매주 수요일부터 일요일까지 개근하더라도 유급 휴일에 대한 임금을 추가로 받을 수 없다.

16. 다음 자료에 대한 옳은 법적 판단을 <보기>에서 고른 것은?

자료는 범죄가 성립되는 요건과 이를 적용한 형사 재판의 사례를 제시한 것이다.

<자료 1> 범죄의 성립 요건



<자료 2> 형사 재판 사례

구분	법원의 판단
사례 1	피고인 갑의 이 사건 행위는...(중략)... 타인의 법익에 대한 현재의 부당한 침해를 방위하기 위한 상당한 이유가 있는 행위에 해당한다.
사례 2	피고인 을은 범행 당시 정신 분열증에 의한 심신 장애로...(중략)... 판단 능력이 결여된 상태에 있었던 것으로 볼 여지가 있다.

— <보기> —

- ㄱ. 반사회적 행위는 A에 해당되어도 형사 처벌할 수 있다.
- ㄴ. 12세인 형사 미성년자의 행위가 C에 해당하더라도 소년법상 보호 처분을 받을 수 있다.
- ㄷ. 법원은 갑의 행위를 정당 행위로 보아 B로 판단하였다.
- ㄹ. 법원은 을의 행위가 C에 해당한다고 판단하더라도 재범의 위험성이 있는 경우, 을에게 치료 감호 처분을 내릴 수 있다.

- ① ㄱ, ㄴ                      ② ㄱ, ㄷ                      ③ ㄴ, ㄷ                      ④ ㄴ, ㄹ                      ⑤ ㄷ, ㄹ

17. 다음 사례에 대한 옳은 법적 판단을 <보기>에서 고른 것은? [3점]

- 갑은 '개업 기념 연회비 50% 할인' 광고를 보고 ○○헬스 클럽에 등록하려 하였으나, 직원으로부터 개인 트레이닝 10회를 의무적으로 받아야 할인가가 적용된다는 설명을 들었다. 이에 갑은 연회비 100만 원과 개인 트레이닝 비용 50만 원을 3개월 할부로 결제하였다. 하지만 이튿날 충동 계약임을 깨닫고 후회하고 있다.
- 을은 안전성이 뛰어나다는 광고를 보고 △△기업의 신형 전동 킥보드를 구매하였다. 이튿날 을은 공원에서 전동 킥보드를 타다가 제동 장치가 작동하지 않아 벽에 부딪쳐 크게 다쳤다. 이에 을은 △△기업에 보상을 요구하였지만 거절당했다.

— <보기> —

- ㄱ. 갑은 계약 체결 의사를 철회할 수 있다.
- ㄴ. 을은 △△기업의 고의 또는 과실을 증명하지 않아도 손해 배상을 받을 수 있다.
- ㄷ. 을은 한국 소비자의 피해 구제 절차가 진행 중인 경우에는 민사 소송을 제기할 수 없다.
- ㄹ. 갑은 소비자의 선택할 권리, 을은 소비자의 안전하고 쾌적한 환경에서 소비할 권리를 침해당했다.

- ① ㄱ, ㄴ    ② ㄱ, ㄷ    ③ ㄴ, ㄷ    ④ ㄴ, ㄹ    ⑤ ㄷ, ㄹ

18. 국제법의 법원(法源) A, B에 대한 설명으로 옳은 것은? (단, A와 B는 각각 국제 관습법, 조약 중 하나이다.)

외교 관계에 관한 국제법은 매우 오랜 역사를 가지고 있다. 대표적인 예로 '외교관은 어떠한 형태의 체포 또는 구금을 당하지 아니하며 접수국은 외교관의 신체, 자유, 품위가 침해되지 않도록 적절한 조치를 취해야 한다.'라는 오래된 관행이 유럽에서는 이미 16세기 말 이전에 A가 된 것을 들 수 있다. 이후 상주 외교 사절의 파견이 일반화됨에 따라 이 관행은 국가들 간에 채택된 「외교 관계에 관한 비엔나 협약 (1961년)」의 내용으로 포함되면서 또 다른 국제법의 법원인 B가 되었다.

- ① A는 원칙적으로 이를 승인한 국가에만 법적 구속력이 발생한다.
- ② B는 국제 사회에서 포괄적 구속력이 있다.
- ③ A는 B와 달리 강제적으로 집행할 국제기구가 있다는 특징이 있다.
- ④ B는 A와 달리 당사국 간 명시적인 합의 절차를 거쳐야만 성립된다.
- ⑤ A, B 모두 우리나라에서는 국회의 동의가 있어야만 법적 효력을 갖는다.

19. (가)에 들어갈 법적 조언으로 옳은 것은?

Q: 저의 남편은 퇴근 후 동료들과 회식 중, 사소한 시비로 동료를 때려 전치 6주의 부상을 입힌 후 구속되어 현재 조사를 받고 있습니다. 앞으로 저의 남편에 대한 절차는 어떻게 진행되며 무엇을 준비해야 하는 건가요?

A: \_\_\_\_\_ (가)

- ① 영장 실질 심사를 통해 석방될 수 있습니다.
- ② 진행 중인 수사 절차가 종결되면 석방됩니다.
- ③ 선고 유예를 받더라도 형사 보상을 받을 수 있습니다.
- ④ 형사 재판에서 배상 명령이 내려진 경우, 민사상 강제 집행을 받을 수 있습니다.
- ⑤ 피해자와 그 가족의 생활을 위한 범죄 피해자 구조금을 마련해 놓고 있어야 합니다.

20. 다음 자료에 대한 분석 및 추론으로 옳은 것은? [3점]

○○국 의회 의원 정수는 4명으로, 4개 선거구(A1~A4)에서 단순 다수제로 의원을 선출하고 있다. 현재의 의원 정수와 대표 결정 방식은 유지하되, 인구 이동을 고려하여 선거구를 재획정하기로 하고 다음과 같은 개편안을 논의하고 있다.

- 인구가 증가한 B지역(B1~B4)을 분리하여 이 지역을 2개의 선거구로 획정함.
- 각각의 A지역에서 B지역을 제외한 나머지 지역을 a지역(a1~a4)으로 함. 예를 들어, A1에서 B1을 제외한 나머지 지역이 a1임. 그리고 a지역도 2개의 선거구로 획정함.
- 경계선이 접한 선거구 혹은 지역끼리만 통합하고, 대각선 방향으로의 통합은 고려하지 않음.
- 하나의 선거구 유권자 수가 다른 선거구 유권자 수의 2배 이상이 되지 않도록 함.

<자료 1>은 ○○국 선거구 및 지역별 유권자 수를, <자료 2>는 최근 의회 의원 선거에서의 각 정당 후보 득표율을 나타낸다.

<자료 1>			<자료 2>				
(단위: 명)			(단위: %)				
선거구	유권자 수	지역	정당	A1	A2	A3	A4
A1 (300)	B1 (200) B2 (200) B3 (100) B4 (100)	A2 (300)	갑	60	30	20	10
A3 (200)			을	30	50	60	50
A4 (200)			병	10	20	20	40

- \* <자료 1>의 ( ) 안 수치는 유권자 수이며, A1~A4 선거구 유권자 수는 각각 B1~B4 지역 유권자 수를 포함한 수치임.
- \*\* B1~B4 지역과 a1~a4 지역의 정당 후보 득표율은 현행 제도에서 각각 속해 있던 A1~A4 선거구 정당 후보 득표율과 동일함.
- \*\*\* 투표율은 100%이며, 무효표는 없음.
- \*\*\*\* 개편안의 경우, 위 <자료 1>과 <자료 2>를 근거로 차기 선거 결과를 판단함.

- ① 최근 의회 의원 선거 결과, 갑 정당과 을 정당은 과소 대표되었다.
- ② 개편안의 경우, a지역에 비해 B지역 유권자 의사가 과대 대표된다.
- ③ 갑 정당의 경우, 현행 선거구 획정 방식보다 a1과 a3을 통합하는 개편안이 유리하다.
- ④ 을 정당의 경우, 개편안에서 a1과 a2의 통합보다는 a1과 a3을 통합하는 선거구 획정 방식이 유리하다.
- ⑤ 병 정당의 경우, 현행 선거구 획정 방식보다 개편안이 유리하다.

\* 확인 사항

- 답안지의 해당란에 필요한 내용을 정확히 기입(표기)했는지 확인하십시오.

제 4 교시

사회탐구 영역(경제)

성명  수험 번호

1. 밑줄 친 '정책'으로 인해 갑국 경제에 나타날 변화에 대한 추론으로 가장 적절한 것은?

갑국은 정부의 계획과 명령에 의해서 경제 문제를 해결하는 경제 체제를 채택하고 있었다. 경제의 활력과 생산성이 갈수록 떨어지자 갑국은 시장 경제 체제의 요소를 도입하여 다음과 같은 정책을 실시하였다.

- 국영 기업 대부분을 민영화하였다.
- 사유 재산의 허용 범위를 확대하였다.

- ① 기업 간 경쟁이 줄어들 것이다.
- ② 개인의 경제적 자율성이 약화될 것이다.
- ③ '보이지 않는 손'의 기능이 강화될 것이다.
- ④ 자원의 희소성으로 인한 문제가 사라질 것이다.
- ⑤ 민간 경제 주체의 사익 추구가 불가능해질 것이다.

2. 그림에 나타난 경제 주체와 경제 활동에 대한 설명으로 옳은 것은? [3점]



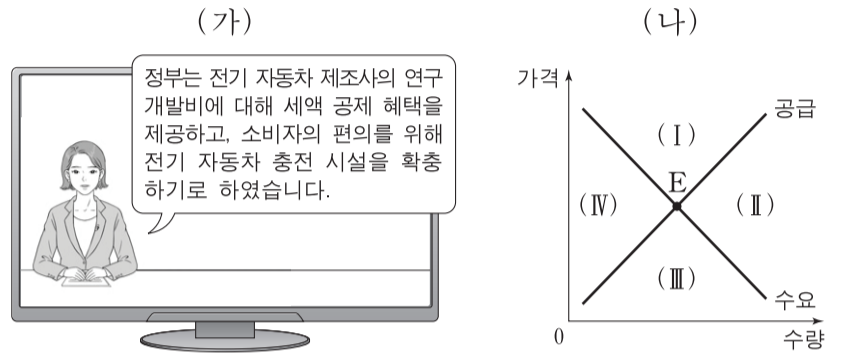
- ① 쇼핑물 ㉠은 효용 극대화를 추구하는 경제 주체이다.
- ② 택배사 ㉡은 노동 시장에서 수요자 역할을 한다.
- ③ 갑은 생산물 시장에서 공급자 역할을 한다.
- ④ 을의 행위는 생산 활동에 해당하지 않는다.
- ⑤ 갑이 쇼핑물 ㉠에 지불한 금액은 비소비 지출에 해당한다.

3. 다음 자료의 (가)를 관리하는 방법으로 옳지 않은 것은?

(가) 은/는 금융 소비자가 대출을 약속대로 상환할 가능성을 수치화한 지표로서, 금융 소비자의 신용 거래 조건을 결정하는 중요한 기준이다. 이것은 나빠지는 것보다 좋아지는 것이 더 어렵기 때문에 관리에 신경 써야 한다.

- ① 연체가 발생하지 않도록 주의한다.
- ② 빈번하고 과도한 대출을 자제한다.
- ③ 주거용 금융 회사를 정하여 거래한다.
- ④ 신용카드 현금 서비스 이용을 자제한다.
- ⑤ 대출 시 상환 능력보다 경제적 필요를 우선시한다.

4. (가)는 갑국의 경제 뉴스를, (나)는 갑국의 전기 자동차 시장 상황을 나타낸다. 갑국 정부 정책의 효과가 나타날 때 현재의 균형점 E가 이동할 영역으로 옳은 것은? [3점]



- ① (I)    ② (II)    ③ (III)    ④ (IV)    ⑤ 불변

5. 다음 자료의 카드 A에 들어갈 수 있는 옳은 내용을 <보기>에서 고른 것은?

**경제 안정화 정책 카드 게임**

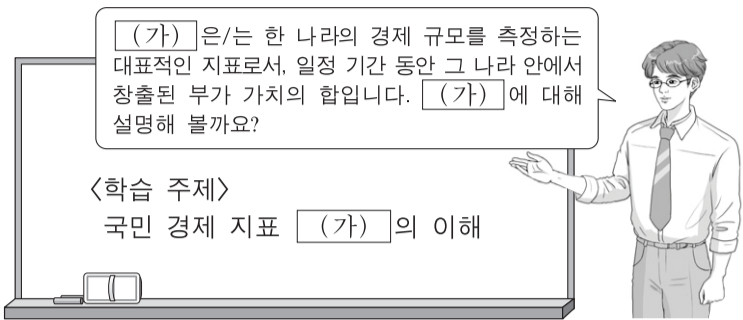
- 게임 규칙: 두 장의 카드를 뒤집어 카드에 적힌 경제 안정화 정책이 실질 GDP를 동일한 방향으로 변동시키는 요인이면 뒤집은 두 장의 카드를 가져간다.
- 갑은 다음과 같이 카드를 뒤집어 게임 규칙에 따라 두 장을 가져갔다.

지금 준비율  
인하

A

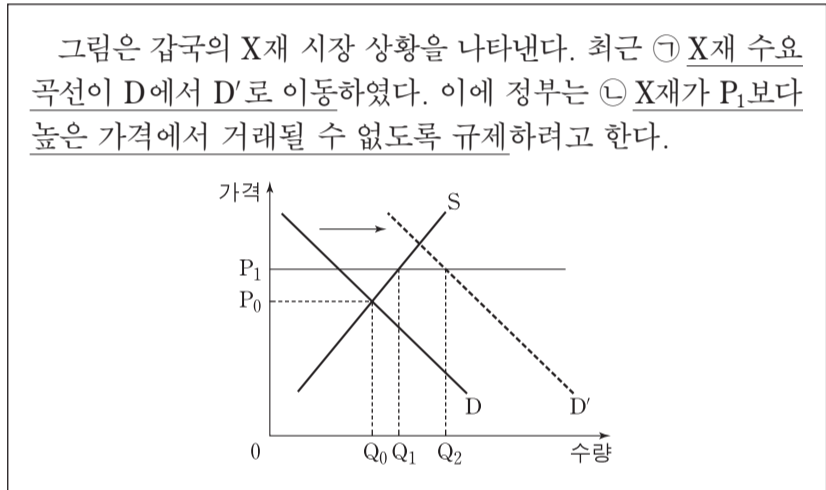
- <보기>
- |            |                   |
|------------|-------------------|
| ㉠. 재할인율 인상 | ㉡. 국공채 매입         |
| ㉢. 소득세율 인하 | ㉣. 사회 간접 자본 투자 축소 |
- ① ㉠, ㉡    ② ㉠, ㉢    ③ ㉡, ㉢    ④ ㉡, ㉣    ⑤ ㉢, ㉣

6. 교사의 질문에 대한 학생의 답변으로 옳지 않은 것은? [3점]



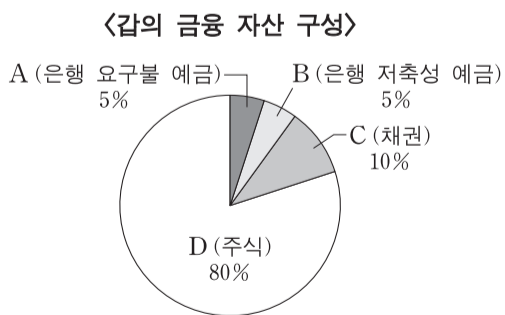
- ① 중간 생산물과 최종 생산물의 시장 가치의 합입니다.
- ② 지출 측면이나 분배 측면에서 측정하더라도 동일합니다.
- ③ 한 나라의 계층 간 소득 불평등 정도를 반영하지 못합니다.
- ④ 국내에서 생산하여 해외로 수출한 자동차는 (가)의 계산에 포함됩니다.
- ⑤ 금전적 대가를 받지 않는 봉사 활동은 (가)의 계산에 포함되지 않습니다.

7. 밑줄 친 ㉠, ㉡에 대한 설명으로 옳은 것은?



- ① X재의 대체재 가격 하락은 ㉠의 요인이 될 수 있다.
- ② ㉡은 시장 가격 하락을 억제하기 위한 것이다.
- ③ ㉠, ㉡의 결과 Q<sub>1</sub>Q<sub>2</sub>의 초과 수요가 발생할 것이다.
- ④ ㉠에도 불구하고 ㉡으로 인해 거래량은 Q<sub>0</sub>에서 증가하지 않을 것이다.
- ⑤ ㉡ 시행 후 수요 곡선이 D'에서 D로 되돌아오면 시장 가격은 P<sub>1</sub>일 것이다.

8. 그림은 갑이 보유하고 있는 금융 자산의 구성을 나타낸다. A~D의 일반적 특성과 갑의 금융 투자 성향에 대한 설명으로 옳은 것은?



- ① A는 예금자 보호 제도의 대상이 아니다.
- ② B는 D에 비해 수익성이 높다.
- ③ C는 A에 비해 유동성이 높다.
- ④ D 보유자는 시세 차익과 배당금을 기대할 수 있다.
- ⑤ 갑은 수익성보다 안전성을 우선시하는 투자 성향을 보이고 있다.

9. 다음 자료에 대한 분석으로 옳은 것은? [3점]

갑국은 최근 소득세제를 (가)에서 (나)로 변경하였다. 표는 (가), (나)의 과세 대상 소득 구간별 세율을 나타낸다.

구분	과세 대상 소득 구간	세율
(가)	전 구간	10%
(나)	4천만 원 이하	5%
	4천만 원 초과	20%

\* (나)의 적용 예시: 과세 대상 소득이 5천만 원인 경우, 4천만 원에 대해서는 5%의 세율을 적용하고 4천만 원을 초과하는 1천만 원에 대해서는 20%의 세율을 적용한다.

- ① (가)는 과세 대상 소득에 상관없이 세액이 일정하다.
- ② (나)는 과세 대상 소득의 증가율이 세액의 증가율보다 크다.
- ③ (나)에서 과세 대상 소득 대비 세액의 비중은 과세 대상 소득이 5천만 원일 때와 6천만 원일 때가 같다.
- ④ 과세 대상 소득이 2천만 원일 때 세액은 (가)가 (나)보다 크다.
- ⑤ (나)는 (가)와 달리 조세 부담이 역진적이다.

10. 그림은 ○○모듬의 수행 평가 보고서 일부이다. (가)에 들어갈 수 있는 옳은 내용을 <보기>에서 고른 것은? [3점]

[경제 수행 평가 보고서]

**주제: X재에 대한 보조금 지급의 효과**

제출 모듬: ○○

○X재 시장 상황

○보조금 지급 전후의 균형점

지급 전: 사회적 편익과 시장 공급이 일치하는 수준에서 거래

↓ 소비자에게 단위당 일정액의 보조금 지급

지급 후: 사회적 편익과 시장 공급이 일치하는 수준에서 거래

○보조금 지급 규모 및 결과에 대한 분석

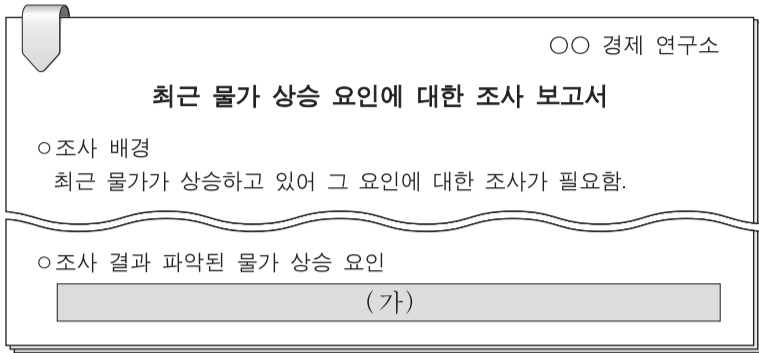
- (가)

⋮

- <보기>
- ㄱ. 지급된 보조금 액수는 단위당 P<sub>0</sub>P<sub>2</sub>이다.
  - ㄴ. 시장 거래량은 Q<sub>0</sub>에서 Q<sub>1</sub>로 증가하였다.
  - ㄷ. 소비자가 지불하는 단위당 금액은 변화가 없다.
  - ㄹ. 소비에서의 외부 불경제 문제가 개선되었다.

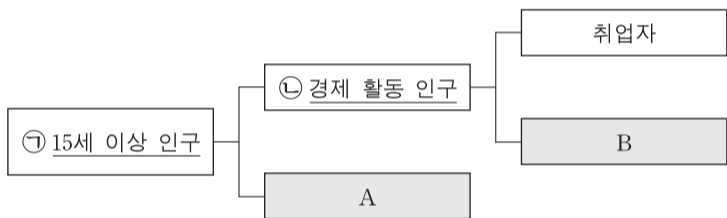
- ① ㄱ, ㄴ    ② ㄱ, ㄷ    ③ ㄴ, ㄷ    ④ ㄴ, ㄹ    ⑤ ㄷ, ㄹ

11. 그림은 갑국 ○○ 경제 연구소의 조사 보고서 일부이다. (가)에 들어갈 수 있는 내용으로 옳은 것은? [3점]



- ① 소비 심리의 위축
- ② 민간 투자 지출의 감소
- ③ 가계의 처분 가능 소득 감소
- ④ 갑국이 수입하는 원자재의 가격 상승
- ⑤ 갑국 제품을 수입하는 국가의 경기 침체

12. 그림은 우리나라의 고용 지표와 관련된 인구 구성을 나타낸다. 이에 대한 설명으로 옳은 것은?



- ① ㉠이 일정할 때 A가 감소하면 경제 활동 참가율은 하락한다.
- ② ㉡이 일정할 때 B가 증가하면 실업률은 상승한다.
- ③ 직장에 다니면서 야간 대학원에 다니는 경우 A에 해당한다.
- ④ 군 제대 후 대학에 복학하는 경우 A에서 B로 바뀐다.
- ⑤ 기업에서 해고된 직후 구직 활동을 하는 경우 B에서 A로 바뀐다.

13. 대화의 밑줄 친 ㉠, ㉡의 영향에 대한 추론으로 옳은 것은? (단, 환율 변동 이외의 다른 조건은 고려하지 않으며 국제 거래는 달러화로 이루어진다.)



- ① ㉠으로 인해 미국산 제품의 한국 내 판매 가격은 상승했을 것이다.
- ② ㉠으로 인해 한국 기업의 달러화 표시 외채 상환 부담은 증가했을 것이다.
- ③ ㉡으로 인해 미국으로부터 원재료를 수입하는 일본 기업의 부담은 증가했을 것이다.
- ④ ㉡으로 인해 일본에서 임금을 달러화로 받아 엔화로 환전하여 생활하는 사람은 불리해졌을 것이다.
- ⑤ ㉠, ㉡으로 인해 미국 시장에서 일본 기업과 경쟁하는 한국 기업의 가격 경쟁력은 높아졌을 것이다.

14. 다음 자료에 대한 분석으로 옳은 것은?

- 갑은 집에 태양광 패널 설치를 고려하고 있다. 태양광 패널은 월 20kWh의 전력을 생산한다. 패널 설치 비용은 40만 원이며, 이 설치 비용은 갑이 이사하여 패널을 이동하면 또 부담해야 한다. 갑은 설치 비용과 전기 요금만 고려하여 결정한다.
- 표는 전기 요금 체계를 나타낸다.

월 전력 사용량 구간(kWh)	요금(원/kWh)
200 이하	100
200 초과 ~ 400 이하	200
400 초과	300

\* 적용 예시: 월 전력 사용량이 300kWh인 경우, 200kWh에 대해서는 100원/kWh를 적용하고 200kWh를 초과하는 100kWh에 대해서는 200원/kWh를 적용한다.

- 태양광 패널을 설치하면 월 전력 사용량에서 태양광 패널이 생산한 20kWh를 제외한 전력량에 대해 전기 요금을 부담한다.

- ① 태양광 패널 없이 한 달에 300kWh를 사용하면 월 전기 요금은 3만 원이다.
- ② 한 달에 400kWh를 사용할 때 태양광 패널이 있다면 없을 때보다 월 5천 원의 전기 요금이 절약된다.
- ③ 매달 300kWh를 사용할 때 태양광 패널 설치 후 90개월간 절약된 전기 요금은 설치 비용과 같다.
- ④ 매달 500kWh를 사용할 때 6년 후에 이사할 예정이라면 태양광 패널을 설치할 것이다.
- ⑤ 전기 요금 체계가 개편되어 모든 구간에 kWh당 100원이 적용되면 태양광 패널 설치의 경제적 유인이 커진다.

15. 다음 자료에 대한 분석으로 옳은 것은? [3점]

표는 X재와 Y재만을 생산하는 갑국과 을국에 대한 자료이다. 양국은 비교 우위가 있는 재화의 생산에만 특화하여 교역하며, 교역은 거래 비용 없이 양국 간에만 이루어진다. 양국의 생산 가능 곡선은 직선이고, 양국이 보유한 생산 요소의 양은 같다.

(단위: 개)

구분	갑국			을국		
	교역 전 최대 생산 가능량	교역량	교역 후 소비량	교역 전 최대 생산 가능량	교역량	교역 후 소비량
X재	㉠	㉡ 35	55	120	35	35
Y재	60	30	30	㉢	㉣ 30	110

\* 교역 전 최대 생산 가능량: 모든 생산 요소를 한 재화 생산에만 투입했을 때의 최대 생산량

- ① ㉠은 90, ㉢은 100이다.
- ② 갑국은 X재 생산에, 을국은 Y재 생산에 절대 우위가 있다.
- ③ 갑국의 X재 1개 생산의 기회비용은 Y재 2/3개이다.
- ④ ㉡은 갑국의 수입량, ㉣은 을국의 수출량이다.
- ⑤ 교역 조건은 X재 1개당 Y재 7/6개이다.



16. 표에 대한 옳은 분석을 <보기>에서 고른 것은? (단, 기준 연도는 2013년이고 물가 수준은 GDP 디플레이터로 측정한다.)

(전년 대비, 단위: %)

구분	2014년	2015년	2016년
실질 GDP 증가율	0	3	-3
물가 상승률	2	0	1

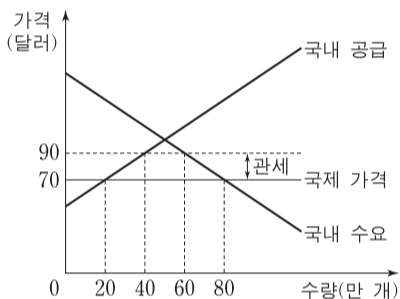
<보기>

- ㄱ. 2014년의 명목 GDP 증가율은 2%이다.
- ㄴ. 2015년의 명목 GDP와 실질 GDP는 같다.
- ㄷ. GDP 디플레이터는 2016년에 가장 높다.
- ㄹ. 2014년과 2016년의 경제 규모는 같다.

- ① ㄱ, ㄴ    ② ㄱ, ㄷ    ③ ㄴ, ㄷ    ④ ㄴ, ㄹ    ⑤ ㄷ, ㄹ

17. 다음 자료에 대한 설명으로 옳지 않은 것은? [3점]

그림은 갑국의 X재 시장 상황을 나타낸다. 갑국은 국제 가격에 개당 20달러의 관세를 부과하여 X재를 수입하고 있다. 단, X재의 국제 가격은 일정하며 이 가격에서 X재를 무제한 수입할 수 있다.



- ① 수입량은 20만 개이다.
- ② 관세 수입은 400만 달러이다.
- ③ 국내 생산자의 판매 수입은 3,600만 달러이다.
- ④ 관세를 폐지하면 수입량은 20만 개 증가할 것이다.
- ⑤ 관세를 폐지하면 국내 소비자 잉여 증가분은 국내 생산자 잉여 감소분보다 클 것이다.

18. 다음 자료에 대한 분석으로 옳은 것은? [3점]

갑국 정부는 건강에 유해한 X재의 단위당 세금을 인상하였다. 표는 인상 전후의 X재 단위당 세금과 시장 가격을 나타낸다. 세금 인상 후 1년간 X재로부터의 세금 수입은 인상 전 1년간 세금 수입의 2배가 되었다. 단, 세금 인상 이외에 시장 가격에 영향을 주는 다른 요인은 없었다.

(단위: 천 원)

구분	인상 전	인상 후
단위당 세금	1	3
시장 가격	3	4

\* 시장 가격은 세금을 포함한다.

- ① 세금 인상 후 시장 가격은 25% 상승하였다.
- ② 공급은 가격에 대해 완전 탄력적이었다.
- ③ 세금 인상 후 소비자 잉여는 감소하였고 생산자 잉여는 변하지 않았다.
- ④ 세금 인상 후 1년간 거래량은 인상 전 1년간 거래량의 절반이다.
- ⑤ 세금 인상 후 1년간 판매 수입은 인상 전 1년간 판매 수입보다 적다.

19. 표는 갑국의 2016년 경상 수지를 나타낸다. 이에 대한 분석으로 옳은 것은?

(단위: 억 달러)

경상 수지			
상품 수지	서비스 수지	본원 소득 수지	이전 소득 수지
120	-20	10	-35

- ① 재화의 수출액은 전년 대비 120억 달러 증가하였다.
- ② 해외 투자에 따른 배당금을 기록하는 항목은 적자이다.
- ③ 서비스 거래에 따른 외화 유출액이 유입액보다 많았다.
- ④ 해외에 제공한 공적 개발 원조액을 기록하는 항목은 흑자이다.
- ⑤ 경상 수지는 달러화 대비 갑국 통화 환율의 상승 요인이다.

20. 다음 자료에 대한 분석으로 옳은 것은? [3점]

- △△시는 A, B에게 도서관과 체육관에 대한 편익을 물어 A, B가 응답한 편익의 합이 더 큰 시설 하나를 건립하고자 한다. 건립 시설이 결정된 후 비용 일부는 A, B에게 다음과 같이 부과된다.

$$\begin{aligned} \text{A의 부담금} &= (\text{두 시설에 대한 B의 응답 편익 중 높은 편익}) \\ &\quad - (\text{건립되는 시설에 대한 B의 응답 편익}) \\ \text{B의 부담금} &= (\text{두 시설에 대한 A의 응답 편익 중 높은 편익}) \\ &\quad - (\text{건립되는 시설에 대한 A의 응답 편익}) \end{aligned}$$

- 표는 A, B가 각 시설에서 얻는 실제 편익을 나타낸다.

(단위: 억 원)

구분	A의 편익	B의 편익
도서관	6	2
체육관	2	4

- A, B 각각의 순편익은 건립되는 시설에서 얻는 실제 편익에서 자신의 부담금을 뺀 값이다.
- A, B는 각 시설에 대해 실제 편익대로 응답할 수도 있고 실제 편익과 다르게 응답할 수도 있다. 표의 (가)~(다)는 발생 가능한 상황 중 일부이다.

상황	A의 응답	B의 응답
(가)	두 시설 모두 실제 편익대로 응답	두 시설 모두 실제 편익대로 응답
(나)	실제 편익이 더 큰 시설에서 얻는 편익은 1/2배로 응답, 다른 시설에서 얻는 편익은 실제 편익대로 응답	두 시설 모두 실제 편익대로 응답
(다)	두 시설 모두 실제 편익대로 응답	실제 편익이 더 큰 시설에서 얻는 편익은 2배로 응답, 다른 시설에서 얻는 편익은 실제 편익대로 응답

- ① (가)에서 A의 부담금은 4억 원이다.
- ② (나)에서는 도서관이 건립된다.
- ③ (나)에서 A의 부담금은 1억 원이다.
- ④ (다)에서 B의 순편익은 2억 원이다.
- ⑤ B의 순편익은 (다)보다 (가)에서 크다.

\* 확인 사항

- 답안지의 해당란에 필요한 내용을 정확히 기입(표기)했는지 확인 하시오.

제 4 교시

사회탐구 영역 (사회·문화)

성명  수험 번호

1. 밑줄 친 ㉠~㉣과 같은 현상의 일반적인 특징에 대한 질문에 모두 옳게 응답한 학생은?

철새는 계절에 따라 ㉠일정한 대형으로 무리 지어 이동한다. ㉡자신의 이익만을 좇아 이리저리 옮겨 다니는 사람을 지칭할 때 철새라는 말을 쓰지만, 철새의 이동 방식에는 과학적 원리와 지혜가 숨어 있다. 한 연구 팀이 철새에게 측정 장비를 달아 ㉢위치와 속도, 날갯짓 횟수 등을 분석한 결과, V자 대형으로 날 때 ㉣앞선 새가 만드는 상승 기류로 인해 에너지 소모를 줄이는 효과가 있었다. 또한 철새들은 가장 힘이 드는 맨 앞자리를 번갈아 가며 비행하여 협력하는 것으로 나타났다.

질문	학생	갑	을	병	정	무
㉠과 같은 현상은 존재 법칙을 따르는가?		×	×	○	○	○
㉡과 같은 현상은 경험적 자료를 바탕으로 연구할 수 있는가?		×	○	×	○	○
㉢과 같은 현상은 인간의 가치가 반영되어 나타나는가?		○	○	×	○	○
㉣과 같은 현상은 같은 조건 하에서는 항상 동일한 결과가 발생하는가?		×	○	○	×	○

(○: 예, ×: 아니오)

- ① 갑      ② 을      ③ 병      ④ 정      ⑤ 무

2. 갑, 을이 강조하는 연구 윤리에 대한 옳은 설명을 <보기>에서 고른 것은?

연구자는 연구 목적과 절차, 연구가 미칠 수 있는 영향 등을 연구 대상자에게 공지하고 자료 수집에 대하여 허락을 받아야 합니다.



연구자는 정직한 방법으로 자료를 수집해야 하며, 의도한 결론을 이끌어 내기 위해 자료를 왜곡하여 분석해서는 안 됩니다.



<보기>

- ㄱ. 공동 연구 성과를 단독 연구 성과로 발표하는 것은 갑이 강조하는 연구 윤리에 어긋난다.
- ㄴ. 연구 대상자에게 연구 참여에 대한 동의를 받지 않는 것은 갑이 강조하는 연구 윤리에 어긋난다.
- ㄷ. 연구 의뢰자의 이익을 위해 자료를 조작하여 분석하는 것은 을이 강조하는 연구 윤리에 어긋난다.
- ㄹ. 갑은 자료 분석 단계에서, 을은 연구 결과 발표 단계에서 지켜야 할 연구 윤리를 강조하고 있다.

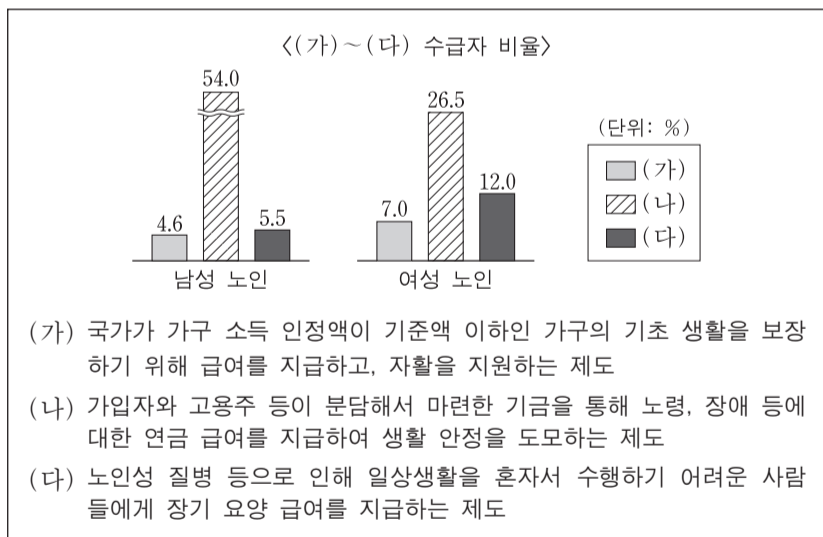
- ① ㄱ, ㄴ      ② ㄱ, ㄷ      ③ ㄴ, ㄷ      ④ ㄴ, ㄹ      ⑤ ㄷ, ㄹ

3. 일탈 이론 (가)~(다)에 대한 설명으로 옳은 것은? [3점]

- (가) 공식적으로 일탈자라고 규정되면 성공을 위한 합법적 수단으로부터 배제되고 일탈자라는 자아 개념을 가지게 되어, 미래의 일탈 가능성이 증가하게 된다. 결국 일탈자라고 규정짓는 것은 사회적 지위를 부여하는 것과 같다.
- (나) 경제적 성공을 강조하는 문화를 구성원 모두가 공유하는 사회에서, 제도화된 수단이 부족한 특정 계층은 성공에 어려움을 겪게 된다. 따라서 이들은 불법적인 방법을 통해서라도 성공하려고 시도함으로써 일탈 행동을 하게 된다.
- (다) 하층에 속한 사람들이 일탈 행동을 많이 한다는 주장이 있지만, 하층에서도 일부만 일탈 행동을 한다. 이들이 일탈 행동을 하는 것은 일탈자와의 상호 작용을 통해 일탈적 가치와 태도를 수용하기 때문이다.

- ① (가)는 (다)와 달리 사회의 지배적 가치와 규범을 사회화하지 못함으로써 일탈 행동이 발생한다고 본다.
- ② (나)는 (가)와 달리 일탈 행동의 발생에 있어 타인과의 상호 작용을 통한 학습 과정을 강조한다.
- ③ (다)는 (나)와 달리 일탈 행동을 초래하는 사회 구조의 영향력을 강조한다.
- ④ (가)는 (나), (다)와 달리 일탈이 행동의 속성에 의해서가 아니라 그에 대한 사회적 반응에 의해 규정된다고 본다.
- ⑤ (나)는 (가), (다)와 달리 지배 집단의 기득권 보호를 위한 사회 제도 때문에 일탈 행동이 발생한다고 본다.

4. 자료는 우리나라 성별 노인 인구 중에서 사회 보장 제도 (가)~(다) 각각의 수급자 비율을 나타낸 것이다. 이에 대한 설명으로 옳은 것은? [3점]



- ① (나)는 (다)와 달리 상호 부조 원리가 적용된다.
- ② (다)는 (가)와 달리 사후 처방적 성격을 지닌다.
- ③ (가)~(다) 중 강제 가입 원칙이 적용되는 제도의 경우, 전체 노인 수급자 중에서 성별 비율은 남성이 여성의 2배 이상이다.
- ④ (가)~(다) 중 소득 재분배 효과가 있는 제도의 경우, 남성 노인 인구 중에서 수급자 비율과 여성 노인 인구 중에서 수급자 비율은 모두 10% 미만이다.
- ⑤ (가)~(다) 중 수혜자 비용 부담 원칙이 적용되지 않는 제도의 경우, 여성 노인 인구 중에서 수급자 비율이 남성 노인 인구 중에서 수급자 비율보다 높다.

5. 다음은 자료 수집 방법 A~D를 분류한 것이다. 이에 대한 설명으로 옳은 것은? (단, A~D는 각각 면접법, 실험법, 질문지법, 참여 관찰법 중 하나이다.) [3점]

구분		주로 계량화된 자료를 수집하는 데 활용되는가?	
		예	아니요
(가)	예	A	B
	아니요	C	D

- ① (가)는 '인위적으로 통제된 상황에서 변수의 효과를 관찰하는 방법인가?'가 적절하다.
- ② (가)가 '언어적 상호 작용에 의한 자료 수집이 필수적인가?'라면 A는 질문지법, D는 참여 관찰법이다.
- ③ (가)가 '자료 수집 시 연구 대상자의 응답이 필수 요건인가?'라면 B는 면접법, C는 질문지법이다.
- ④ A가 질문지법이라면 (가)는 '다수를 대상으로 한 자료 수집에 주로 사용되는가?'가 적절하다.
- ⑤ B가 참여 관찰법이라면 (가)는 '연구자가 현상이 실제로 발생한 현지에 가서 연구해야 하는가?'가 적절하다.

6. 밑줄 친 'A 이론'에 대한 옳은 설명을 <보기>에서 고른 것은?

사회 불평등 현상을 설명하는 A이론은 생산 수단의 소유 여부와 더불어 소득이나 부의 크기도 계급을 결정하는 요인으로 본다. 그러나 소득이나 부의 크기는 계급 관계의 산물일 뿐, 계급을 구분하는 요인은 아니다. 또한 A이론에서 사회 불평등을 구성하는 요인으로 보는 지위나 파당도 기본적으로 계급 관계에 의해 규정될 뿐이며, 그 자체로는 독자적인 기원을 가지지 못한다.

— < 보 기 > —

- ㄱ. 지위 불일치 가능성을 인정한다.
- ㄴ. 다차원적 측면에서 사회 불평등 현상을 파악한다.
- ㄷ. 동일 집단 구성원 간의 강한 연대 의식을 강조한다.
- ㄹ. 사회 불평등 현상을 불연속적으로 구분되어 있는 상태로 본다.

- ① ㄱ, ㄴ    ② ㄱ, ㄷ    ③ ㄴ, ㄷ    ④ ㄴ, ㄹ    ⑤ ㄷ, ㄹ

7. 사회·문화 현상을 바라보는 갑~병의 관점에 대한 설명으로 옳은 것은? [3점]

사회자: 노인 소외의 원인에 대하여 말씀해 주십시오.  
 갑: 급격한 사회 변동에 따라 가치관과 규범이 변화되고, 세대 간의 관계도 새롭게 정의되었습니다. 사회 변화에 노인들이 적응할 수 있도록 지원하는 정책이 미비하여 노인들이 소외되는 것입니다.  
 을: 가족 구성원들이 노인을 의존적인 존재로 여기고, 노인도 이를 수용하면서 스스로 위축될 수밖에 없습니다. 그러다 보니 자녀들과 원활한 의사소통을 하지 못하여 노인들이 소외되는 것입니다.  
 병: 현대 사회에서는 경제력을 가진 사람들이 주도권을 갖게 됩니다. 부와 권력의 분배를 중년층이 좌우하면서 노인들의 능력이나 노력과 상관없이 사회적 역할에서 노인들을 배제해 그들이 소외되는 것입니다.

- ① 갑의 관점은 상황에 대한 개인의 주관적 의미 부여를 강조한다.
- ② 을의 관점은 사회가 필연적으로 변화하며 집단 간 갈등이 변화의 동력이라고 본다.
- ③ 병의 관점은 기득권층의 이익을 대변하는 논리로 사용된다는 비판을 받는다.
- ④ 갑의 관점은 병의 관점과 달리 사회 구성 요소의 기능과 역할은 사회적으로 합의된 것이라고 본다.
- ⑤ 을, 병의 관점은 갑의 관점과 달리 사회 문제를 설명하는 데 사회 구조적 요인을 중시한다.

8. 다음 연구에 대한 설명으로 옳은 것은? (단, (가)~(라)는 연구 과정을 순서 없이 나열한 것이다.)

- 연구 주제 설정: 정보 격차 문제를 파악하기 위해 A 지역 고등학생의 인터넷 이용 형태에 부모의 경제 수준 및 부모의 인터넷 이용 형태가 미치는 영향을 탐구하기로 하였다.
- (가) ㉠ 부모의 경제 수준이 높을수록 자녀의 정보 지향적 인터넷 이용 정도가 높아지고, ㉡ 부모의 정보 지향적 인터넷 이용 정도가 높을수록 자녀의 정보 지향적 인터넷 이용 정도가 높아질 것이라고 가설을 설정하였다.
- (나) A 지역에서 선정된 6개 ㉢ 고등학교 학생 1,000명 중 ㉣ 부모도 응답 가능한 300명을 대상으로 구조화된 질문지를 통해 자료를 수집하였다.
- (다) 경제 수준은 ㉤ 월평균 소득으로, 정보 지향적 인터넷 이용 정도는 ㉥ 인터넷 이용 시간 중 정보 검색 시간 비중으로 측정하기로 하였다.
- (라) 부모의 월평균 소득에 따라 자녀의 정보 검색 시간 비중은 통계적으로 유의미한 차이가 나타나지 않았다. 반면 부모의 정보 검색 시간 비중이 높을수록 자녀의 정보 검색 시간 비중은 통계적으로 유의미하게 높아지는 것으로 나타났다.

- ① ㉠은 독립 변수, ㉡은 종속 변수이다.
- ② ㉢은 모집단, ㉣은 표본이다.
- ③ ㉤은 ㉠의, ㉥은 ㉡의 조작적 정의에 해당한다.
- ④ (라)로 보아 가설은 검증되었다.
- ⑤ (다) - (나) - (가) - (라) 순서로 연구가 진행되었다.

9. A~C의 일반적인 특징에 대한 설명으로 옳은 것은? (단, A~C는 각각 전체 문화, 반문화, 반문화의 성격이 없는 하위문화 중 하나이다.)

구분	A	B	C
한 사회 내에서 일부 구성원들만 공유하는 문화인가?	예	예	아니요
한 사회의 지배적인 문화를 거부하거나 저항하는 문화인가?	예	아니요	아니요

- ① A는 B와 달리 기존의 지배적인 문화를 대체하기도 한다.
- ② B는 A와 달리 주류 집단에 의해 일탈로 규정되기도 한다.
- ③ A를 공유하는 구성원은 C의 문화 요소 중 일부를 공유한다.
- ④ A, B는 C와 달리 해당 문화를 향유하는 구성원들 공통의 정체성 형성에 기여한다.
- ⑤ B, C는 A와 달리 사회에 따라 상대적으로 규정된다.

10. 다음 탐구 활동을 적절하게 수행한 모둠을 고른 것은? [3점]

<모둠별 탐구 활동>

가족 제도 및 가족 문제와 관련하여 모둠별로 주어진 가설을 검증하기에 적절한 자료를 제시하십시오.

모둠	가설	자료
A	수도권 지역은 비수도권 지역에 비해 핵가족의 비율이 높을 것이다.	수도권과 비수도권 각각의 1세대 가구 수와 2세대 가구 수 및 3세대 이상 가구 수
B	기혼자의 가사 노동 시간은 연령대가 낮을수록 성별 격차가 작을 것이다.	결혼 여부에 따른 성인의 연령별 주당 평균 가사 노동 시간
C	도시는 농촌에 비해 1인 가구의 비율이 높을 것이다.	도시와 농촌 각각의 가구 구성원 수별 가구 수
D	맞벌이 가정은 외벌이 가정에 비해 부부 간의 대화 시간이 적을 것이다.	기혼자와 그 배우자 각각의 직업 유무에 따른 부부 간 하루 평균 대화 시간

- ① A 모둠, B 모둠    ② A 모둠, C 모둠    ③ B 모둠, C 모둠
- ④ B 모둠, D 모둠    ⑤ C 모둠, D 모둠

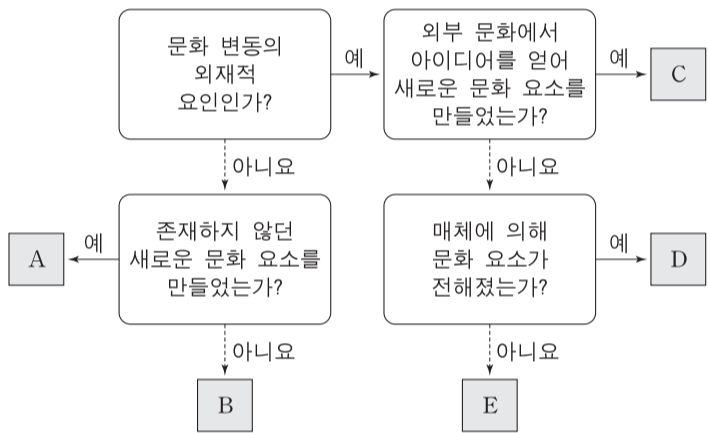
11. (가), (나)에 해당하는 내용으로 옳은 것은? (단, A~C는 각각 인쇄 매체, 영상 매체, 뉴 미디어 중 하나이다.) [3점]

‘정보의 생산자와 소비자 간 경계가 모호한가?’ 라는 질문을 통해 A와 B를 구분할 수 있다. 하지만 ‘시청각 정보 제공이 가능한가?’ 라는 질문으로는 B와 C를 구분할 수 없다. 표는 대중 매체 A~C를 대중 매체의 특징 (가), (나)를 기준으로 비교한 것이다.

대중 매체의 특징	비교 결과
(가)	A > B
(나)	B > C

- ① (가): 정보 전달의 신속성
- ② (가): 정보 획득 시 사용 가능한 감각의 다양성
- ③ (가): 정보 전달 시 문맹자의 정보 접근 가능성
- ④ (나): 정보의 복제와 재가공의 용이성
- ⑤ (나): 정보 전달자와 수용자 간 구분의 명확성

12. 그림은 문화 변동 요인 A~E를 구분한 것이다. 이에 대한 설명으로 옳은 것은? (단, A~E는 각각 발견, 발명, 간접 전파, 자국 전파, 직접 전파 중 하나이다.)



- ① 물질문화, 비물질문화 모두 A를 통해 만들어질 수 있다.
- ② 특정 종교의 창시는 B의 사례이다.
- ③ 상호 인적 교류가 없는 집단들 간에는 D를 통한 문화 변동이 이루어질 수 없다.
- ④ D와 달리 E는 C의 원인이 될 수 있다.
- ⑤ A, B와 달리 C, D, E는 문화 지체 현상을 초래할 수 있다.

13. 다음은 어느 가족의 주간 일정표이다. 이에 대한 옳은 설명만을 <보기>에서 있는 대로 고른 것은?

우리 가족 주간 일정

갑(교사)	을(회사원)	병(중학생)
화: 교육청 출장 수: 대학원 수업 참석 금: 지역 ㉠ 시민 단체 대표자 회의 참석 토: 가족 외식	월: 사내 야구 동호회 경기 참가 수: 노동조합 조합원 총회 참석 토: 가족 외식	수: 청소년 봉사 단체 정기 모임 참석 금: ㉡ 학급 소풍 참가 토: 가족 외식

<보기>

- ㄱ. ㉠, ㉡은 선택적 의지에 의해 형성되는 이익 사회이다.
- ㄴ. 갑, 을은 병과 달리 자발적 결사체에 소속되어 있다.
- ㄷ. 을, 병은 갑과 달리 비공식 조직에 소속되어 있다.
- ㄹ. 갑~병 모두 공동 사회와 공식 조직에 소속되어 있다.

- ① ㄱ, ㄴ                      ② ㄱ, ㄹ                      ③ ㄴ, ㄷ
- ④ ㄱ, ㄷ, ㄹ                ⑤ ㄴ, ㄷ, ㄹ

14. 갑, 을의 문화 이해 태도에 대한 설명으로 가장 적절한 것은? [3점]

blog: OO 씨의...

OO 씨의 여행기

남태평양 군도에 사는 A 부족은 마른 과일로 만든 팥이를 사용하여 코코넛 말뚝을 쓰러뜨리는 방식의 놀이를 즐기는데, 이는 볼링과 흡사하다. 그렇지만 볼링과 달리 이 놀이의 목적은 상대 팀보다 많은 말뚝을 쓰러뜨려 이기는 것이 아니다. 이 놀이는 두 팀이 같은 수의 말뚝을 쓰러뜨릴 때까지 진행된다. 그들이 이런 놀이를 즐기는 것은 타인과 경쟁하는 행위가 나쁜 것이라고 믿고 있기 때문이다.

댓글 달기

↳ 갑: A 부족이 의미 없게 왜 이런 놀이를 하는지 모르겠어. 시간 낭비일 뿐이야. 놀이에서조차 경쟁하지 않으니 사회가 발전하지 못하는 거야. A 부족도 경쟁을 통해 사회를 발전시켜 온 우리나라를 본받아야 해.

↳ 을: A 부족이 경쟁을 나쁜 것이라고 믿는 것이나 우리나라가 경쟁을 중시하는 것 모두 각 사회의 역사와 전통 속에서 선택된 삶의 방식이라고 생각해. 둘 다 그 나름의 의미가 있어.

- ① 갑의 태도는 모든 문화가 동등한 가치를 지닌다고 본다.
- ② 을의 태도는 자문화 정체성을 상실할 우려가 있다는 비판을 받는다.
- ③ 갑의 태도는 을의 태도와 달리 특정 사회의 문화를 기준으로 타 문화를 평가할 수 있다고 본다.
- ④ 을의 태도는 갑의 태도와 달리 국수주의로 변질될 수 있다는 비판을 받는다.
- ⑤ 갑, 을의 태도는 모두 문화의 다양성 보존에 기여한다.

15. 다음 자료를 통해 참 또는 거짓으로 진위 여부를 판단할 수 있는 진술만을 <보기>에서 있는 대로 고른 것은?

<갑국의 지역별, 계층별 학생 1인당 월평균 교육비>  
(단위: 만 원)

구분	연도	2010년	2013년	2016년
전체	연도	24.0	23.9	25.6
	지역			
도시	연도	26.6	27.1	29.0
	연도	22.1	21.5	23.2
계층	상층	45.3	39.6	41.6
	중층	24.6	23.4	23.4
	하층	9.2	10.0	8.8

\* 갑국의 모든 학생을 대상으로 조사하였으며 무응답은 없음.  
\*\* 지역은 도시와 농촌으로만, 계층은 상층, 중층, 하층으로만 구분함.

<보기>

- ㄱ. 2013년과 2016년에 월평균 가구 소득 중에서 학생 1인당 월평균 교육비가 차지하는 비율이 중층에서는 같다.
- ㄴ. 2010년부터 2016년까지 농촌 지역에서는 학생 1인당 월평균 교육비가 지속적으로 증가하였다.
- ㄷ. 2010년, 2016년 모두에서 계층 수준과 학생 1인당 월평균 교육비는 정(+)의 관계이다.
- ㄹ. 제시된 모든 연도에서 농촌 지역 학생이 도시 지역 학생보다 많다.

- ① ㄱ, ㄴ                      ② ㄱ, ㄷ                      ③ ㄷ, ㄹ
- ④ ㄱ, ㄴ, ㄹ                ⑤ ㄴ, ㄷ, ㄹ

16. 밑줄 친 ㉠~㉣에 대한 설명으로 옳은 것은? [3점]

유명 연예인인 어머니의 반대에도 불구하고, 배우가 되고 싶었던 갑은 ㉠ 연예인 2세라는 것을 숨기고 ㉡ A 인터넷 쇼핑몰에서 모델로 일하며 ㉢ 연기 학원에서 연기와 노래를 배우고 있었다. 갑은 스스로 인지도를 높이기 위해 ㉣ 시청자 평가단의 투표 결과에 따라 ㉤ 가수 데뷔가 결정되는 ㉥ TV 프로그램에 지원하여 치열한 경쟁 과정을 통해 가수로 데뷔하였다. 인기가 높아지자 갑은 가수로 계속 활동해야 할지 가수를 그만두고 원래 계획했던 대로 배우로 전향해야 할지 ㉦ 고민이다.

- ① ㉠, ㉡ 모두 개인의 능력과 노력에 의해 획득한 지위이다.
- ② ㉢은 비공식적 사회화 기관, ㉣은 2차적 사회화 기관이다.
- ③ ㉤은 갑의 외집단이자 준거 집단이다.
- ④ ㉥은 재사회화에 해당한다.
- ⑤ ㉦은 갑의 역할 갈등에 해당한다.

17. 개인과 사회의 관계를 바라보는 관점 (가), (나)에 대한 옳은 설명을 <보기>에서 고른 것은?

(가)에 따르면 결혼, 가족, 종교의 본질은 해당 제도에 대응되는 개인적 욕구인 성적 욕구, 부모의 애정, 종교적 본능 등으로 구성된 것이다. 이 경우 개인의 정신 상태가 유일하게 관찰 가능한 대상이 된다. 그러나 제도란 그 자체로 다양하고 복합적인 역사적 맥락을 가지며 개인의 의식 외부에 실체로서 존재하는 것이다. 실체가 존재하지 않는다면 사회학은 그 자체의 연구 대상을 가질 수가 없기에, (나)을 바탕으로 할 때 사회학이 연구 대상을 가지게 된다.

—<보기>—

ㄱ. (가)는 사회가 개인들의 속성으로 환원될 수 없다고 본다.  
 ㄴ. (가)는 사회가 개인의 자율적인 의지에 의해 형성된다고 본다.  
 ㄷ. (나)는 개인이 사회 속에서만 존재 의미를 갖는다고 본다.  
 ㄹ. (나)는 개인들이 옳다고 믿기 때문에 사회 규범이 존재한다고 본다.

- ① ㄱ, ㄴ    ② ㄱ, ㄷ    ③ ㄴ, ㄷ    ④ ㄴ, ㄹ    ⑤ ㄷ, ㄹ

18. 표는 (가), (나)를 적용하여 A~C의 일반적인 특징을 비교한 것이다. 이에 대한 설명으로 옳은 것은? (단, A~C는 각각 농업 사회, 산업 사회, 정보 사회 중 하나이다.) [3점]

비교 기준 \ 사회	A	B	C
(가)	+++	+	++
(나)	++	+++	+

\* +의 개수가 많을수록 높음, 빠름, 강함을 의미함.

- ① (가)가 '가정과 일터의 분리 정도' 이면 A는 C보다 관료제 조직의 비중이 높다.
- ② (가)가 '구성원의 비대면 접촉 정도' 이면 C는 B보다 확대 가족의 비중이 높다.
- ③ (나)가 '구성원 간의 익명성 정도' 이면 A는 B보다 전자 상거래의 비중이 높다.
- ④ (가)가 '사회 변동의 속도' 이면, (나)는 '사회의 다원화 정도' 가 적절하다.
- ⑤ (나)가 '직업의 동질성 정도' 이면, (가)는 '의사 결정의 분권화 정도' 가 적절하다.

19. 사회 변동의 방향을 보는 관점 (가), (나)에 대한 설명으로 옳은 것은?

(가) 단순한 생물체가 점차 그 조직의 구조가 분화되고 통합되어 복합적인 생물체로 변화되듯이, 사회 또한 사회를 구성하는 집단이 증가할 뿐만 아니라 집단 간 결합이 양적, 질적으로 강화되는 방향으로 변화될 것이다.  
 (나) 한 사회가 일련의 도전에 어떻게 반응하는가에 따라 변동 방향이 좌우된다. 그 반응의 성공 여부에 의해 개별 사회가 성장하고 쇠퇴하는데, 결국 인류 문명에서 이러한 성장과 쇠퇴는 지속적으로 되풀이될 것이다.

- ① (가)는 사회가 주기적으로 동일한 과정을 통해 변동하는 것으로 본다.
- ② (나)는 서구의 제국주의 역사를 정당화하는 수단으로 악용될 수 있다는 비판을 받는다.
- ③ (가)는 (나)와 달리 모든 사회가 일정한 방향으로 발전한다고 본다.
- ④ (나)는 (가)와 달리 선진국과 후진국 간의 불평등한 힘의 관계에 주목한다.
- ⑤ (가), (나) 모두 서구 사회가 밟아 왔던 변동의 과정이 최선의 것은 아니라고 본다.

20. 다음 자료에 나타난 갑국의 세대 간 계층 이동에 대한 옳은 분석을 <보기>에서 고른 것은? (단, 계층은 상층, 중층, 하층으로만 구분하며, A~C는 각각 상층, 중층, 하층 중 하나이다.) [3점]

<세대 간 계층별 구성 비율의 상대적 비>

구분	A	B	C
부모 세대 해당 계층 대비 자녀 세대 해당 계층의 상대적 비	0.5	1	2

<세대 간 계층 이동 현황> (단위: %)

구분	A	B	C
부모 세대 해당 계층 대비 부모와 자녀의 계층 불일치 비율	75	0	50

\* 모든 부모의 자녀는 1명이고, 부모 세대의 계층 구조는 다이아몬드형임.  
 \*\* A는 C보다 높은 계층이며, 부모 세대의 계층 구성비에서 A는 B와 C를 합한 것의 1.5배임.

—<보기>—

ㄱ. 세대 간 상승 이동한 자녀가 세대 간 하강 이동한 자녀의 3배이다.  
 ㄴ. 자녀 세대 계층 대비 계층 대물림 비율은 상층이 가장 높고 하층이 가장 낮다.  
 ㄷ. 중층으로 세대 간 상승 이동한 자녀와 중층으로 세대 간 하강 이동한 자녀의 수는 같다.  
 ㄹ. 세대 간 계층 이동을 한 사람의 수는 중층 부모를 둔 자녀가 하층 부모를 둔 자녀의 3배이다.

- ① ㄱ, ㄴ    ② ㄱ, ㄷ    ③ ㄴ, ㄷ    ④ ㄴ, ㄹ    ⑤ ㄷ, ㄹ

\* 확인 사항  
 ○ 답안지의 해당란에 필요한 내용을 정확히 기입(표기)했는지 확인하십시오.

2018학년도 대학수학능력시험

사회탐구 영역 정답표  
( 생활과 윤리 ) 과목

문항 번호	정 답	배 점	문항 번호	정 답	배 점	문항 번호	정 답	배 점	문항 번호	정 답	배 점
1	③	2	6	①	2	11	②	3	16	⑤	2
2	①	2	7	⑤	3	12	⑤	2	17	⑤	3
3	④	3	8	⑤	3	13	⑤	3	18	③	3
4	②	2	9	②	2	14	④	2	19	④	2
5	③	3	10	①	3	15	②	3	20	④	2

2018학년도 대학수학능력시험

사회탐구 영역 정답표  
( 윤리와 사상 ) 과목

문항 번호	정 답	배 점	문항 번호	정 답	배 점	문항 번호	정 답	배 점	문항 번호	정 답	배 점
1	⑤	2	6	④	3	11	③	2	16	⑤	2
2	③	2	7	⑤	2	12	⑤	3	17	①	2
3	④	2	8	②	2	13	④	3	18	③	3
4	②	3	9	②	3	14	①	2	19	②	3
5	①	3	10	②	3	15	③	3	20	④	2

2018학년도 대학수학능력시험

사회탐구 영역 정답표  
( 한국 지리 ) 과목

문항 번호	정 답	배 점	문항 번호	정 답	배 점	문항 번호	정 답	배 점	문항 번호	정 답	배 점
1	①	3	6	③	2	11	⑤	2	16	⑤	2
2	⑤	2	7	⑤	3	12	②	2	17	②	2
3	①	2	8	④	3	13	①	3	18	③	2
4	④	3	9	③	2	14	③	3	19	①	3
5	③	3	10	⑤	2	15	②	3	20	①	3



2018학년도 대학수학능력시험

사회탐구 영역 정답표  
( 세계 지리 ) 과목

문항 번호	정 답	배 점	문항 번호	정 답	배 점	문항 번호	정 답	배 점	문항 번호	정 답	배 점
1	③	2	6	⑤	3	11	④	3	16	①	2
2	②	2	7	④	3	12	②	3	17	①	2
3	②	3	8	⑤	3	13	②	2	18	⑤	3
4	④	2	9	⑤	2	14	③	3	19	④	3
5	①	3	10	③	2	15	⑤	2	20	⑤	2

2018학년도 대학수학능력시험

사회탐구 영역 정답표  
( 동아시아사 ) 과목

문항 번호	정 답	배 점	문항 번호	정 답	배 점	문항 번호	정 답	배 점	문항 번호	정 답	배 점
1	④	2	6	⑤	3	11	②	2	16	①	3
2	②	2	7	①	2	12	⑤	2	17	⑤	2
3	④	3	8	③	3	13	①	3	18	①	3
4	③	2	9	④	3	14	④	3	19	③	2
5	①	3	10	③	2	15	②	2	20	⑤	3

2018학년도 대학수학능력시험

사회탐구 영역 정답표  
( 세계사 ) 과목

문항 번호	정 답	배 점	문항 번호	정 답	배 점	문항 번호	정 답	배 점	문항 번호	정 답	배 점
1	①	2	6	①	3	11	①	2	16	④	3
2	①	3	7	⑤	3	12	②	2	17	④	2
3	③	3	8	④	2	13	④	3	18	④	3
4	③	2	9	①	2	14	②	3	19	②	2
5	④	3	10	⑤	3	15	⑤	2	20	⑤	2

2018학년도 대학수학능력시험

사회탐구 영역 정답표  
( 법과 정치 ) 과목

문항 번호	정 답	배 점	문항 번호	정 답	배 점	문항 번호	정 답	배 점	문항 번호	정 답	배 점
1	⑤	2	6	②	2	11	②	2	16	④	2
2	⑤	2	7	⑤	3	12	①	3	17	①	3
3	②	3	8	①	2	13	③	2	18	④	2
4	②	2	9	⑤	3	14	③	3	19	④	2
5	⑤	3	10	③	3	15	③	3	20	④	3

2018학년도 대학수학능력시험

사회탐구 영역 정답표  
( 경제 ) 과목

문항 번호	정 답	배 점	문항 번호	정 답	배 점	문항 번호	정 답	배 점	문항 번호	정 답	배 점
1	③	2	6	①	3	11	④	3	16	②	2
2	②	3	7	③	2	12	②	2	17	④	3
3	⑤	2	8	④	2	13	③	2	18	⑤	3
4	②	3	9	④	3	14	④	2	19	③	2
5	③	2	10	①	3	15	③	3	20	⑤	3

2018학년도 대학수학능력시험

사회탐구 영역 정답표  
( 사회·문화 ) 과목

문항 번호	정 답	배 점	문항 번호	정 답	배 점	문항 번호	정 답	배 점	문항 번호	정 답	배 점
1	⑤	2	6	①	2	11	④	3	16	②	3
2	③	2	7	④	3	12	①	2	17	③	2
3	④	3	8	④	2	13	②	2	18	①	3
4	⑤	3	9	③	2	14	③	3	19	③	2
5	②	3	10	⑤	3	15	⑤	2	20	④	3